

2014학년도 대학수학능력시험 문제 및 정답

- 매교시 종료 후 탑재됩니다.(맹인 수험생 시험시간 기준)
- 모든 문제 및 정답은 PDF파일로 되어 있습니다.(단, 듣기 파일은 MP3파일)
- 탑재된 파일은 수험생에게 제공된 문제지와 다르게 보일 수도 있습니다.

저작권 안내

이 문제지에 관한 저작권은 [한국교육과정평가원](#)에 있습니다.

한국교육과정평가원의 허락없이 문제의 일부 또는 전부를 무단 복제, 배포, 출판, 전자출판 하는 등 저작권을 침해하는 일체의 행위를 금합니다.



제 4 교시

사회탐구 영역(생활과 윤리)

성명 수험 번호

1. 갑, 을이 강조하고 있는 윤리학의 주요 탐구 과제를 <보기>에서 고른 것은?

갑: 오늘날 삶의 실천적인 영역에서 새로운 윤리 문제들이 제기되고 있어. 따라서 윤리학은 생태 윤리 문제, 정보 윤리 문제 등에 대한 윤리적 해결 방안을 찾아야 해. 즉, 윤리학은 이론 지향적이 아니라 실천 지향적이어야 해.
 을: 나는 윤리학의 학문적 성립 가능성을 규명하는 것이 중요하다고 생각해. 따라서 윤리학은 '선한 삶이란 무엇인가?'를 묻지 말고, '선하다'는 말이 참, 거짓의 여부를 알 수 있는 과학적 명제처럼 검증 가능한 성질의 것인지를 물어야 해.

— <보기> —
 가. 특정 시대의 관습에 대해 조사하고 객관적으로 기술한다.
 나. 도덕 원리를 응용하여 구체적 삶의 도덕 문제를 해결한다.
 다. 도덕적 언어의 의미와 논리적 타당성을 엄밀히 분석한다.
 라. 도덕의 규범적 근거로서 객관적인 도덕법칙을 정립한다.

- | | | | |
|-----|---|-----|---|
| 갑 | 을 | 갑 | 을 |
| ① 가 | 나 | ② 가 | 다 |
| ③ 나 | 다 | ④ 나 | 라 |
| ⑤ 다 | 라 | | |

2. (가) 사상의 입장에서 볼 때, 퍼즐 (나)의 세로 낱말 (A)에 대한 설명으로 가장 적절한 것은?

(가)	피로움[苦], 피로움의 원인[集], 피로움의 사라짐[滅], 그리고 피로움의 사라짐으로 인도하는 방법[道]을 바른 통찰지로 보는 사람은 모든 피로움에서 벗어날 것이다.																				
(나)	<table border="1" style="margin: 0 auto;"> <tr><td></td><td></td><td></td><td></td><td></td></tr> <tr><td></td><td></td><td>(A)</td><td></td><td></td></tr> <tr><td></td><td>(B)</td><td></td><td></td><td></td></tr> <tr><td></td><td></td><td></td><td></td><td></td></tr> </table> <p>[가로 열쇠] (A): 나를 나답게 만들어 주는 연속적이고 독자적인 특성. ○○정체성 (B): 어떤 원인으로부터 반드시 그에 따른 결과가 나올 수밖에 없다는 것. 인과적 □□성</p> <p>[세로 열쇠] (A): …… 개념</p>								(A)				(B)								
		(A)																			
	(B)																				

- 아무런 목적이 없는 무위(無爲)의 질서 체계이다.
- 인간이 마땅히 지켜야 할 예법(禮法)의 기준이다.
- 우주의 근원이며 원리인 도(道)가 구현된 질서이다.
- 만물이 조화를 이루는 상호 의존적 관계의 망(網)이다.
- 인간 의식으로부터 독립하여 존재하는 물리적 대상이다.

3. 다음 글에서 추론할 수 있는 언론인의 바람직한 태도로 가장 적절한 것은?

언론인이 사전 보도 금지의 약속을 위반하여 경쟁사보다 먼저 특종 기사를 보도한다면 그는 일시적으로 명성을 얻을 수 있다. 또한 언론인은 취재 과정에서 얻은 정보를 사실 그대로 보도하기는 하지만 보도 이전에 그 정보를 이용해 부당한 이익을 얻을 수도 있다. 그러나 이러한 행위들은 언론인에 대한 시민의 신뢰를 약화시키며 언론의 존재 이유를 상실하게 하는 원인으로 작용한다.

- 시민들의 다양한 의견을 균형 있게 보도해야 한다.
- 취재, 편집 및 보도에 있어서 자율성을 확보해야 한다.
- 오보로 인한 피해자에게 반론의 기회를 부여해야 한다.
- 객관적인 사실과 주관적인 의견을 구분하여 보도해야 한다.
- 불공정한 행위를 통해 사익을 추구하지 않도록 유의해야 한다.

4. 다음 전통 의례에 대한 설명으로 가장 적절한 것은?

채소와 과일을 차려 놓고 술잔에 술을 따라 그릇에 부은 다음 두 번 절한다[降神拜禮]. 이것은 신령을 맞이하는 예(禮)이다. …(중략)… 부모의 얼굴빛과 음성을 잊어서는 안 되며 그 마음과 뜻을 늘 간직해야 한다. 이것은 자기 몸이 다할 때까지 부모의 이름을 욕되게 하지 않으려 하기 때문이다. 그러므로 군자는 한평생 상(喪) 중에 있다고 한다.

- 부모로부터 자립하여 한 가정을 이루는 의례이다.
- 능력과 덕망 있는 자를 관직에 추천하는 의례이다.
- 성인(成人)으로서 새 이름[字]을 부여받는 의례이다.
- 자신의 근원을 확인하고 공경을 표현하는 의례이다.
- 마을의 수호신에게 가족의 안녕을 기원하는 의례이다.

5. 그림은 수업 장면이다. 소전제 ㉠에 대한 반론으로 가장 적절한 것은? [3점]

과학 기술의 연구 개발은 가치중립적인 것으로 도덕적 가치 판단의 대상이 아니야.	너의 주장을 삼단 논법으로 정리하면 칠판의 내용과 같겠군.
대전제: 가치중립적인 것은 도덕적 가치 판단의 대상이 아니다. 소전제: ㉠ 결론: 과학 기술의 연구 개발은 도덕적 가치 판단의 대상이 아니다.	

- 과학 기술은 도덕적 가치 판단으로부터 자유로워야 한다.
- 과학 기술의 연구 목표를 설정할 때 가치 판단이 개입한다.
- 과학 기술의 발전을 위해 가치중립적 태도를 유지해야 한다.
- 과학적 사실 판단은 도덕적 가치 판단에 종속되어서는 안 된다.
- 과학 기술의 연구 대상과 도덕의 탐구 대상은 서로 구별된다.

6. (가)의 근대 서양 사상가 갑, 을의 주장을 (나)의 학생 발표로 요약할 때, A, B에 들어갈 적절한 내용을 <보기>에서 고른 것은? [3점]

(가)	<p>갑: 모든 인간은 생명의 위협을 무릅쓰고라도 자신의 생명을 보전하려고 한다. 그 누구도 살해당하기를 원하지 않기 때문에 각자는 자신의 생명 보전을 목적으로 삼는 계약에 동의한다. 그래서 각자는 자신을 공동체에 양도하여 일반의지의 감독 아래에 둔다.</p> <p>을: 형벌은 동등성의 원리에 따라 범죄자가 범죄를 저질렀다는 이유로만 그에게 가해져야 한다. 그 누구도 결코 타인의 의도를 실현하기 위한 수단으로 취급되어서는 안 된다.</p>
(나)	<p>학생 x: 갑은 “사형 제도는 A”라고 주장합니다.</p> <p>학생 y: 을은 “사형 제도는 B”라고 주장합니다.</p>

— <보기> —

ㄱ. 범죄자로부터 시민의 안전을 지키기 위해 존치되어야 한다.
 ㄴ. 범죄자도 생명에 대한 권리를 지니므로 폐지되어야 한다.
 ㄷ. 범죄에 상응한 처벌이 이루어질 수 있도록 존치되어야 한다.
 ㄹ. 범죄자도 교화를 통해 변화될 수 있으므로 폐지되어야 한다.

- | | | | |
|-----|---|-----|---|
| A | B | A | B |
| ① ㄱ | ㄴ | ② ㄱ | ㄷ |
| ③ ㄴ | ㄷ | ④ ㄴ | ㄹ |
| ⑤ ㄷ | ㄹ | | |

7. (가)의 갑, 을 사상가들의 입장을 (나) 그림과 같이 탐구하고자 할 때, A~C에 들어갈 질문으로 옳지 않은 것은? [3점]

(가)	<p>갑: 각 개인은 자신에 대한 완전한 소유권을 지니므로 재화의 분배는 전적으로 개인의 자유에 위임해야 한다. 정부가 근로 소득에 세금을 부과하는 것은 시민에게 강제 노동을 강요하는 것과 같다.</p> <p>을: 원초적 입장에 있는 사람은 자신을 위해 특정한 이익을 취할 수 있는 길이 없다. 그는 자신이 최악의 상황에 놓일 가능성을 고려하여 최소 수혜자의 상황을 개선하는 정의의 원칙들에 합의할 것이다.</p>
(나)	<p style="text-align: center;">갑, 을의 입장을 탐구한다.</p> <div style="border: 1px solid black; padding: 5px; margin: 10px auto; width: fit-content;"> <p style="text-align: center;">A</p> <p style="text-align: center;">예</p> <p style="text-align: center;">B</p> <p style="text-align: center;">아니요</p> <p style="text-align: center;">예</p> <p style="text-align: center;">C</p> <p style="text-align: center;">예</p> </div> <p style="text-align: center;">갑의 입장 을의 입장</p> <p style="text-align: right; font-size: small;"><범례> □ : 출발 조건 ◇ : 판단 내용 → : 판단 방향 ~ : 사상가의 입장</p>

- ① A: 개인은 자신의 이익 증진에 관심을 가진다고 가정하는가?
 ② B: 사회 복지 증진을 위한 정부의 재분배 정책에 반대하는가?
 ③ B: 정의로운 사회에서도 사회적·경제적 불평등이 존재하는가?
 ④ C: 개인의 타고난 재능을 사회의 공동 자산으로 간주하는가?
 ⑤ C: 절차의 공정성은 결과의 공정성을 보장한다고 간주하는가?

8. ㉠에 들어갈 내용으로 가장 적절한 것은? [3점]

수업 목표	국제 관계 이론을 ○○주의, □□주의, △△주의로 구분하여 그 특징을 설명할 수 있다.
학습 내용	<p>1. ○○주의</p> <ul style="list-style-type: none"> • 법률적·도덕적 수단을 통한 국제 사회의 갈등 조정을 중시한다. • 중심 개념: 집단 안보, 국제법, 국제기구 <p>2. □□주의</p> <ul style="list-style-type: none"> • ㉠ • 중심 개념: 국가 안보, 자력 구제, 세력 균형 <p>3. △△주의</p> <ul style="list-style-type: none"> • 국가 정체성의 구성을 통한 국제 관계의 변화 가능성을 강조한다. • 중심 개념: 규범, 인식, 상호 작용

- ① 군사력의 증강과 동맹을 통한 국제 분쟁의 억지를 강조한다.
 ② 개별 국가를 규제하는 세계 정부를 통한 분쟁 해결을 중시한다.
 ③ 국가 사이의 힘과 그 분포보다는 관념적인 요인을 강조한다.
 ④ 민주적 법치 국가의 확산을 통한 국제 평화의 실현을 중시한다.
 ⑤ 권력의 극대화와 국가 이익보다는 국가 간 협력을 우선시한다.

9. 그림은 수행 평가 문제와 학생 답안이다. 학생 답안의 ㉠~㉣ 중 옳지 않은 것은?

수행 평가

○ 문제: 낙태에 관한 갑, 을의 입장을 비교하시오.

갑: 나는 낙태가 임신한 여성의 선택에 의해 결정되어야 한다는 '선택 옹호주의'를 지지한다.

을: 나는 임신한 여성의 선택보다는 태아의 생명이 도덕적으로 존중되어야 한다는 '생명 옹호주의'를 지지한다.

○ 학생 답안

낙태에 관한 갑, 을의 입장을 비교하면 ㉠ 갑은 자신의 삶에 대한 여성의 자기 결정권을 전제로 낙태를 찬성한다. 이에 비해 ㉡ 을은 태아의 생명의 존엄성을 전제로 낙태를 반대한다. 갑의 입장을 지지하는 논거로 ㉢ 여성은 남성처럼 자기 몸에 대한 소유권을 지닌다는 주장이 있으며, 을의 입장을 지지하는 논거로 ㉣ 태아는 출생 이후에 비로소 인간의 본질적 특성을 갖게 되어 생명권을 획득한다는 주장이 있다. 갑, 을의 입장을 정리하면 ㉤ 갑은 여성의 권리를 존중할 것을, 을은 태아의 권리를 존중할 것을 주장한다.

- ① ㉠ ② ㉡ ③ ㉢ ④ ㉣ ⑤ ㉤

10. ㉠에 들어갈 내용으로 가장 적절한 것은?

나는 좋은 음악이라면 유덕한 사람의 용기와 절제를 모방해야 한다고 생각한다. 왜냐하면 예술에 내재된 미(美)는 우리의 정신을 고상하게 해 주기 때문이다. 그런데 어떤 사상가는 “시(詩)가 도덕적이라든가 혹은 비도덕적이라고 말하는 것은 정삼각형은 도덕적이고 이등변삼각형은 비도덕적이라고 말하는 것과 마찬가지로 무의미하다.”라고 주장한다. 나는 이 사상가의 견해에 대해 ㉠ 고 생각한다.

- ① 예술이 인간과 사회에 미치는 영향력을 간과하고 있다
 ② 예술이 도덕적 평가에서 자유로워야 함을 간과하고 있다
 ③ 예술의 극치가 도덕의 극치와 서로 통함을 강조하고 있다
 ④ 예술은 예술 그 자체를 위해 존재해야 함을 간과하고 있다
 ⑤ 예술이 미(美)보다 선(善)을 추구해야 함을 강조하고 있다

11. (가)의 갑, 을, 병 사상가들의 입장을 (나) 그림으로 표현할 때, A~D에 해당하는 적절한 진술만을 <보기>에서 있는 대로 고른 것은? [3점]

(가)	<p>갑: 동물을 잔인하게 다루는 것은 인간의 자기 자신에 대한 의무와 배치된다. 왜냐하면 이는 인간의 도덕성을 실현하는 데 방해가 되기 때문이다.</p> <p>을: 고통이나 쾌락을 느낄 수 있는 능력은 한 존재자가 이익관심을 갖는다고 말할 수 있기 위한 필요충분 조건이다.</p> <p>병: 인간은 자기가 도울 수 있는 모든 생명체를 도와주고 어떤 생명체에도 해를 끼치지 않을 때만 진정으로 윤리적이다.</p>
(나)	<div style="margin-left: 20px;"> <p><범례></p> <p>A: 갑만의 입장</p> <p>B: 을만의 입장</p> <p>C: 병만의 입장</p> <p>D: 갑, 을, 병의 공통 입장</p> </div>

<보기>

ㄱ. A: 동물 학대 금지는 간접적으로만 인간의 의무에 속한다.

ㄴ. B: 인간과 동물을 도덕적 관점에서 동등하게 고려해야 한다.

ㄷ. C: 식물은 내재적 가치를 지니므로 도덕적 존중의 대상이다.

ㄹ. D: 인간은 도덕적으로 존중받을 만한 가치 있는 존재이다.

- ① ㄱ, ㄷ ② ㄴ, ㄹ ③ ㄱ, ㄴ, ㄹ
 ④ ㄱ, ㄷ, ㄹ ⑤ ㄴ, ㄷ, ㄹ

12. (가) 사상가의 입장에서 (나)의 사회 문제를 해결하기 위해 제시할 수 있는 주장으로 가장 적절한 것은?

(가)	인간의 노동은 본래 자연 세계를 변형하는 주체적, 자율적인 활동이다. 하지만 자본주의 사회에서 인간의 노동은 상품만을 생산하는 것이 아니라 노동자를 하나의 상품으로 전락시킨다. 결국, 노동자의 노동은 그 자신을 위한 것이 아니라 타인을 위한 것이 된다.
(나)	<p>영화 '모던 타임즈'의 주인공 공인 찰리는 조립 라인에서 나사를 조이는 단순 작업만을 반복한다. 여기서는 인간의 노동을 중심으로 기계가 돌아가는 것이 아니라 단순화되고 과편화된 인간의 노동이 기계의 동작에 맞춰진다.</p>

- ① 노동의 소외를 극복하기 위해 분업을 강화해야 한다.
 ② 육체노동보다 정신노동에 더 높은 가치를 부여해야 한다.
 ③ 노동 생산성을 향상하여 사유 재산의 축적을 추구해야 한다.
 ④ 신이 부여한 노동의 신성한 의미를 현실 속에서 구현해야 한다.
 ⑤ 자발적 노동을 통해 노동의 본래적 가치의 회복을 지향해야 한다.

13. 다음 사례를 통해 우리나라의 분단 상황을 극복하는 데 있어 얻을 수 있는 시사점으로 가장 적절한 것은?

갑작스럽게 통일이 이루어진 이후, 동서독 주민들은 통일 이전의 상이한 체제에서 비롯된 사고방식과 정서의 차이로 심각한 갈등을 겪었다. 서독인은 동독인을 가난하고 게으르다는 의미인 '오씨(Ossi)'로, 동독인은 서독인을 거만하고 잘났다는 의미인 '베씨(Wessi)'로 부르는 현상이 나타났다.

- ① 남북한의 조속한 통합을 위해 외형적인 통일을 강조해야 한다.
 ② 국제적 합의를 통해 남북 통일에 대한 공감대를 형성해야 한다.
 ③ 정치·군사적 방식을 통해 하나의 민족 공동체를 수립해야 한다.
 ④ 동북아 다자 안보를 토대로 한반도 평화 체제를 구축해야 한다.
 ⑤ 사회·문화적 교류의 확대를 통해 남북한의 이질성을 줄여야 한다.

14. (가) 사상의 입장에서 (나)의 ㉠에 대한 설명으로 가장 적절한 것은? [3점]

(가)	도(道)에 뜻을 둔 사람은 인(仁)으로 늘 자신을 삼가 허술한 옷과 거친 음식을 부끄러워하지 않는다. 그래서 자신의 목숨을 보전하기 위해 인을 해치는 일이 없다.
(나)	<p>○ 사람이 있고 난 뒤 부부(夫婦)가 있고, 부부가 있고 난 뒤 부자(父子)가 있으며, 부자가 있고 난 뒤 ㉠이/가 있다.</p> <p>○ ㉠은/는 비록 몸이 나뉘어 있지만 같은 기운을 타고난 존재이므로 행실이 도리에 어긋나더라도 서로 사랑하지 않을 수 없다.</p>

- ① 서로 항렬을 달리하는 종적(縱的)인 관계이다.
 ② 부모에 대한 효(孝)를 실천해야 하는 관계이다.
 ③ 다른 성(姓)이 서로 만나 하나가 되는 관계이다.
 ④ 장유(長幼)의 구분이 필요하지 않은 관계이다.
 ⑤ 가족 내의 인간관계 중 가장 먼저 형성된 관계이다.

15. 다음 글은 신문 사설이다. ㉠에 들어갈 제목으로 가장 적절한 것은? [3점]

○○일보 ○○○○년 ○월 ○일

㉠

오늘날과 같은 정보 사회에서 정보는 물이나 전기와 같이 인간이 생활하는 데 가장 필수적인 요소이다. 우리가 물이나 전기 없이 며칠을 견디는 것은 상당히 고통스러운 일이다. 그래서 수도나 전기 요금을 감당하기 어려운 사람에게 수도와 전기를 끊어 버리는 일은 비인도적인 처사로 여겨진다. 이와 마찬가지로 정보 소외 계층은 정보를 소유하지 못하여 상당한 고통을 느낄 것이며, 그들은 정보 사회에서 경쟁력을 확보하지 못하여 사회적 약자로 머물게 될 것이다. …(중략)… 인간은 누구나 인간답게 살 수 있는 최소한의 권리를 가지고 있다. 그러므로 정부는 그러한 시민의 권리를 충족할 수 있는 방안을 마련해야 할 것이다.

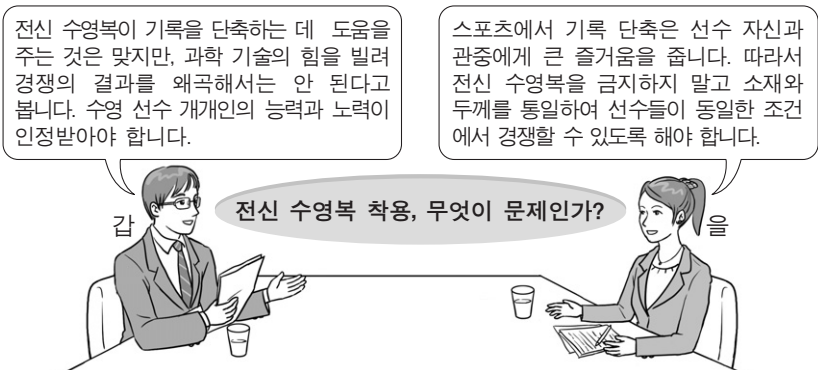
- ① 정보 사유화를 강화하여 새로운 정보의 산출에 힘써야 한다
 ② 정보 사회에서의 정보 격차를 완화하기 위해 노력해야 한다
 ③ 국가의 독점적 정보 관리로부터 시민의 사생활을 보호해야 한다
 ④ 정보 소외 계층에 대한 복지 정책이 역차별을 초래해서는 안 된다
 ⑤ 정보 공유화로 인해 발생한 책임의 분산 문제를 해결해야 한다

16. (가) 사상의 입장에서 볼 때, (나)의 ㉠, ㉡에 들어갈 진술로 가장 적절한 것은? [3점]

(가)	도(道)는 늘 아무 일도 하지 않으나 하지 못하는 일이 없다. 제후나 국왕이 이 도를 지킬 수 있다면 천지 만물이 장차 저절로 변화될 것이다.	
(나)	㉠ . 그러면 아이처럼 순진무구한 삶을 살 것이다.	㉡ . 그러면 물처럼 서로 다투지 않는 삶을 살 것이다.

	㉠	㉡
①	인위(人爲)적인 가치를 버려라	자연의 흐름과 하나가 되어라
②	오로지 예(禮)만 듣고 보아라	옳고 그름을 엄격히 구분해라
③	연기(緣起)의 법칙을 깨달아라	일체의 탐욕과 집착을 버려라
④	사사로운 마음[私欲]을 비워라	타고난 사단(四端)을 확충해라
⑤	거경(居敬)으로 덕을 함양해라	자타(自他)를 한몸으로 여겨라

17. 그림은 토론 장면이다. 갑, 을의 입장에 대한 적절한 설명만을 <보기>에서 있는 대로 고른 것은?



전신 수영복이 기록을 단축하는 데 도움을 주는 것은 맞지만, 과학 기술의 힘을 빌려 경쟁의 결과를 왜곡해서는 안 된다고 봅니다. 수영 선수 개인의 능력과 노력이 인정받아야 합니다.

스포츠에서 기록 단축은 선수 자신과 관중에게 큰 즐거움을 줍니다. 따라서 전신 수영복을 금지하지 말고 소재와 두께를 통일하여 선수들이 동일한 조건에서 경쟁할 수 있도록 해야 합니다.

갑: 전신 수영복 착용, 무엇이 문제인가?
을:

— <보기> —
 ㄱ. 갑은 스포츠에서 순수한 신체적 탁월성의 발휘를 강조한다.
 ㄴ. 을은 스포츠가 제도화된 규칙에 의해 운영될 것을 강조한다.
 ㄷ. 갑은 스포츠에서 경쟁 요소를 수용하고, 을은 배제한다.
 ㄹ. 갑, 을은 스포츠를 공정한 조건에서 진행할 것을 주장한다.

- ① ㄱ, ㄴ ② ㄴ, ㄷ ③ ㄱ, ㄴ, ㄹ
 ④ ㄱ, ㄷ, ㄹ ⑤ ㄴ, ㄷ, ㄹ

18. 갑, 을의 입장에 대한 설명으로 가장 적절한 것은?

갑: 세계화 시대에 국가 간 장벽이 약화된다고 하더라도 인간 생활의 기본 단위는 민족이야. 우리는 언어, 역사, 혈통 등에 기초한 동질성을 바탕으로 민족의 정체성을 확립하고 우리 민족의 이익을 최우선적으로 추구해야 해.
 을: 세계화 시대에 우리는 인류 공동의 위협인 테러와 빈곤 문제 등에 직면해 있어. 이를 극복하기 위해 인간의 존엄성과 인권 존중이라는 인류 공동체의 보편적 가치를 토대로 인종과 국가의 구별을 넘어서 관용과 협력의 정신을 추구해야 해.

- ① 갑은 민족의 객관적 요소를 바탕으로 민족적 일체감을 중시한다.
 ② 을은 민족 구성원과 국가가 하나의 운명 공동체임을 강조한다.
 ③ 갑은 타민족에 대한 개방적 태도를, 을은 포용적 태도를 강조한다.
 ④ 갑은 인류 문화의 보편성을, 을은 민족 문화의 특수성을 추구한다.
 ⑤ 갑, 을은 민족의식에 기초한 열린 공동체 의식을 강조한다.

19. 다음 서양 사상가의 입장에서 <문제 상황>의 A에게 해 줄 수 있는 적절한 조언만을 <보기>에서 있는 대로 고른 것은? [3점]

양심적인 개인들로 구성된 사회 집단도 집단 이기주의로 인해 부도덕할 수 있다. ... (중략) ... 사회와 개인이 지향하는 최고의 도덕적 이상은 서로 다르지만 양자 사이의 모순은 절대적이지 않다. 예를 들어 개인이 다른 사람의 이익을 이해하지 못한다면 진정한 사회 정의는 달성될 수 없다.

<문제 상황>

사회 계층 간의 경제적 격차로 인해 사회 부정의와 계층 간 갈등 문제가 심화되고 있다. 정책 결정자 A는 정의 실현과 갈등 완화에 도움을 줄 수 있는 방법들에 대해 고민하고 있다.

— <보기> —

- ㄱ. 사회 정책과 제도의 개선을 통해 계층 간 갈등을 완화하세요.
 ㄴ. 개인의 도덕적 성찰이 정의 실현에 기여함을 고려하세요.
 ㄷ. 사회적 강제력을 통해서라도 사회 부정을 해결하세요.
 ㄹ. 도덕성이 높은 개인들이 승인하지 않는 방법은 배제하세요.

- ① ㄱ, ㄷ ② ㄴ, ㄹ ③ ㄷ, ㄹ
 ④ ㄱ, ㄴ, ㄷ ⑤ ㄱ, ㄴ, ㄹ

20. 갑, 을의 입장에 대한 적절한 설명만을 <보기>에서 있는 대로 고른 것은? [3점]

갑: 청렴은 목민관이 마땅히 지켜야 할 임무이며 모든 덕(德)의 원천이다. 청렴한 자는 청렴을 편안히 여기고 지혜로운 자도 이를 이롭게 여긴다. 그러므로 지혜로운 선비는 청렴을 자신의 몸과 마음의 보배로 삼는다.
 을: 통치자는 사유 재산을 가져서는 안 되며 군인처럼 공동으로 생활해야만 한다. 또한 세상의 금은을 탐해서도 호화로운 집에 기거해서도 안 된다. 왜냐하면 통치자는 오직 자신과 나라를 정의롭게 하는 데 힘써야 하기 때문이다.

— <보기> —

- ㄱ. 갑은 공직자의 업무 처리에서 공정성보다 효율성을 중시한다.
 ㄴ. 을은 공직자의 직무 수행에서 공사(公私)의 구별을 강조한다.
 ㄷ. 갑, 을은 공직자로서의 본분에 걸맞은 역할 수행을 중시한다.
 ㄹ. 갑, 을은 공직자로서의 엄격한 자기 절제(節制)를 강조한다.

- ① ㄱ, ㄷ ② ㄴ, ㄹ ③ ㄱ, ㄴ, ㄹ
 ④ ㄱ, ㄷ, ㄹ ⑤ ㄴ, ㄷ, ㄹ

* 확인 사항
 ○ 답안지의 해당란에 필요한 내용을 정확히 기입(표기)했는지 확인 하시오.

제 4 교시

사회탐구 영역(윤리와 사상)

성명 수험 번호

1. 다음 글에 나타난 인간의 특성을 <보기>에서 고른 것은?

물과 불은 생명이 없고, 초목은 생명이 있어도 지각(知覺)이 없으며, 짐승은 지각이 있어도 도의(道義)가 없다. 소는 인간보다 힘이 세고, 말은 인간보다 달리기를 잘하는데, 소나 말이 도리어 사람에게 쓰이는 것은 무슨 까닭인가? 그것들은 능히 모여 살 수 없기 때문이다. 왜 능히 모여 살지 못하는 것인가? 그것들은 분별하지 못하기 때문이다. 왜 분별하지 못하는 것인가? 그것들은 도의가 없기 때문이다.


<보기>

ㄱ. 타인과 더불어 집단을 형성해 삶을 영위하는 존재이다.
 ㄴ. 정신적 능력을 통해 윤리적 질서를 구현하는 존재이다.
 ㄷ. 유한성을 극복하기 위해 초월자에게 귀의하는 존재이다.
 ㄹ. 스스로 창조한 놀이를 통해 즐거움을 추구하는 존재이다.

- ① ㄱ, ㄴ ② ㄱ, ㄷ ③ ㄴ, ㄷ ④ ㄴ, ㄹ ⑤ ㄷ, ㄹ


2. 그림은 고대 서양 사상가 갑, 을의 가상 대화이다. 갑, 을의 입장에 대한 옳은 설명을 <보기>에서 고른 것은?

인간은 모든 것의 척도입니다. 각자가 어떤 것을 지각하여 판단한 것이 각자에게는 참이 됩니다.



갑

아닙니다. 인간은 무지에 대한 자각과 선(善)에 대한 보편적 정의(定義)를 통해서 참된 지식으로 나아갈 수 있습니다.



을

<보기>

ㄱ. 갑은 도덕 판단의 절대적 기준은 존재하지 않는다고 본다.
 ㄴ. 을은 누구도 악을 자발적으로 행하지는 않는다고 본다.
 ㄷ. 갑은 이성인, 을은 경험이 참된 앎에서 중요하다고 본다.
 ㄹ. 갑, 을은 유덕한 삶과 행복한 삶은 별개의 것이라고 본다.

- ① ㄱ, ㄴ ② ㄱ, ㄷ ③ ㄴ, ㄷ ④ ㄴ, ㄹ ⑤ ㄷ, ㄹ

3. 서양 사상가 갑, 을의 입장에 대한 설명으로 옳은 것은? [3점]

갑: 국가는 그것을 구성하는 계층이 각기 자신이 맡은 바를 잘 행할 때 정의롭다. 개인이 정의로울 수 있는 것도 영혼을 구성하는 부분이 자신의 역할을 잘 수행할 때이다.
 을: 국가는 개인의 생명을 보호할 때 정당하다. 자유를 원하고 타인을 지배하려는 인간이 구속을 받아들이는 것은 비참한 자연상태에서 벗어나고 싶은 자기 보존의 욕구 때문이다.

- ① 갑은 시민의 동의에 따라 통치자가 선출되어야 한다고 본다.
 ② 을은 개인의 이기적 합리성에 기초하여 국가가 형성된다고 본다.
 ③ 갑은 도덕이 국가의 성립 이후에, 을은 이전에 존재한다고 본다.
 ④ 갑, 을은 국가가 필요악이므로 기능을 제한해야 한다고 본다.
 ⑤ 갑, 을은 시민의 정치적 권리가 평등하게 보장되어야 한다고 본다.

4. 그림은 수행 평가 문제와 학생 답안이다. 학생 답안의 ㉠~㉣ 중 옳지 않은 것은?

수행 평가

◎ 문제: 고대 불교 사상가 갑과 한국 불교 사상가 을의 입장을 설명하시오.

갑: 고통을 끊으려면 탐욕을 떠나야 한다. 색(色)의 실상에 대해 알지 못하고 밝지 못하여 탐욕을 떠나지 못하면 마음이 해탈하지 못한다.

을: 고통에서 벗어나는 길은 부처를 찾는 것이 최고이다. 내 마음이 부처임을 단박에 깨닫고, 깨친 뒤에도 오래 비추고 살펴야 한다. 선정[定]과 지혜[慧]를 함께 닦아야 한다.

◎ 학생 답안

우주와 인생의 모든 현상은 반드시 원인과 조건에 따라 일어난다고 본 갑은 ㉠ 고통을 인간 세계의 현상적인 삶의 모습으로 보았으며, ㉡ 애욕(愛慾)을 없애 열반의 상태에 이를 것을 강조하였다. 또한, 을은 ㉢ 우리가 본래 불성(佛性)을 지닌 존재라는 것을 직관해야 한다고 보았으며, ㉣ 부처가 되기 위해서는 참선보다는 경전 공부에 매진해야 함을 강조하였다. 한편, 갑과 을은 모두 ㉤ 진리에 대한 무지, 곧 무명(無明)을 고통의 원인으로 보았다.

- ① ㉠ ② ㉡ ③ ㉢ ④ ㉣ ⑤ ㉤

5. (가)의 갑, 을 사상가의 입장에서 볼 때, (나)의 ㉠에 들어갈 공통된 진술로 가장 적절한 것은? [3점]

(가)	<p>갑: 인간은 평화로운 자연상태에서 분쟁이나 갈등이 발생할 경우에 자신의 재산권을 보호하기 위해 정부 수립에 동의한다.</p> <p>을: 인간은 공정성을 보장하는 의사소통의 형식인 이상적 담화 상황에서 모든 당사자들이 동의할 수 있는 도덕적 규칙을 도출할 수 있다.</p>
(나)	<p>갑: ㉠. 그러면 시민의 기본권을 보장하는 국가를 확립할 수 있을 것이다.</p> <p>을: ㉠. 그러면 도덕 문제를 이성적으로 해결하는 보편적 규범을 확립할 수 있을 것이다.</p>

- ① 정부에 대한 자발적인 복종과 권리의 포기에 합의하라
 ② 개인들 간의 가상적 계약을 통해 정부의 수립에 합의하라
 ③ 다수결의 원리에 따른 공적인 결정에 이견 없이 합의하라
 ④ 공론의 형성 과정을 방해하는 대화 참여자들의 배제에 합의하라
 ⑤ 합리적 이성을 바탕으로 자유롭고 평등한 상황에서 합의하라

[6~7] 갑, 을, 병은 유학 사상가들이다. 물음에 답하시오.

갑: 인(仁)은 자기를 이겨 내고 예(禮)로 돌아가는 것이다. 예가 아니면 보지도, 듣지도, 말하지도, 행하지도 말라.

을: 인은 마음의 덕(德)이자 인간 본연의 성(性)이며, 하늘의 이치[理]이다. 편벽된 기질을 교정하고[矯] 올바른 기운을 복돋움으로써[養] 본연을 회복할 수 있다.

병: 인이란 사람과 사람 사이에서 그 도리를 다하는 것이다. 자식이 부모를 섬긴 이후에야 효도라는 이름을 얻듯이 인을 실천하지[行事] 않고서 그 이름을 얻을 수는 없다.

6. 갑, 을, 병의 입장에 대한 설명으로 옳지 않은 것은?

- ① 갑은 효제(孝悌)를 인을 실천하는 근본으로 본다.
- ② 을은 측은지심을 실마리로 인을 파악할 수 있다고 본다.
- ③ 병은 인을 오직 실천을 통해서만 얻어지는 덕으로 본다.
- ④ 갑, 병은 선을 좋아하는 성향의 보존을 인의 완성이라고 본다.
- ⑤ 을, 병은 사단(四端)을 인간이 선천적으로 타고난 것으로 본다.

7. 갑, 을, 병의 관점에서 다음 <사례>의 A의 행동에 대한 옳은 평가만을 <보기>에서 있는 대로 고른 것은? [3점]

<사 례>

A는 밤늦게 집으로 돌아오다가 길가에 쓰러져 있는 사람을 보았다. 추운 겨울이었기 때문에 그대로 두면 동사할지도 모른다고 생각하여 경찰에 신고한 후, 그가 안전하게 귀가할 수 있도록 도왔다.

— <보 기> —

- ㄱ. 갑: 가족에 대한 사랑을 타인에게로 확장하여 실천하였다.
- ㄴ. 을: 천리(天理)인 본성[性]에 따라 선(善)을 실천하였다.
- ㄷ. 병: 타고난 사덕(四德)의 마음을 확충하여 실천하였다.
- ㄹ. 갑, 을: 자신이 어려움에 처했을 경우를 헤아려 실천하였다.

- ① ㄱ, ㄴ ② ㄱ, ㄷ ③ ㄷ, ㄹ
- ④ ㄱ, ㄴ, ㄹ ⑤ ㄴ, ㄷ, ㄹ

8. ㉠에 들어갈 진술로 가장 적절한 것은? [3점]

갑: 나는 최대의 유용성을 산출하는 행위 규칙을 선정한 다음 이 규칙과 일치하는 행위를 한다면 옳은 행위라고 생각해.

을: 아니야. 나는 개별적인 행위가 산출하는 쾌락과 고통의 전체 값에 따라 행위의 옳음이 평가되어야 한다고 생각해.

갑: 그렇다면 네가 너의 곤란한 상황을 해결하기 위해 나에게 거짓말을 하는 것은 옳은 행위일까?

을: 내가 그 상황에서 거짓말을 하는 것이 하지 않는 것보다 더 큰 선을 산출하는 경우에만 옳은 행위이지.

갑: 내 생각에 너는 너의 _____ ㉠

- ① 거짓말을 평가하는 데 있어 유용성의 중요성을 간과하고 있어.
- ② 거짓말은 실천 이성이 세운 도덕법칙에 위배됨을 강조하고 있어.
- ③ 거짓말은 유용성이 이미 검증된 규칙에 위배됨을 강조하고 있어.
- ④ 거짓말이 그 자체로서 옳은 행위가 아니라는 것을 간과하고 있어.
- ⑤ 거짓말이 낱을 유용성을 계산하기 어렵다는 것을 간과하고 있어.

9. 그림은 서양 사상가 갑, 을의 가상 대화이다. 갑, 을 모두가 긍정의 대답을 할 질문으로 옳은 것은? [3점]

인간은 세상에 한번 내던져지자 이것이 될까 저것이 될까 자유롭게 선택하지만 불안을 안고 살아갈 수밖에 없습니다. 인간은 자유롭게 세상에 내던져진 존재가 아닐까요?

인간은 절망이라는 죽음에 이르는 병에 직면하고 있습니다. 인간은 미적 단계에서 윤리적 단계로, 다시 신 앞에 홀로 서는 종교적 단계로 도약해야 절망을 극복할 수 있지 않을까요?



갑



을

- ① 주관적 진리의 극복을 위한 이성의 역할을 강조하는가?
- ② 인간의 자유로운 결단에 대한 자기 책임을 강조하는가?
- ③ 삶의 의지를 부정해야 불안에서 벗어날 수 있다고 보는가?
- ④ 신의 존재를 참된 자아를 찾기 위한 필요조건으로 보는가?
- ⑤ 인간의 보편적 본질에 대한 추구를 실존의 출발점으로 보는가?

10. 다음 동양 사상가가 강조하는 삶의 태도로 가장 적절한 것은?

뜰판에 커다란 가죽나무 하나가 있었다. 그 줄기는 울퉁불퉁하고 가지는 비비 꼬여 있어서 사람들은 아무 쓸모가 없다며 외면해 버렸다. 그러나 그 덕분에 가죽나무는 도끼에 찍히는 일도 누구에게 해를 당하는 일도 없이 자신의 수명을 다했다. 쓸모 없음[無用]이 곧 쓸모 있음[用]임을 아는 것이 큰 앎임을 어찌하여 알지 못한단 말인가?

- ① 사물의 용도를 잘 파악하는 실용적인 지식을 축적해야 한다.
- ② 자연을 있는 대로 보존하기 위해 계획적으로 노력해야 한다.
- ③ 가치의 얽매임에서 벗어나기 위해 도덕규범을 확립해야 한다.
- ④ 자연의 진정한 이치를 파악하기 위해 이론적으로 탐구해야 한다.
- ⑤ 시비 판단의 분별을 넘어선 정신적 절대 자유를 추구해야 한다.

11. 다음 조선 시대 사상가의 입장에 대한 옳은 설명만을 <보기>에서 있는 대로 고른 것은? [3점]

“이(理)는 감정도 의지도 없고 조작하고 만들어 내는 능력도 없다[無造作].”라고 한 것은 이의 본연의 체(體)를 말한 것이다. 그런데 본체의 무위(無爲)만을 보고 생성 작용이 드러나는 윤행을 알지 못하여 이(理)를 죽은 물건으로 간주한다면, 도(道)에서 너무도 거리가 먼 것이 아닌가?

— <보기> —

ㄱ. 인의예지(仁義禮智)가 발하여 사단으로 드러난다고 본다.
ㄴ. 사단은 순선(純善)한 정으로, 칠정은 불선(不善)한 정으로 본다.
ㄷ. 칠정(七情)은 기가 발하여 이(理)가 기를 탄 것으로 본다.
ㄹ. 이는 본연이며 통하고[通], 기는 재료이며 국한된다고[局] 본다.

- ① ㄱ, ㄴ ② ㄱ, ㄷ ③ ㄷ, ㄹ
④ ㄱ, ㄴ, ㄹ ⑤ ㄴ, ㄷ, ㄹ

12. 갑, 을 사상가들의 공통된 입장에 대한 설명으로 가장 적절한 것은? [3점]

갑: 정부가 병에 지폐를 넣어 폐광에 묻고, 개인 기업이 지폐를 다시 파내게 하자. 그러면 사회의 실질 소득과 부(富)가 늘고 더 이상의 실업은 없을 것이다.
을: 정부는 불필요한 간섭을 그만두어야 한다. ‘보이지 않는 손’에 따르면 국부(國富)의 낭비 없이 생산적인 근로자가 충분히 고용될 것이다.

- ① 사적 소유권을 인정하고 효율적인 자원 배분을 추구한다.
② 시장에서의 자유로운 경쟁을 통한 분배의 평등을 추구한다.
③ 정부의 적극적 개입을 통한 사회 복지의 극대화를 추구한다.
④ 기업의 국유화를 통한 자원 배분의 형평성 제고를 강조한다.
⑤ 정부의 경제 개입과 시장의 효율성이 양립 가능함을 주장한다.

13. 중세 서양 사상가 갑, 을, 병의 입장에 대한 설명으로 옳지 않은 것은?

갑: 신은 영원하고 가장 완전한 존재이며, 인식의 대상이 아니라 실존적으로 만나야 할 인격적 존재이다. 보편은 이 데아로서 신의 정신 안에 존재한다.
을: 신의 존재는 이성적으로 논증될 수 있고, 초월적 진리는 계시와 신앙을 통해 알려진다. 인간의 행복은 최고선인 신과 하나 됨에 있다. 보편은 개체 내에 존재한다.
병: 신이 창조한 것은 인간의 공통된 본성이 아니라 각 개인이다. 보편은 실재하지 않으며 유사한 개체들을 가리키는 이름일 뿐이다.

- ① 갑은 신이 창조한 인간은 자유의지를 가진 존재라고 본다.
② 을은 철학과 신학은 구분되지만 상호 보완이 가능하다고 본다.
③ 병은 신이 창조한 것은 보편이 아니라 개체들만이라고 본다.
④ 을, 병은 신을 이성을 통하여 인식할 수 있는 대상으로 본다.
⑤ 갑, 을, 병은 인간의 구원이 신의 은총을 통해서만 가능하다고 본다.

14. (가)의 갑, 을 사상가들의 입장을 (나) 그림으로 표현할 때, A~C에 해당하는 옳은 진술만을 <보기>에서 있는 대로 고른 것은?

(가) 갑: 도덕은 최종적인 목표로서 완성되는 것이 아니라 성장하고 진보하는 것이다. 그러므로 최선의 도구를 찾아 문제를 해결하고 현실을 개선해 나가는 것이 선이다.
을: 도덕성의 기초는 공감이며, 공감은 우리가 덕을 평가하는 원천이다. 그러므로 공감을 통해 쾌감을 주는 행위가 선이다.

(나)

— <보기> —

ㄱ. A: 도덕적 진리는 오류 가능성이 없다고 본다.
ㄴ. B: 행위의 도덕성을 판단하는 기준을 동기라고 본다.
ㄷ. B: 사회적으로 유익한 행위는 도덕적 가치가 있다고 본다.
ㄹ. C: 도덕 판단과 도덕적 행위의 유일한 원천을 감정으로 본다.

- ① ㄱ, ㄴ ② ㄱ, ㄷ ③ ㄷ, ㄹ
④ ㄱ, ㄴ, ㄹ ⑤ ㄴ, ㄷ, ㄹ

15. 고대 중국 사상가 갑, 을의 입장에서 모두 부정의 대답을 할 질문으로 가장 적절한 것은? [3점]

갑: 인(仁)은 사람의 마음이고, 의(義)는 사람의 길이다. 그 길을 버리고 따르지 않으며 그 마음을 잃어버리고 찾을 줄을 모르니 애처롭다. 사람은 닭과 개가 도망가면 찾을 줄을 알지만, 마음을 잃고서는 찾을 줄을 모른다.
을: 최상의 덕(德)은 행함이 없고 무엇을 위하여 함이 없다. 하급의 덕은 행하면서 무엇을 위해 한다. 최상의 인(仁)은 행하되 무엇을 위하여 함이 없다. 최상의 의(義)는 행하면서 무엇을 위해 한다. 최상의 예(禮)는 행하되 응대함이 없으면 억지로 하게 한다.

- ① 예(禮)의 규범이 중시되는 사회를 지향하는가?
② 인위적인 노력을 통한 본성의 변화를 추구하는가?
③ 선악에 대한 사회적 기준을 상대적인 것으로 보는가?
④ 도(道)의 실현을 위해 무위(無爲)의 삶을 추구하는가?
⑤ 인의(仁義)의 실천을 통해 덕(德)이 실현된다고 보는가?

16. 그림은 중국 유학 사상가들의 가상 대화이다. ㉠에 들어갈 내용으로 가장 적절한 것은?



- ① 도덕에 관한 앎은 도덕적 행위의 결과로 획득된다.
- ② 마음을 바르게 하는[正] 격물(格物)을 통해 앎을 실현한다.
- ③ 도덕에 대한 지식과 실천의 일치가 도덕적 삶의 핵심이 된다.
- ④ 도덕 실천은 외부 사물의 이치[理]에 대한 지식을 필요로 한다.
- ⑤ 지와 행의 본체는 분리되지만 상호 영향을 끊임없이 주고받는다.

17. 다음은 어느 서양 사상가의 주장이다. ㉠에 들어갈 내용으로 가장 적절한 것은? [3점]

나는 '이성에 따른 자기 지배'라는 적극적 자유보다는 '외부적 강압의 부재'라는 소극적 자유가 실현되어야 한다고 생각한다. 적극적 자유는 자유를 그 정반대의 것으로 둔갑시킬 수 있기 때문이다. ... (중략) ... 어떤 사상가는 자유가 변증법의 원리에 따라 모든 사람이 누리는 권리로 확대되어 왔으며 최고의 인류에 의해 보장된다고 보았다. 이러한 그의 관점을 고려할 때, 나는 그의 사상에 대해 '㉠'고 생각한다.

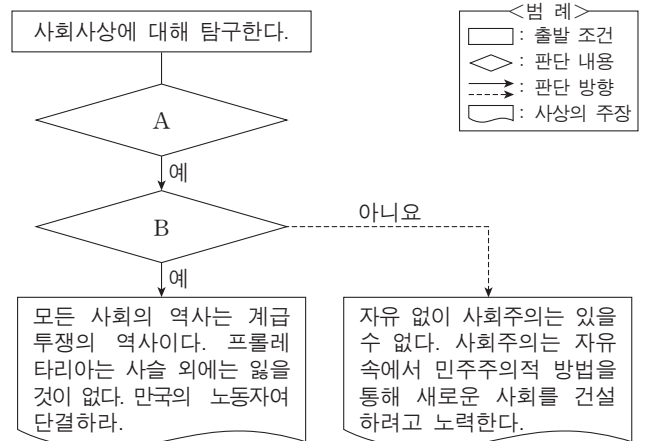
- ① 자유가 타인에 대한 책임을 전제로 함을 간과하고 있다.
- ② 자유가 절대정신의 명령에 따르는 것임을 무시하고 있다.
- ③ 자유가 국가에 의해 억압될 수 있다는 점을 간과하고 있다.
- ④ 자유가 시민 사회에서 최종적으로 실현됨을 강조하고 있다.
- ⑤ 자유가 사회적 관계와 무관하게 실현될 수 있음을 강조하고 있다.

18. 근대 한국 사상가 갑, 을, 병에 대한 설명으로 옳지 않은 것은?

갑: 한울님을 모시면 조화가 저절로 얻어지고 한울님을 길이 잊지 않으면 모든 것이 저절로 깨달아진다.
 을: 우주의 근본 원리인 일원상(一圓相)의 진리를 신앙의 대상과 수행의 표본으로 삼아야 한다.
 병: 선천 시대에는 원한으로 인해 상극(相剋)이 지배하지만, 후천 시대에는 원한이 풀리고 모든 존재가 상생(相生)한다.

- ① 갑은 한울님의 마음이 인간의 본래 마음이라고 보았다.
- ② 을은 정신과 육체의 균형 있는 발전[靈肉雙全]을 강조하였다.
- ③ 병은 현세에서 이상 사회가 실현될 수 있는 것으로 보았다.
- ④ 을, 병은 일상 생활과 분리된 엄격한 종교적 수행을 강조하였다.
- ⑤ 갑, 을, 병 모두 신분 차별이 없는 평등한 사회를 지향하였다.

19. 그림의 A, B에 들어갈 옳은 질문을 <보기>에서 고른 것은?



- < 보기 > —
- ㄱ. A: 사회적 생산 수단의 공유를 긍정하는가?
 - ㄴ. A: 의회 활동 중심의 점진적 사회 개혁을 부정하는가?
 - ㄷ. B: 평등 실현을 위한 폭력 혁명의 필요성을 긍정하는가?
 - ㄹ. B: 역사 발전의 최종 단계에서 국가의 소멸을 부정하는가?

- ① ㄱ, ㄴ ② ㄱ, ㄷ ③ ㄴ, ㄷ ④ ㄴ, ㄹ ⑤ ㄷ, ㄹ

20. (가) 사상가의 관점에서 퍼즐 (나)의 세로 낱말 (A)에 대한 설명으로 옳은 것은? [3점]

(가) 여성은 도덕적 문제에 대해 '다른 목소리'를 가지고 있다. 여성은 타인의 요구에 깊은 관심을 가지고 배려의 의무를 기꺼이 지려고 한다.

		(A)	
	(B)		

(나) [가로 열쇠]
 (A): 공자가 각자의 신분과 지위에 따라 맡은 바 역할을 다할 것을 강조한 정신. ○○ 정신
 (B): 굳세고 올곧은 도덕적 기개[浩然之氣]를 기르기 위한 수양 방법. 맹자의 □□

[세로 열쇠]
 (A): …… 개념

- ① 사회적 맥락과 책임에 기초한 여성 중심적 덕목이다.
- ② 인간관계에서 친밀함과 동정심을 강조하는 덕목이다.
- ③ 인간의 도덕 발달을 위해 배려와 더불어 필요한 덕목이다.
- ④ 판단하기보다는 보살핌의 의무를 다하고자 하는 덕목이다.
- ⑤ 남녀의 도덕적 성숙을 공정하게 평가하는 유일한 덕목이다.

* 확인 사항
 ○ 답안지의 해당란에 필요한 내용을 정확히 기입(표기)했는지 확인하십시오.

제 4 교시

사회탐구 영역(한국사)

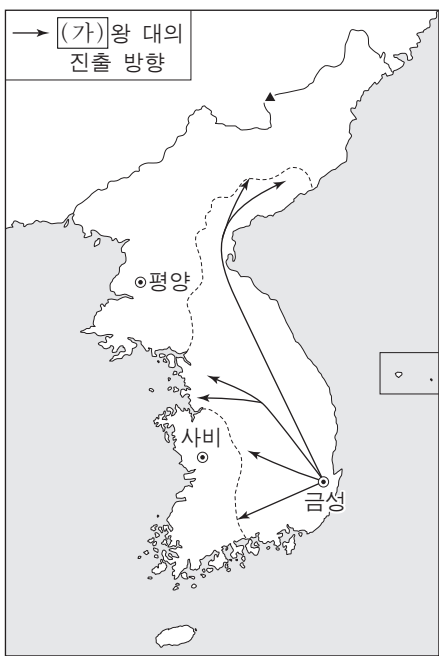
성명 수험 번호

1. 다음 유적과 유물이 만들어진 시기의 사회 모습으로 가장 적절한 것은?



- ① 계급이 분화되고 군장이 등장하였다.
- ② 빗살무늬 토기를 제작하기 시작하였다.
- ③ 주로 동굴에 살면서 사냥과 채집을 하였다.
- ④ 철제 무기를 이용하여 주변의 나라를 정복하였다.
- ⑤ 대표적인 도구로 찧개, 주먹도끼 등을 사용하였다.

2. (가)왕이 재위하던 시기에 있었던 사실로 옳은 것은? [3점]



- ① 고구려가 수의 침략을 받았다.
- ② 나·당 연합군이 백제를 공격하였다.
- ③ 신라가 당군을 매소성에서 격퇴하였다.
- ④ 금관가야가 고구려군의 공격으로 타격을 받았다.
- ⑤ 백제가 신라와 연합하여 한강 유역을 회복하였다.

3. 다음 글을 쓴 역사학자에 대한 설명으로 옳은 것은?

옛 사람이 이르기를 나라는 없어질 수 있으나 역사는 없어질 수 없다고 하였으니, 그것은 나라는 형체이고 역사는 정신이기 때문이다. 이제 한국의 형체는 허물어졌으나 정신만이라도 오로지 남을 수 없는 것인가.

- ① 조선사 편수회에 참여하였다.
- ② 민족주의 사학을 발전시켰다.
- ③ 한국사의 타율성을 강조하였다.
- ④ 진단 학회를 중심으로 활동하였다.
- ⑤ 유물 사관의 관점에서 역사를 연구하였다.

4. 다음 자료의 왕이 실시한 정책으로 옳은 것은?

○○왕 대 주요 정책

1년 1월	변발과 호복 금지
1년 2월	정방 폐지
... (중략) ...	
5년 5월	기철 등 친원 세력 숙청
5년 7월	옛 관제 복구

- ① 몽골의 침입에 맞서 강화도로 천도하였다.
- ② 왕권 강화를 위하여 과거 제도를 도입하였다.
- ③ 호족을 견제하기 위하여 기인 제도를 시행하였다.
- ④ 최승로의 건의를 받아들여 통치 체제를 정비하였다.
- ⑤ 쌍성총관부를 공격하여 철령 이북의 땅을 수복하였다.

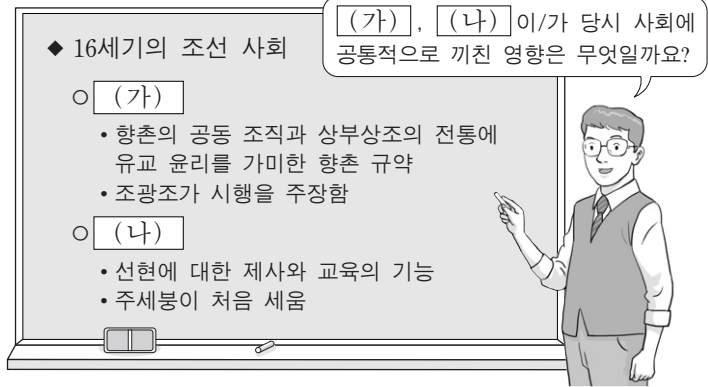
5. 다음 조약에 대한 설명으로 옳은 것은? [3점]

제1조 만약 조약을 체결한 어느 한 나라가 제3국으로부터 어려움을 겪을 경우 원만하게 타결할 수 있도록 주선을 다함으로써 그 우의를 표한다.

제14조 조약을 체결한 뒤 본 조약에 부여되지 않은 어떠한 권리나 특혜를 다른 나라에 허가할 때에는 자동적으로 ○○ 국민에게도 똑같이 주어진다.

- ① 외국 상인의 내륙 통상을 허용하였다.
- ② 수출입 상품의 관세 부과를 규정하였다.
- ③ 외국과 체결한 최초의 근대적 조약이다.
- ④ 조선에서의 천주교 포교권을 인정하였다.
- ⑤ 개항장에서 외국 화폐의 통용을 처음 허용하였다.

6. 선생님의 질문에 대한 학생의 대답으로 가장 적절한 것은? [3점]



- ① 수령과 향리의 권한을 강화시켰어요.
- ② 기묘사화가 일어나는 원인이 되었어요.
- ③ 신진 사대부가 성장하는 기반이 되었어요.
- ④ 향촌 사회에 대한 사림의 영향력을 확대시켰어요.
- ⑤ 민생 안정을 위한 과학 기술에 관심을 갖게 하였어요.

7. 밑줄 친 '정변'에서 제기된 개혁 방안으로 옳은 것을 <보기>에서 고른 것은? [3점]

그의 생각은 무엇보다 청의 세력을 꺾어 버리는 동시에 청을 추종하는 세력으로부터 권력을 빼앗은 후 우리나라의 완전한 자주 독립 정치를 이룩하자는 것이었다. 그래서 일본의 군사적 지원을 믿고 우정총국 개국 축하연을 이용하여 정변을 일으켰다.

- <보기> —
- ㄱ. 은본위제 시행 ㄴ. 해상공국 혁파
 - ㄷ. 인민 평등권 제정 ㄹ. 농민에게 토지 재분배

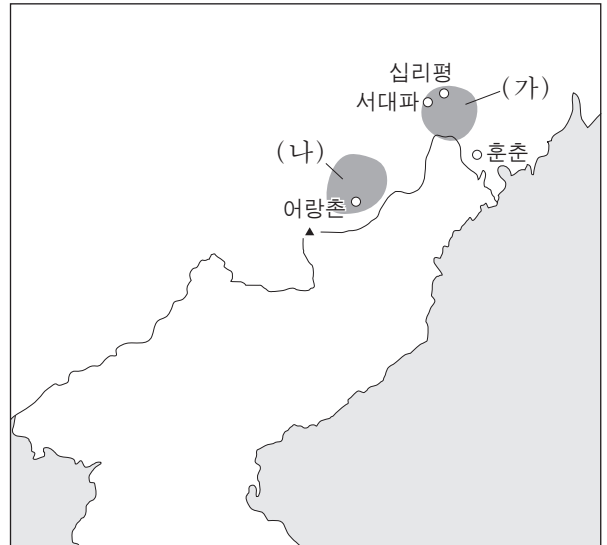
- ① ㄱ, ㄴ ② ㄱ, ㄷ ③ ㄴ, ㄷ ④ ㄴ, ㄹ ⑤ ㄷ, ㄹ

8. 다음 그림이 그려진 시기의 상황으로 옳지 않은 것은?



- ① 조상 제사 문제로 서학이 탄압받았다.
- ② 양반의 위선을 풍자한 탈춤이 유행하였다.
- ③ 중인들이 결성한 시사의 문학 활동이 활발하였다.
- ④ 한양을 기준으로 한 역법서인 칠정산이 편찬되었다.
- ⑤ 평민의 감정을 솔직하게 표현한 사설시조가 유행하였다.

9. (가), (나) 지역에서 전개되었던 독립군의 전투에 대한 탐구 활동으로 가장 적절한 것은? [3점]



- ① (가) - 조선 혁명군이 흥경성에서 진행한 작전을 알아본다.
- ② (가) - 호가장에서 일본군에 승리한 부대에 대해 조사한다.
- ③ (나) - 서일의 대한 독립 군단이 수행한 활동을 정리한다.
- ④ (나) - 한국 독립군이 쌍성포에서 승리한 요인을 확인한다.
- ⑤ (가), (나) - 홍범도가 이끈 대한 독립군의 활약상을 찾아본다.

10. (가), (나) 사이의 시기에 있었던 동학 농민군의 활동으로 옳은 것은?

(가) 농민군이 이동하였다는 보고가 있어 관군은 백산을 내려가 북쪽으로 추격하였다. 농민군은 거짓으로 패한 것처럼 꾸며 황토 고개에 진을 쳤고, 관군은 고개 아래쪽에 진을 쳤다. 농민군이 삼면을 포위하고 서쪽 한 방향만 열어 놓고 공격하자 관군은 일시에 무너졌다.

(나) 정읍에서 진격해 온 농민군이 전주 서문 밖에 이르러 진을 쳤다. 감사 김문현은 서문을 닫아걸고 성문 밖의 민가 수천 채에 불을 질러 그들이 성을 타고 넘어와 공격할 것에 대비하였다. 정오가 지나자 서문이 저절로 열렸고 농민군은 일제히 몰려들어 왔다.

- ① 논산에서 남접과 북접이 연합하였다.
- ② 장성 황룡촌 전투에서 관군에 승리하였다.
- ③ 조병갑의 학정에 맞서 고부 관아를 습격하였다.
- ④ 백산에 집결하여 농민군 4대 강령을 발표하였다.
- ⑤ 안핵사 이용태의 탄압에 항거하여 무장에서 봉기하였다.

11. (가)에 들어갈 내용으로 적절한 것은?

○○○○년 ○월

한국사 신문

◆ 기획 특집: '감필'로 확정된 양역 개혁 방안

국왕은 그간 많은 폐단을 낳았던 양역의 개혁 방안을 발표하였다. 다양한 개혁안 중에서 군포의 부담을 2필에서 1필로 줄여 주는 감필을 최종 선택한 것이다. 이렇게 되면 군포를 거두어 운영하던 각 군영의 재정이 절반으로 줄어들어 운영 자체가 어렵게 된다. 조정에서는 감필로 인한 군영의 손실을 보전해 주기 위해 [가]

- ① 토지 1결당 결작 2두를 수세하기로 하였다.
- ② 탁지아문으로 재정을 일원화하기로 하였다.
- ③ 공명첩을 발행하여 재정을 보충하기로 하였다.
- ④ 민간의 광산 개발을 허용하고 수세하기로 하였다.
- ⑤ 육의전을 제외한 시전의 금난전권을 혁파하기로 하였다.

12. 밑줄 친 '이 단체'에 대한 설명으로 옳은 것은? [3점]

재판관: 이 단체를 설립한 목적은 무엇인가?
 양기탁: 구시대 사상을 혁신하고 문명국으로 인도하기 위해 교육을 장려하고 실업을 확장하려는 취지였다.
 재판관: 그렇다면 비밀리에 활동할 필요가 없지 않았는가?
 양기탁: 규칙 중에 해외 동포와 국내 동포 간에 연락한다는 조항이 있기 때문에, 경찰에 노출될 경우 허가가 나지 않을 것이라고 생각하였다.

- ① 국채 보상 운동을 주도하였다.
- ② 국권 반환 요구서의 발송을 계획하였다.
- ③ 국외 독립 운동 기지 건설을 추진하였다.
- ④ 고종 강제 퇴위 반대 운동을 전개하였다.
- ⑤ 조선 민립 대학 설립 기성회를 조직하였다.

13. (가)~(마)에 대한 탐구 활동으로 적절하지 않은 것은?

Internet

지식 Q&A

질문 한국사에 영향을 준 열강 사이의 조약 혹은 회의에 대해 알려 주세요.

답변

- ↳ 조선에 출병이 필요할 때 청과 일본이 서로 알리기로 한 [가]이/가 있어요.
- ↳ 일본이 청에 라오동 반도의 할양을 요구한 [나]이/가 있어요.
- ↳ 일본이 미국의 필리핀 통치를 인정한 [다]이/가 있어요.
- ↳ 제1차 세계 대전의 수습을 위해 파리에서 개최된 [라]이/가 있어요.
- ↳ 미·영·중의 지도자가 1943년 카이로에서 모인 [마]이/가 있어요.

- ① (가) - 청·일 전쟁이 발생한 배경을 알아본다.
- ② (나) - 삼국 간섭으로 인한 한반도의 정세 변화를 파악한다.
- ③ (다) - 일본의 한국 지배권을 인정한 밀약을 조사한다.
- ④ (라) - 신간회가 창립된 계기를 찾아본다.
- ⑤ (마) - 한국의 독립을 언급한 외교 문서를 분석한다.

14. (가), (나) 사이의 시기에 있었던 사실로 옳은 것을 <보기>에서 고른 것은? [3점]

(가) 5당 통일이 형성될 당시부터 동지들은 단체 조직을 주장하였으나 나는 만류하였다. ... (중략) ... 그러나 지금은 조소앙이 한국 독립당의 재건설을 추진하니, 내가 단체를 조직하여도 통일을 파괴하는 것은 아니며, 임시 정부가 종종 위험을 당하는 것은 튼튼한 배경이 없기 때문인데, 이제 임시 정부를 옹호하는 단체가 필요하다 생각하고 이 당을 조직하였다.

- 『백범일지』 -

(나) 대한민국 임시 정부는 전 민족의 의지와 역량을 집중시키기 위하여 반일 독립 및 정치·경제·교육 균등의 삼균 제도를 기본 원칙으로 하는 새 민주주의 건국 강령을 발표하는 동시에 개인이나 단체를 막론하고 일제를 반대하는 모든 역량은 임시 정부에 집결되어야 한다는 포고를 냈다.

- 「국내외 동포에게 고하는 글」 -

— <보기> —

- ㄱ. 김원봉을 중심으로 민족 혁명당이 결성되었다.
- ㄴ. 화북(화베이)에서 조선 독립 동맹이 결성되었다.
- ㄷ. 중국 국민당의 지원으로 조선 의용대가 창설되었다.
- ㄹ. 한국 국민당, 한국 독립당, 조선 혁명당이 통합되었다.

- ① ㄱ, ㄴ ② ㄱ, ㄷ ③ ㄴ, ㄷ ④ ㄴ, ㄹ ⑤ ㄷ, ㄹ

15. 밑줄 친 ㉠, ㉡에 대한 설명으로 옳은 것은? [3점]

- 우리는 ㉠ 4·13 특별 조치를 국민의 이름으로 무효임을 선언한다. 이 나라는 전제 군주 국가가 아니다. 국민이 국가 권력의 주체이다. 따라서 전 국민적 여망인 민주 헌법 쟁취를 통한 민주 정부의 수립 의지를 정면으로 거부한 이 폭거는 결코 인정될 수 없다.
- 여야 합의하에 조속히 개헌을 하고 ㉡ 새 헌법에 의한 대통령 선거를 통해 평화적 정부 이양을 실현토록 하여야 하겠습니다. 오늘의 이 시점에서 사회적 혼란을 극복하고, 국민적 화해를 이룩하기 위하여 대통령 직선제를 택하지 않을 수 없다는 결론에 이르게 되었습니다.

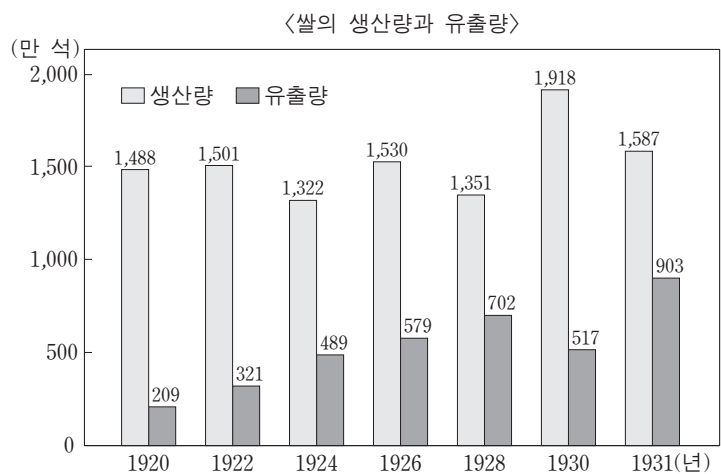
- ① ㉠은 대통령 간선제의 유지가 핵심이었다.
- ② ㉠은 야간 통행금지 폐지와 교복 자율화 조치를 포함하였다.
- ③ ㉡은 대통령 7년 단임제를 규정하였다.
- ④ ㉡은 국회 해산권과 비상 조치권을 명시하였다.
- ⑤ ㉠은 전두환 정부 시기에 발표되었고, ㉡은 노태우 정부 시기에 공포되었다.

16. 밑줄 친 '거사'에 대한 설명으로 옳은 것은? [3점]

새벽에 눈이 떠지더니 잠이 오지 않아 그대로 두 손을 모으고 오늘의 거사가 반드시 성공하기를 기도하였다. 식사도 못하고 태화관으로 향해 떠났다. 4명이 불참한 가운데 오후 2시경 나는 긴장 속에 독립 선언서를 다시 배포하였다. 손병희 선생이 나더러 크게 낭독하라기에 오자를 고치고 그의 지시에 따라 읽었다.

- ① 순종의 인산일을 계기로 계획되었다.
- ② 광주에서 시작되어 전국으로 확산되었다.
- ③ 치안 유지법에 의해 지도부가 검거되었다.
- ④ 국민대표 회의가 개최되는 발단이 되었다.
- ⑤ 대한민국 임시 정부 수립에 영향을 주었다.

17. 그래프에 나타난 시기의 경제 상황으로 적절하지 않은 것은?



- ① 만주로부터 잡곡 수입이 증가하였다.
- ② 수리 조합에서 수리 시설을 확충하였다.
- ③ 한국인의 1인당 쌀 소비량이 감소하였다.
- ④ 미곡을 강제로 거두는 공출제를 실시하였다.
- ⑤ 개간과 간척 사업이 추진되어 농지가 확장되었다.

18. 밑줄 친 '당시'에 볼 수 있었던 모습으로 적절하지 않은 것은?

일제 말기에 징병 2기로 청진까지 가서 온갖 고생을 했던 것이 몇 년 전인데 우리 나이로 28세 되던 해에 또 징집되었다. 논산 훈련소에 입소할 당시, 부산에서 열린 국회에서 개헌안이 막 통과되었다는 이야기를 들었다. 그때의 징병 업무는 병사 사령부가 하지 않았다. 정부가 인원을 면사무소에 할당하면 병역 담당 공무원이 영장을 알아서 발부하였다.

- ① 자유당 당사에서 취재하는 기자
- ② 원조 물자의 배급을 기다리는 시민
- ③ 방위 조약 체결에 따라 주둔한 미군
- ④ 휴전 협상장에 들어가는 유엔군 장교
- ⑤ 지가 증권을 찢값에 사들이는 중개인

19. (가) 회의에서 결정한 내용으로 옳은 것은?

(가) 회의의 결정에도 불구하고 신탁 통치를 반대하는 것은 의사 표현의 자유에 속합니다.



협회의 대상은 (가) 회의의 결정을 지지하는 정당 및 사회단체로 국한하여야 합니다.

- ① 남·북한에서 외국 군대를 철수한다.
- ② 일본군의 무장 해제를 위한 임시 경계선으로 38도선을 설정한다.
- ③ 통일 정부의 수립이 어렵다면 남한만이라도 임시 정부를 구성한다.
- ④ 일본 통치의 폐해를 청산하기 위한 임시 조선 민주주의 정부를 수립한다.
- ⑤ 유엔 한국 임시 위원단의 감시 아래에서 인구 비례로 대표자를 선출한다.

20. (가)에 들어갈 내용으로 적절한 것은? [3점]

◆ 남북 관계의 변화 과정

○ 남과 북은 쌍방 사이의 관계가 나라와 나라 사이의 관계가 아닌 통일을 지향하는 과정에서 잠정적으로 형성되는 특수한 관계라는 것을 인정한다.

↓

(가)

↓

○ 남과 북은 나라의 통일을 위한 남측의 연합제 안과 북측의 낮은 단계의 연방제 안이 서로 공통성이 있다고 인정한다.

- ① 남북 조절 위원회를 구성하였다.
- ② 금강산 관광 사업을 시작하였다.
- ③ 남·북한이 유엔에 동시 가입하였다.
- ④ 경의선 철로를 남북으로 연결하였다.
- ⑤ 한민족 공동체 통일 방안을 제안하였다.

* 확인 사항
○ 답안지의 해당란에 필요한 내용을 정확히 기입(표기)했는지 확인하십시오.

제 4 교시

사회탐구 영역(한국 지리)

성명 수험 번호

1. 다음은 지리 수업의 한 장면이다. 옳은 내용을 발표한 학생은?

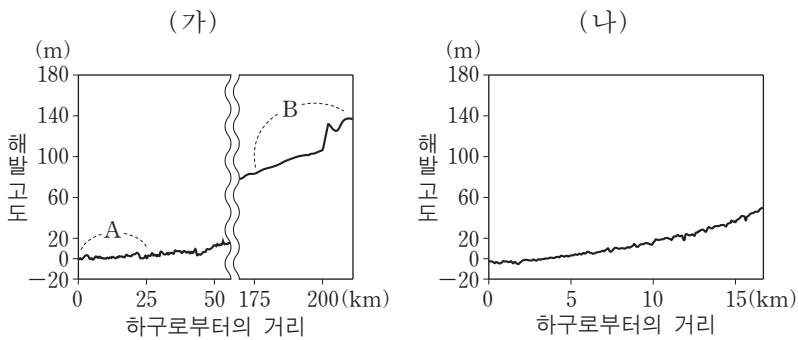
교사: 대동여지도의 일부와 지도표를 보고 알 수 있는 내용을 발표해 볼까요?

지도표

- 읍치 (邑治)
- ⊙ 역참 (驛站)
- 창고 (倉庫)
- ▲ 고산성 (古山城)

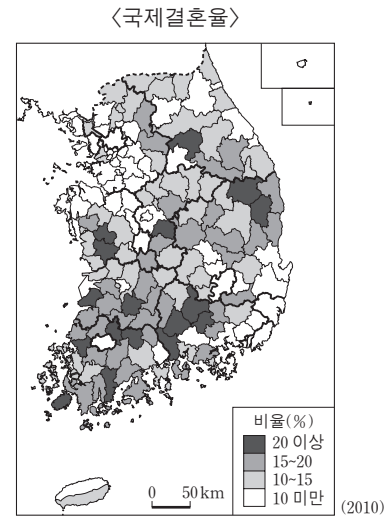
- ① 갑: A는 육로 및 수로 교통이 편리한 중심지입니다.
- ② 을: A는 지도 제작 당시의 도읍지입니다.
- ③ 병: A에서 B까지는 당시 거리로 10리가 넘습니다.
- ④ 정: A에서 C로 가려면 고개를 넘어야 합니다.
- ⑤ 무: D는 A의 방어를 위한 통신 시설입니다.

2. 그래프는 태백산맥으로부터 황해와 동해로 흐르는 두 하천의 일부 구간 바닥 고도를 나타낸 것이다. (가), (나) 하천에 대한 설명으로 가장 적절한 것은? [3점]



- ① (가)의 A에는 하천 수위가 밀물과 썰물의 영향을 받는 구간이 나타난다.
- ② (가)의 B 주변은 A 주변에 비해 자유 곡류 하천의 발달에 유리하다.
- ③ (나)는 (가)보다 유역 면적이 넓다.
- ④ (나)는 (가)보다 하구에서의 유량이 많다.
- ⑤ (나)의 하구는 (가)의 하구에 비해 퇴적물 중 점토의 비율이 높다.

3. 지도에 나타난 현상의 원인으로 가장 적절한 것은?



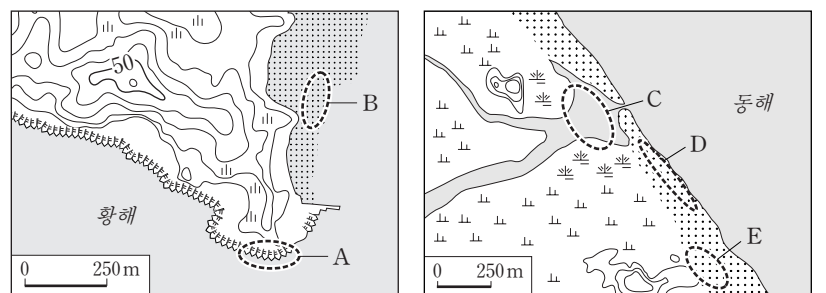
- ① 은퇴한 베이비 붐 세대의 귀농 증가
- ② 유아 사망률 감소와 평균 수명 증가
- ③ 촌락 지역의 청·장년층 성비 불균형
- ④ 균형 발전을 위한 공공 기관의 지방 이전
- ⑤ 다국적 기업의 국내 진출에 의한 외국 고급 인력 유입

4. 다음 글의 ㉠~㉣에 대한 설명으로 옳지 않은 것은?

우리나라의 정주 체계는 ㉠읍·면, ㉡중소 도시, 지방 거점 도시, 그리고 ㉢대도시에 이르기까지 여러 계층으로 구성된다. 각 계층별 중심지는 서로 의존 관계를 이루는데, 이러한 의존 관계를 ㉣중심지 간 인구와 재화의 이동 등의 측면에서 살펴보면, 우리나라의 도시 계층 구조를 전체적으로 파악할 수 있다.

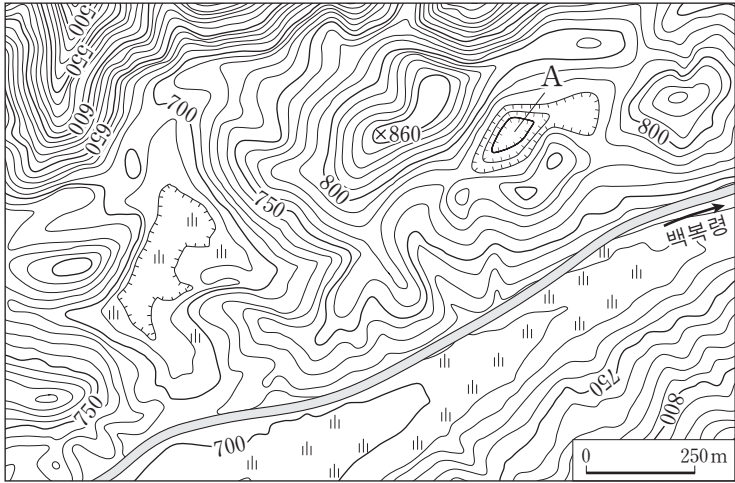
- ① ㉠은 ㉡에 비해 배후 지역이 넓다.
- ② ㉠은 ㉢에 비해 1차 산업 종사자 비중이 높다.
- ③ ㉢ 간 거리는 ㉡ 간 거리보다 멀다.
- ④ ㉢에는 최소 요구치가 큰 고차 기능이 입지한다.
- ⑤ ㉣은 도시의 규모에 비례하고 도시 간 거리에 반비례한다.

5. 지도의 A~E에 대한 설명으로 옳지 않은 것은? [3점]



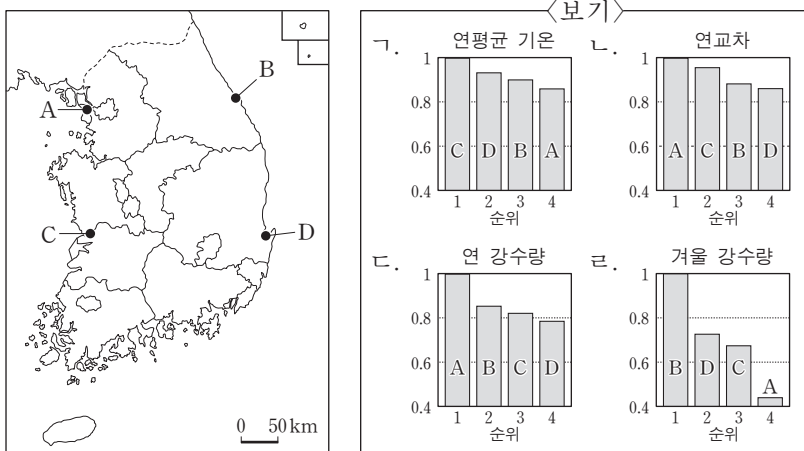
- ① A는 파랑 에너지가 집중되는 곳에 잘 발달한다.
- ② B는 주로 조류의 퇴적 작용으로 형성된 지형이다.
- ③ C의 호수 면적은 최종 빙기 이후 넓어지고 있다.
- ④ D는 주로 파랑과 연안류의 퇴적 작용으로 형성된 지형이다.
- ⑤ E에는 바람에 의해 사빈에서 이동된 모래가 쌓여 있다.

6. 지도에 나타난 지역에 대한 설명으로 옳지 않은 것은?



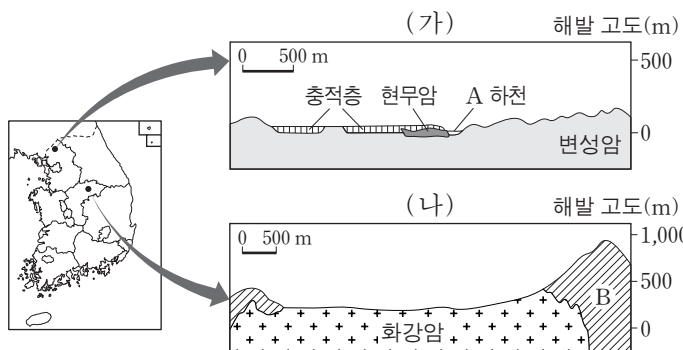
- ① 기반암은 고생대에 형성된 퇴적암이다.
- ② 신생대의 경동성 요곡 운동 과정에서 융기되었다.
- ③ 암석이 풍화되고 남은 물질로 이루어진 적색 토양이 나타난다.
- ④ 이 지역의 자연 동굴은 빗물이나 지하수의 용식 작용으로 형성되었다.
- ⑤ A 지형은 울릉도 나리 분지와 형성 과정이 유사하다.

7. 지도의 A~D 지역 기후 값 순위에 맞게 배열한 것을 <보기>에서 고른 것은? (단, 그래프의 값은 가장 큰 기후 값을 1로 했을 때의 비율임.) [3점]



- ① 가, 나 ② 가, 다 ③ 나, 다 ④ 나, 라 ⑤ 다, 라

8. 그림은 두 지역의 단면도이다. (가), (나)에 대한 설명으로 옳은 것은? [3점]



- ① (가)의 A 하천은 강수 시 일시적으로 흐르는 건천이다.
- ② (가)에 흐른 용암은 중상 화산을 만든 용암보다 점성이 컸다.
- ③ (나)의 분지는 차별 풍화·침식으로 형성되었다.
- ④ (나)의 B 암석으로 된 산의 정상부는 주로 돌산으로 분류된다.
- ⑤ (나)의 화강암은 (가)의 현무암보다 형성 시기가 늦다.

9. (가), (나)에 나타난 자원의 유형 변화를 표에서 찾아 옳게 나타낸 것은?

(가) 철강 수요 증가에 따라 국제 거래 가격이 상승하면서 ○○광산의 철광석 채굴이 재개되었다. 이는 톤당 80달러였던 국제 철광석 가격이 최근 160달러로 상승하면서 나타난 현상이다.

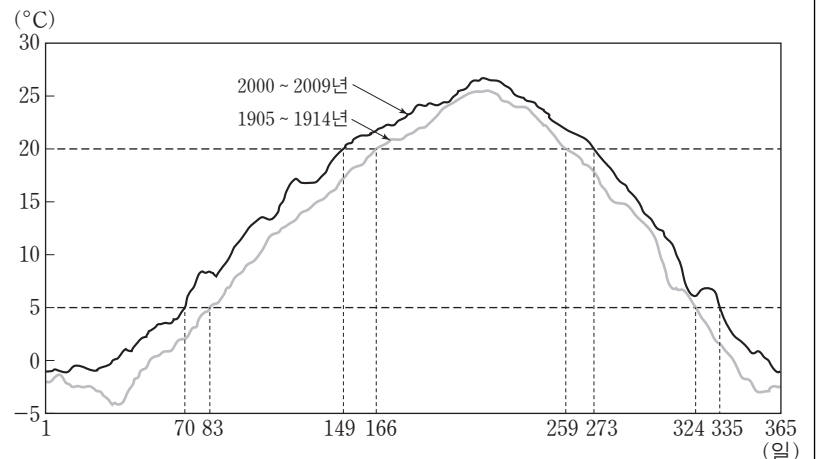
(나) 태양광은 전력 생산에 시험적으로만 이용되었다. 그러나 기술 개발과 대규모 투자 등으로 발전 비용이 낮아져 태양광을 이용한 전력 생산과 거래가 최근 급격히 증가하고 있다.

자원의 의미 자원 재생수준	기술적 의미의 자원	
	경제적 의미의 자원	자원
사용으로 고갈되는 재생불가능 자원	A	B
재생 수준이 가변적인 자원	C	D
사용량과 무관한 재생가능 자원	E	F

- (가) (나)
- ① B → A F → E
 - ② C → D E → F
 - ③ C → D F → E
 - ④ D → C E → F
 - ⑤ D → C F → E

10. 다음은 지리 수업의 한 장면이다. 옳지 않은 내용을 발표한 학생은? [3점]

교사: 그래프는 기상청에서 발표한 ○○ 지역의 일평균 기온 변화 자료입니다. 이를 보고 ○○ 지역의 계절 변화와 이로 인해 나타날 수 있는 현상에 대해 발표해 볼까요?




* 일평균 기온 5°C 미만은 겨울, 5°C 이상 ~ 20°C 미만은 봄·가을, 20°C 이상은 여름으로 계절을 구분함.

- 갑: 여름의 시작일이 과거에 비해 빨라졌습니다.
- 을: 가을은 겨울보다 계절의 시작일이 더 많이 늦어졌습니다.
- 병: 계절 일수의 변화 폭은 겨울이 가장 큼니다.
- 정: 봄꽃의 개화 시기가 빨라질 것입니다.
- 무: 하천의 결빙 일수가 줄어들 것입니다.

- ① 갑 ② 을 ③ 병 ④ 정 ⑤ 무

11. 그래프는 남·북한의 농업을 비교한 것이다. 이에 대한 옳은 설명을 <보기>에서 고른 것은?

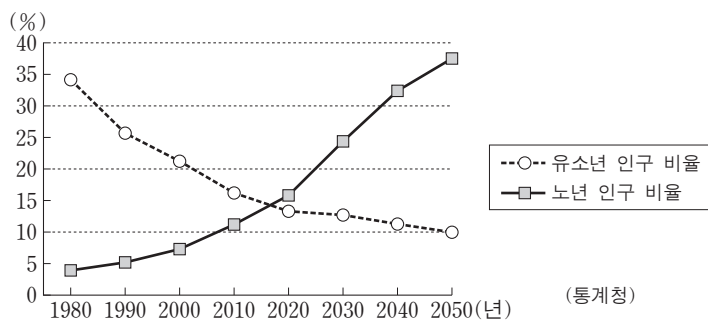


<보기>

ㄱ. 북한은 남한에 비해 농가 수가 적다.
 ㄴ. 북한에서 생산량이 많은 A는 옥수수이다.
 ㄷ. 남한은 북한에 비해 서류 생산량이 많다.
 ㄹ. 남한은 북한에 비해 경지의 식량 작물 생산성이 높다.

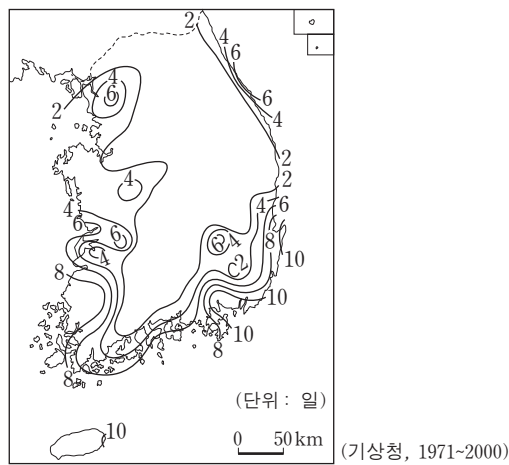
- ① ㄱ, ㄴ ② ㄱ, ㄷ ③ ㄴ, ㄷ ④ ㄴ, ㄹ ⑤ ㄷ, ㄹ

12. 그래프는 1980~2050년 우리나라 유소년과 노년 인구 비율을 나타낸 것이다. 이 기간의 전체적인 변화에 대한 설명으로 옳지 않은 것은? [3점]



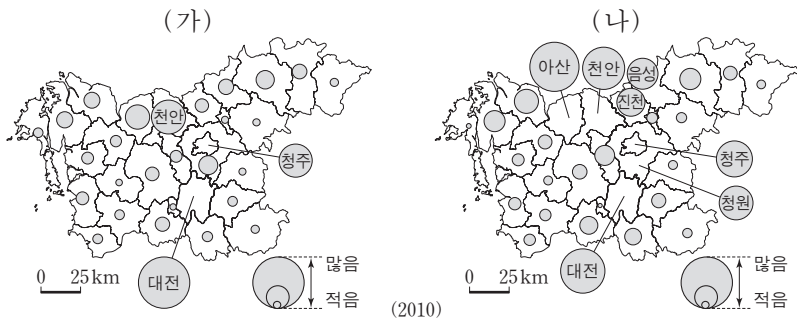
- ① 총부양비는 감소 후 증가한다.
 ② 유소년 부양비는 증가 후 감소한다.
 ③ 노년 부양비는 지속적으로 증가한다.
 ④ 고령화 지수는 지속적으로 증가한다.
 ⑤ 청·장년 인구 비율은 증가 후 감소한다.

13. 지도는 어떤 기후 현상의 연평균 발생 일수를 나타낸 것이다. 이 현상에 대한 설명으로 가장 적절한 것은?



- ① 노지에서 재배되는 농작물의 생육 기간을 결정한다.
 ② 야간의 냉방 수요를 급증시켜 전력 소비량을 늘린다.
 ③ 건조한 날씨의 지속으로 각종 용수 부족을 초래한다.
 ④ 미세 먼지 농도를 높여 호흡기 질환 발생을 증가시킨다.
 ⑤ 비닐하우스 등의 구조물에 무게를 가해 붕괴시키기도 한다.

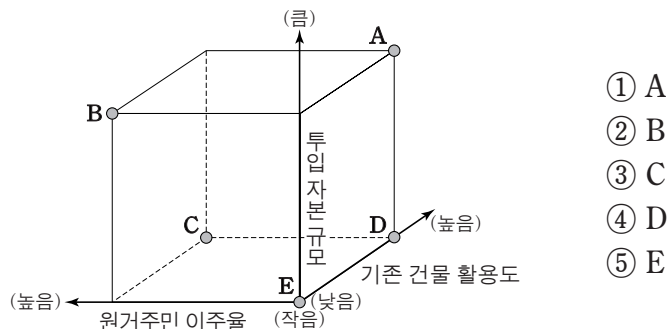
14. 충청권의 산업 현황을 나타낸 (가), (나) 지도의 제목으로 적절한 것은? [3점]



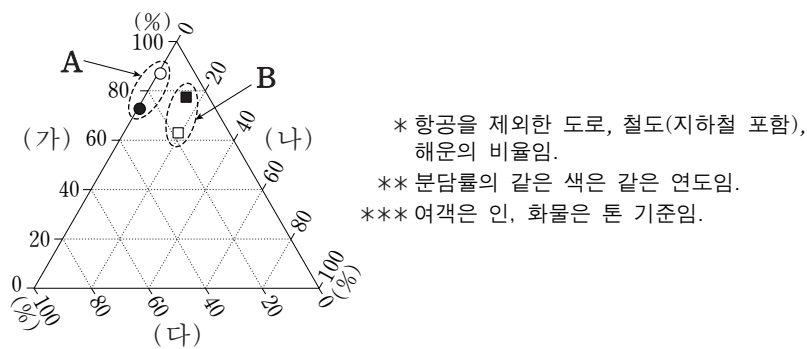
- | | |
|-------------|-----------|
| ① 총종사자 수 | 제조업 종사자 수 |
| ② 총종사자 수 | 서비스업 생산액 |
| ③ 제조업 종사자 수 | 총종사자 수 |
| ④ 제조업 종사자 수 | 서비스업 생산액 |
| ⑤ 서비스업 생산액 | 총종사자 수 |

15. (가) 지역과 비교한 (나) 지역 도시 재개발의 상대적 특성을 그림의 A~E에서 고른 것은?

(가) 하늘 아래 첫 동네로 불리던 서울 관악구 ○○의 달동네 모습이 사라졌다. 과거 도시 철거민들이 밀집하여 거주했던 이곳은 대규모 아파트 단지가 건설되면서 새로운 모습의 주거 지역으로 변모하였다.
 (나) 부산의 피란민 역사를 간직한 사하구 □□마을이 탈바꿈하고 있다. 빈집들 중 일부가 갤러리와 카페 공간으로 개조되고, 골목길 곳곳에 주민과 대학생들이 만든 조형물이 설치되어 문화 예술 체험 공간으로 재정의되었다.



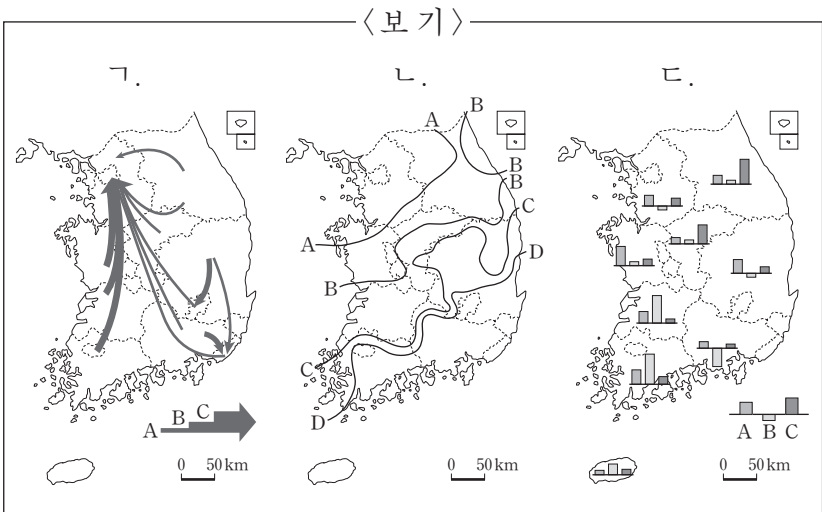
16. 그래프는 1990년과 2010년 (가)~(다) 교통수단의 국내 수송량 분담률을 나타낸 것이다. 이에 대한 설명으로 옳은 것은? (단, A와 B는 여객과 화물 수송량 분담률 중 하나임.)



- ① A는 화물, B는 여객 수송량 분담률을 나타낸다.
 ② A는 1990년과 2010년 사이 ○에서 ●로 변화했다.
 ③ (가)는 (나)보다 기중점 비용이 크다.
 ④ (나)는 (다)보다 기상 조건의 영향을 적게 받는다.
 ⑤ (다)는 (가)보다 문전 연결성이 우수하다.

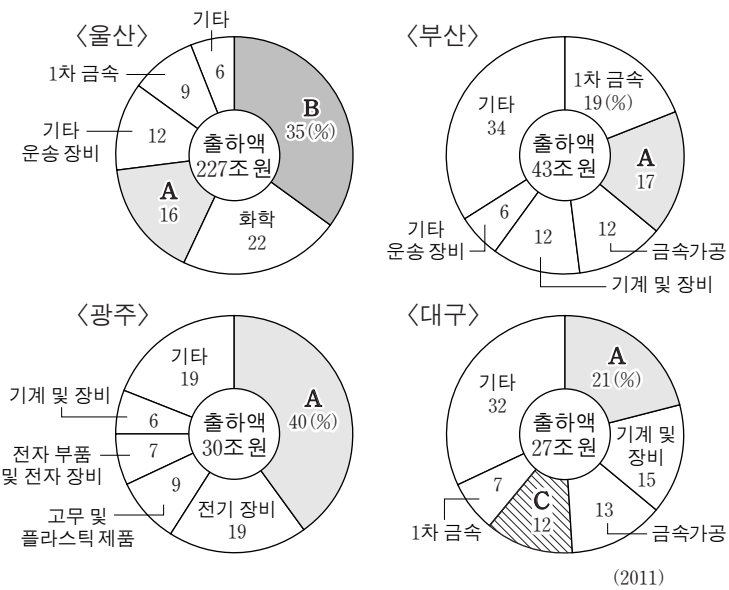
17. 다음 글의 밑줄 친 (가), (나) 내용을 표현하기에 적합한 지도 유형을 <보기>에서 고른 것은?

기후 변화가 농작물 재배에도 영향을 미치고 있는 것으로 나타났다. (가) 2008년 통계에 따르면 사과의 경우 대구의 재배 면적은 1980년대에 비해 75% 감소했지만 경북 청송은 210% 증가하였다. 한라봉은 제주도에서만 생산되었지만 최근에는 서·남해안 지역까지, 녹차는 중부 지방 일부 지역까지 재배가 확대되는 등 (나) 여러 작물의 재배 북한계선이 북상하였다.



- (가) (나) (가) (나) (가) (나)
- ① ㄱ ㄴ ② ㄱ ㄷ ③ ㄴ ㄷ
④ ㄷ ㄱ ⑤ ㄷ ㄴ

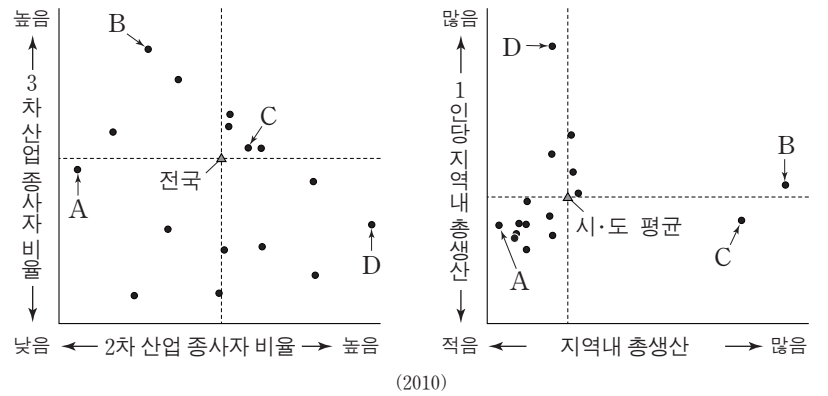
18. 그래프는 영·호남 4개 광역시의 제조업별 출하액 비중을 나타낸 것이다. A~C 산업에 대한 옳은 설명을 <보기>에서 고른 것은? [3점]



(가) A는 다양한 소비 수요에 따라 다품종 소량 생산이 이루어진다.
(나) B는 원료의 해외 의존도가 높아 주로 해안에 입지한다.
(다) C는 1960~70년대 우리나라 수출을 주도했던 대표적인 경공업이다.
(라) B는 C보다 생산비에서 노동비가 차지하는 비중이 높다.

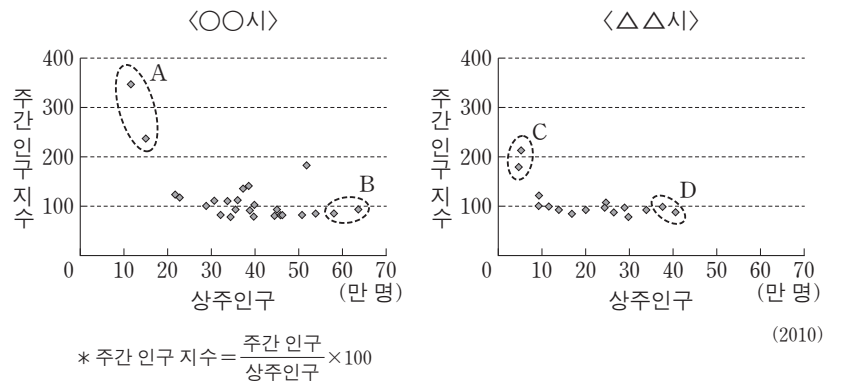
- ① ㄱ, ㄴ ② ㄱ, ㄷ ③ ㄴ, ㄷ ④ ㄴ, ㄹ ⑤ ㄷ, ㄹ

19. 그래프는 전국 16개 시·도의 산업 구조와 지역내 총생산에 관한 것이다. A~D에 해당하는 지역으로 옳은 것은? [3점]



- | | A | B | C | D |
|---|----|----|----|----|
| ① | 제주 | 서울 | 경기 | 울산 |
| ② | 제주 | 울산 | 경기 | 서울 |
| ③ | 전남 | 경기 | 서울 | 울산 |
| ④ | 전남 | 경기 | 울산 | 서울 |
| ⑤ | 전남 | 서울 | 경기 | 울산 |

20. 그래프는 우리나라 두 대도시의 구(區)별 상주인구와 주간 인구 지수를 나타낸 것이다. 이에 대한 옳은 설명을 <보기>에서 고른 것은? [3점]



(가) A는 B보다 업무용 건물 평균 층수가 적다.
(나) A는 C보다 생산자 서비스업 종사자 수가 많다.
(다) B는 C보다 주간 인구가 많다.
(라) C는 D보다 주거 기능이 강하다.

- ① ㄱ, ㄴ ② ㄱ, ㄷ ③ ㄴ, ㄷ ④ ㄴ, ㄹ ⑤ ㄷ, ㄹ

* 확인 사항
○ 답안지의 해당란에 필요한 내용을 정확히 기입(표기)했는지 확인 하시오.

제 4 교시

사회탐구 영역(세계 지리)

성명 수험 번호

1. 다음은 세계 지도에 대한 수업 장면이다. 교사의 질문에 답한 내용이 옳은 학생만을 있는 대로 고른 것은? [3점]

(가), (나) 세계 지도에 대해 설명해 볼까요?

(가) (나)

갑 을 병 정

(가)는 고대 그리스·로마 시대에 고안된 경위선망을 활용하였어요.

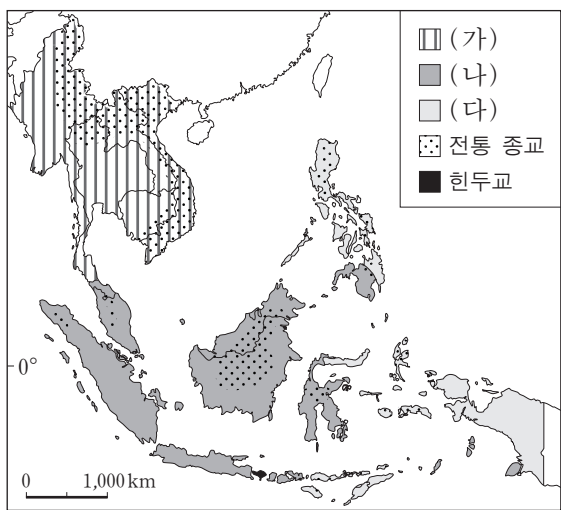
(가)는 지구가 둥글다는 인식을 바탕으로 제작되었어요.

(나)는 중국에서 처음 제작된 중국 중심의 세계 지도예요.

(나)는 유럽 및 아프리카 대륙도 지도에 표현하고 있어요.

- ① 갑, 을 ② 을, 병 ③ 병, 정
 ④ 갑, 을, 정 ⑤ 갑, 병, 정

2. 지도는 동남아시아의 주요 종교 분포를 나타낸 것이다. (가)~(다) 종교에 대한 옳은 설명만을 <보기>에서 있는 대로 고른 것은? [3점]



<보기>

ㄱ. (가)는 남부 아시아에서 기원하여 지역에 따라 여러 종파로 발전했다.

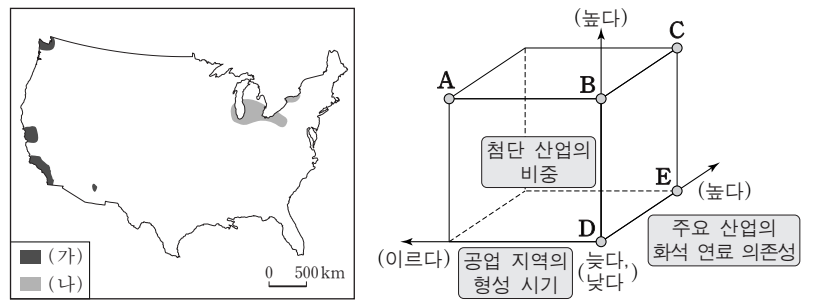
ㄴ. (나)는 서남아시아에서 기원하여 주변의 건조 지역을 중심으로 전파되었다.

ㄷ. (다)는 식민지 개척 시기에 주로 유럽인들에 의해 신대륙으로 전파되었다.

ㄹ. 전 세계의 신자 수는 (가)>(나)>(다) 순이다.

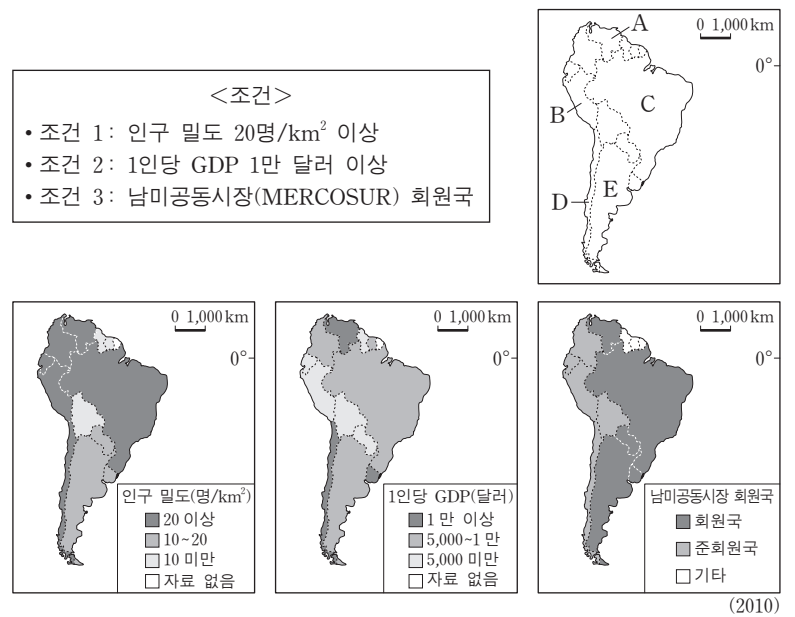
- ① ㄱ, ㄷ ② ㄱ, ㄹ ③ ㄴ, ㄹ
 ④ ㄱ, ㄴ, ㄷ ⑤ ㄴ, ㄷ, ㄹ

3. 지도의 (나) 공업 지역과 비교한 (가) 공업 지역의 상대적 특징을 그림의 A~E에서 고른 것은?



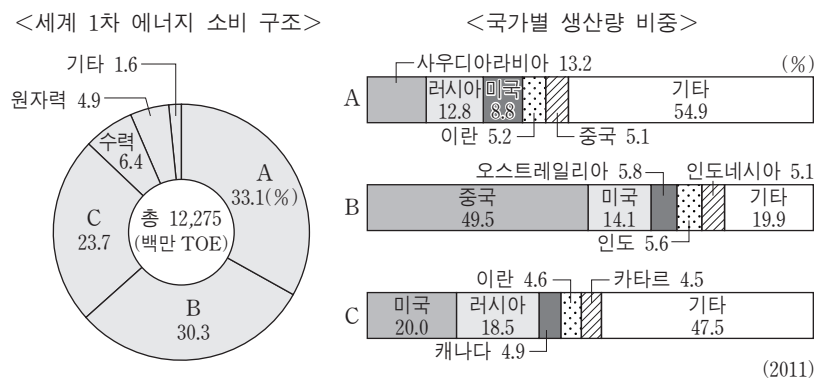
- ① A ② B ③ C ④ D ⑤ E

4. 다음 <조건>을 만족하는 국가에 다국적 기업의 해외 지점을 설립하고자 한다. 최종 후보 국가를 지도의 A~E에서 고른 것은?



- ① A ② B ③ C ④ D ⑤ E

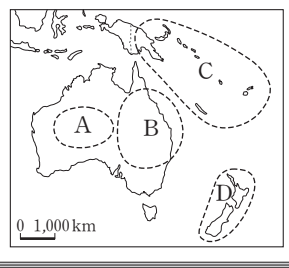
5. 그래프의 A~C에 해당하는 에너지 자원에 대한 설명으로 옳은 것은?



- ① A는 산업 혁명 시기에 주요 동력 자원으로 이용되었다.
- ② B는 냉동 액화 저장 기술의 발달로 사용량이 증가하였다.
- ③ C는 운송용 연료로 가장 많이 사용된다.
- ④ A, B의 주요 생산국들은 공동으로 국제 기구를 결성해 생산량을 결정하고 있다.
- ⑤ A와 C는 주로 신생대 지층에 매장되어 있다.

6. 다음 자료의 A~D 지역에 대해 발표한 내용이 옳은 학생만을 있는 대로 고른 것은? [3점]

오세아니아의 생태 관광 프로그램 계획서



- 일정: 2014년 ○월 출발 예정
- 참가자: 4개 그룹(1조, 2조, 3조, 4조)
- 조별 생태 관광 지역
 - 1조: A 지역
 - 2조: B 지역
 - 3조: C 지역
 - 4조: D 지역

갑: A에서는 원주민이 신성시하는 거대한 바위인 울루루를 볼 수 있고, 사막 체험도 할 수 있어요.
 을: B의 바다에서는 대보초를 볼 수 있고, 내륙의 대찬정 분지에서는 양털 깎기 체험을 할 수 있어요.
 병: C에서는 산호초와 화산섬을 볼 수 있고, 다양한 민족(종족)들의 문화를 체험할 수 있어요.
 정: D의 북섬에서는 피오르 해안을 볼 수 있고, 원주민인 아보리진의 민속 문화를 체험할 수 있어요.

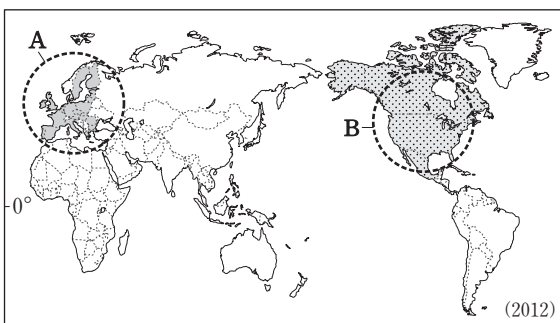
- ① 갑, 을 ② 을, 정 ③ 갑, 을, 병
 ④ 갑, 병, 정 ⑤ 을, 병, 정

7. 다음 글의 밑줄 친 현상이 연중 가장 길게 나타나는 기후 지역에 대한 설명으로 옳은 것은? [3점]

일반적으로 대기는 지표면으로부터 열을 받고 있기 때문에 고도가 높아질수록 기온은 낮아진다. 그러나 지표가 태양 광선을 지나치게 반사하게 되면 오히려 지표에 접한 공기가 그 위의 공기보다 차가워지는 현상이 발생하기도 한다. 그 이유는 지표의 태양 광선 반사가 증가할수록 지표의 태양 광선 흡수는 감소하고, 이에 따라 지표면의 온도가 낮아지기 때문이다.
 지표의 태양 광선 반사율은 광선의 입사각과 지표 특성에 의해 결정된다. 지표의 태양 광선 반사율은 수목으로 덮인 곳이 5~20%, 초지가 15~30%, 모래밭이 20~40%, 눈과 얼음으로 덮인 곳이 50~90% 등이다.

- ① 유기물이 두껍게 쌓여 토양이 강한 산성을 띤다.
 ② 북반구와 달리 남반구에서는 거의 나타나지 않는다.
 ③ 평균적으로 일교차가 가장 크게 나타나는 기후 지역이다.
 ④ 연 강수량이 매우 적고 최난월 평균 기온은 0°C 이하이다.
 ⑤ 여름에 일시적으로 내린 빗물이 포상홍수를 이루어 지형 변화에 큰 영향을 미친다.

8. 지도는 지역 경제 협력체 A, B의 회원국을 나타낸 것이다. A, B에 대한 옳은 설명만을 <보기>에서 있는 대로 고른 것은? [3점]

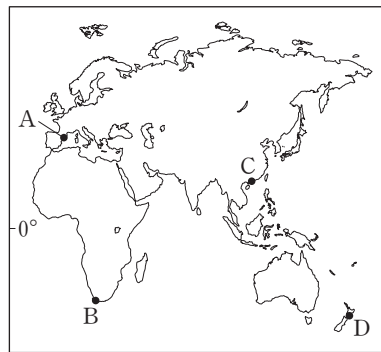
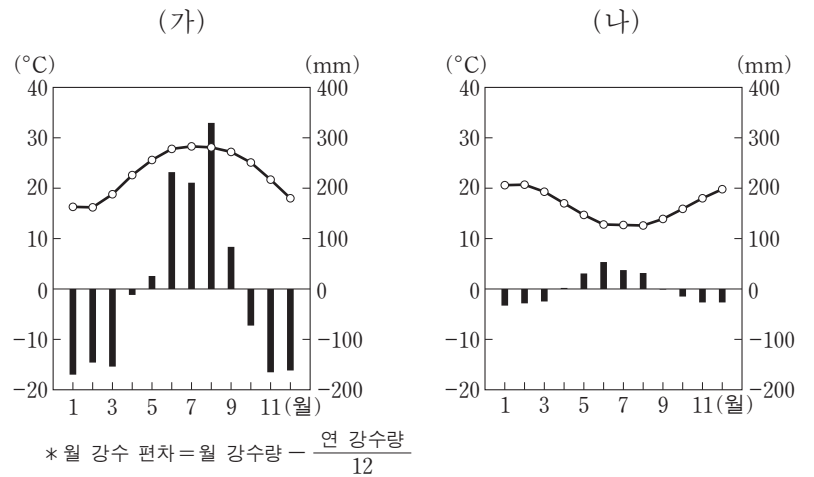


—<보기>—

- ㄱ. B가 등장하면서 멕시코에 대한 외국 자본 투자가 급증했다.
 ㄴ. A, B 모두 역외 공동 관세를 부과한다.
 ㄷ. A는 B보다 총생산액의 규모가 크다.
 ㄹ. B는 A보다 총무역액 중 역내 교역 비중이 크다.

- ① ㄱ, ㄴ ② ㄱ, ㄷ ③ ㄱ, ㄴ, ㄹ
 ④ ㄱ, ㄷ, ㄹ ⑤ ㄴ, ㄷ, ㄹ

9. 그래프는 온대 기후 지역에 위치한 두 도시의 월 평균 기온과 월 강수 편차를 나타낸 것이다. (가), (나)에 해당하는 도시를 지도의 A~D에서 고른 것은?



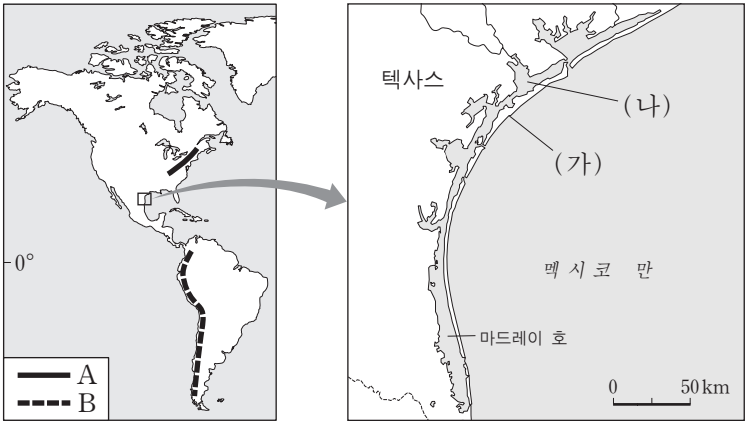
- | | (가) | (나) |
|---|-----|-----|
| ① | A | B |
| ② | A | D |
| ③ | B | C |
| ④ | C | B |
| ⑤ | C | D |

10. 다음 자료는 매출액 기준 세계 100대 기업에 관한 것이다. 이에 대한 설명으로 옳지 않은 것은? [3점]



- ① 100대 기업의 본사는 대부분 북반구에 위치하고 있다.
 ② 도시별 100대 기업의 평균 매출액은 파리가 런던보다 많다.
 ③ 미국은 중국보다 특정 도시에 대한 100대 기업 본사의 집중도가 낮다.
 ④ 아시아에서 100대 기업의 본사는 대부분 동부 아시아에 위치해 있다.
 ⑤ 도시별 100대 기업의 총매출액이 가장 많은 도시가 본사 수도 가장 많다.

[11~12] 다음 지도를 보고 물음에 답하십시오.



11. 위 지도의 A, B 산맥에 대한 설명으로 옳은 것은?

- ① A에서는 화산 활동, 지진 등이 자주 발생한다.
- ② A는 우랄 산맥과 같이 대륙판의 내부에 위치한다.
- ③ B에는 철광석, 석탄 등의 세계적 생산지가 분포한다.
- ④ B는 오랜 침식을 받아 해발 고도가 낮고 경사가 완만하다.
- ⑤ A는 B에 비해 형성 시기가 늦다.

12. 위 지도의 (가), (나) 지형에 대한 설명으로 가장 적절한 것은?

- ① (가)의 주요 구성 물질은 모래이다.
- ② (가)는 수심이 깊은 곳에 잘 형성된다.
- ③ (나)의 물은 주로 농업용수로 이용된다.
- ④ (나)는 빙하가 후퇴한 자리에 형성된 호수이다.
- ⑤ (가)와 (나)는 퇴적보다 침식이 활발한 곳에서 잘 형성된다.

13. 다음 자료의 밑줄 친 (가) 경관이 나타나는 지역에 대한 옳은 설명을 <보기>에서 고른 것은? [3점]

클래식의 세계 2013년 11월 호

북유럽의 대자연을 담은 그리그의 음악 세계

노르웨이 출신의 작곡가 그리그는 조국을 목숨처럼 사랑했으며 노르웨이 사람들만이 만들고 느낄 수 있는 음악을 작곡하였다. 그의 음악에는 (가)노르웨이에서 볼 수 있는 하늘을 찌를 듯이 치솟은 나무들, U자형 계곡에서 하얗게 부서져 내리는 폭포, 그리고 만입부에서 내륙으로 길게 이어지는 해안 등 대자연의 웅장한 풍광이 담겨 있는 듯하다.

Alla marcia e molto marcato. M.M. ♩=138.

Hörn. Vclln.K.Baß pizz. sempre staccato e pp.

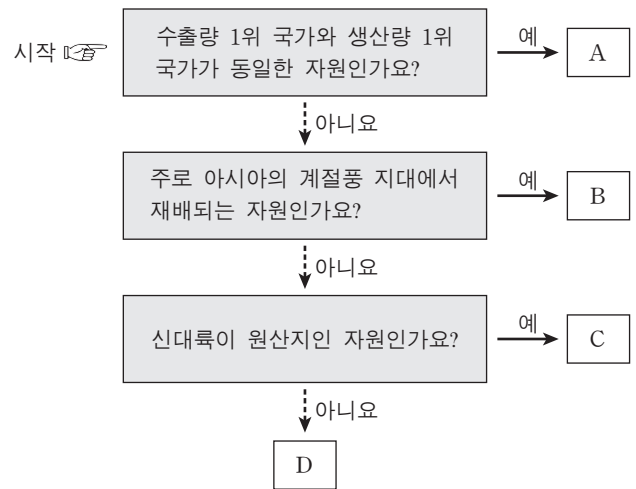
<그리그의 페르켄트 모음곡 'In the Hall of the Mountain King' 중에서>

— <보기> —

- ㄱ. 침엽수림대가 넓게 분포해 임업이 발달했다.
- ㄴ. 권곡, 혼 등의 다양한 빙하 침식 지형이 나타난다.
- ㄷ. 벽이 두껍고 창이 작은 흙벽돌집을 쉽게 볼 수 있다.
- ㄹ. 강수일수가 적고 여름이 건조하여 수목 농업이 발달했다.

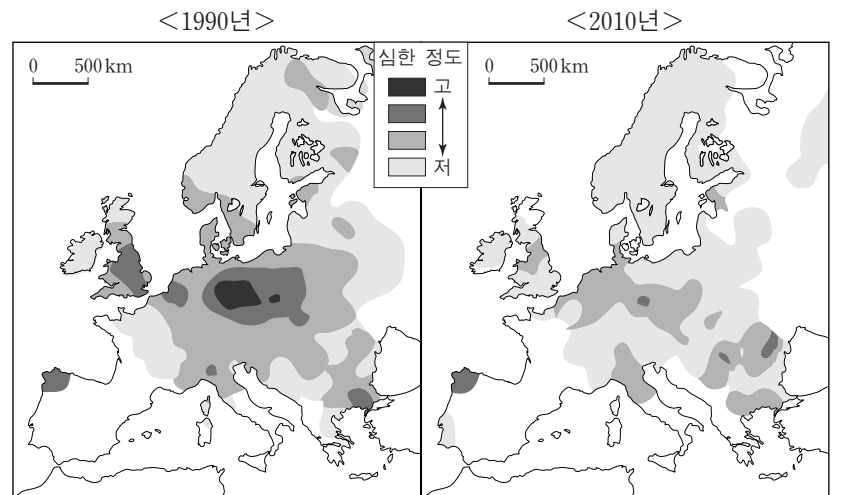
- ① ㄱ, ㄴ ② ㄱ, ㄷ ③ ㄴ, ㄷ ④ ㄴ, ㄹ ⑤ ㄷ, ㄹ

14. 지도는 주요 식량 자원 (가), (나)의 세계 10대 수출국을 나타낸 것이다. (가), (나)에 해당하는 것을 그림의 A~D에서 고른 것은? [3점]



- | | | | | | |
|---|-----|-----|---|-----|-----|
| | (가) | (나) | | (가) | (나) |
| ① | A | C | ② | A | D |
| ③ | B | A | ④ | B | D |
| ⑤ | D | C | | | |

15. 지도는 어떤 환경 문제가 나타난 지역을 시기별로 표현한 것이다. 이 환경 문제에 대한 설명으로 가장 적절한 것은?



- ① 무분별한 대규모 벌목 사업으로 인해 발생한다.
- ② 아프리카의 사헬 지대가 대표적인 사례 지역이다.
- ③ 지하수의 남용을 억제하는 것이 근본적인 대책이다.
- ④ 이것의 해결을 위해 국제 사회는 런던 협약을 채택했다.
- ⑤ 삼림의 황폐화, 수중 생물 수의 감소 등을 주로 일으킨다.

4 사회탐구 영역 (세계 지리)

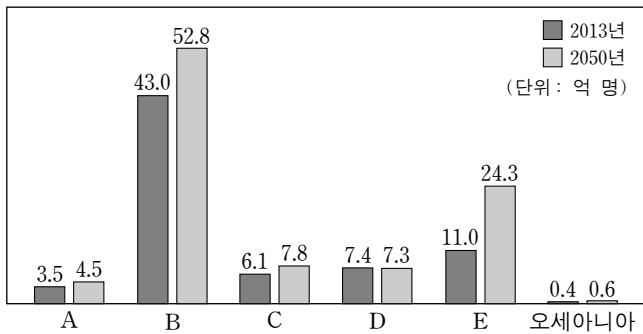
16. 다음 글의 (가)~(다) 기후에 대한 설명으로 옳은 것은? [3점]

① 피렌에 따르면 열대 기후는 최한월 평균 기온이 18°C 이상인 기후로 강수 특성에 따라 다음과 같이 세분된다. (가) 은/는 연중 습윤하며 모든 달의 강수량이 60mm 이상이다. (나) 은/는 건기와 우기가 뚜렷하고 가장 건조한 달의 강수량이 60mm 이하이다. (다) 은/는 (가) 와/과 (나) 의 중간형으로 월 강수량이 60mm 이하인 달이 있기는 하지만, 고온 다습한 계절풍의 영향을 받아 대개 연 강수량이 2,000mm를 넘는다.

- ① (가)는 편서풍대에 나타나며 해류의 영향으로 강수량이 많다.
- ② (나)는 동남아시아와 오스트레일리아 북부에서도 나타난다.
- ③ (다) 지역은 세계 최대의 목화 생산 지역이다.
- ④ (나) 지역은 (다) 지역보다 단위면적당 수목 밀도가 높다.
- ⑤ (가)~(다) 모두 연교차가 일교차보다 크다.

17. 그래프의 A~E 대륙에 대한 옳은 설명만을 <보기>에서 있는 대로 고른 것은? (단, 아메리카는 앵글로 아메리카와 라틴 아메리카로 구분함.)

<대륙별 2013년 및 2050년 추정 인구>



<보기>

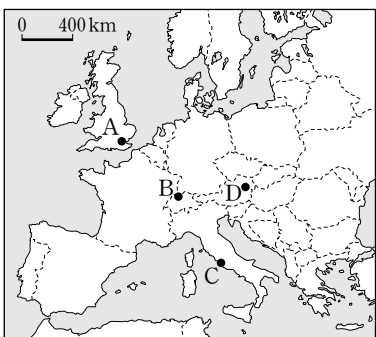
- ㄱ. A는 모든 대륙 중 인종 간 혼혈 인구의 비중이 가장 높다.
- ㄴ. C는 대륙의 남서부를 중심으로 히스패닉이 집중 분포한다.
- ㄷ. B의 인구 밀도는 E의 인구 밀도보다 높다.
- ㄹ. D의 중위 연령은 A의 중위 연령보다 높다.

- ① ㄱ, ㄴ ② ㄴ, ㄷ ③ ㄷ, ㄹ
- ④ ㄱ, ㄴ, ㄹ ⑤ ㄱ, ㄷ, ㄹ

18. 다음 자료의 (가), (나)에서 설명하는 도시를 지도의 A~D에서 고른 것은?

(가) 이 도시는 세계 3대 금융 중심지의 하나이다. 특히 금융 회사들의 진출이 급증하면서 기존 중심지 외에 '카나리 워프'라는 새로운 금융 중심 지구를 개발하여 최고의 국제 금융 도시라는 위상을 공고히 하였다.

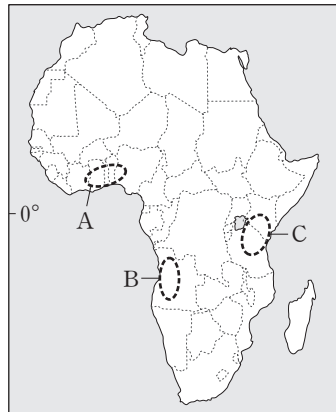
(나) 이 도시는 이웃한 두 나라의 국경과 가까워 상업과 교통의 중심지 역할을 하고 있으며, 세계 최대의 시계 박람회 개최의 곳이다. 전통적으로 이 도시는 시계 산업으로 유명하였고, 최근에는 판매의 중심지로도 부상하고 있다.



- | | (가) | (나) |
|---|-----|-----|
| ① | A | B |
| ② | A | D |
| ③ | B | D |
| ④ | C | A |
| ⑤ | C | B |

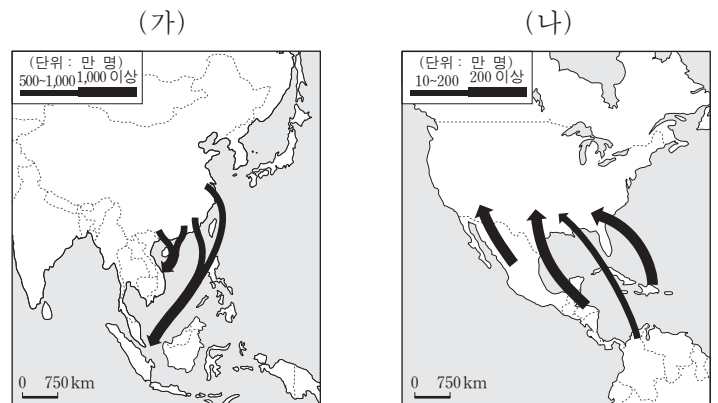
19. 다음 자료의 (가), (나)에 해당하는 지역을 지도의 A~C에서 고른 것은?

- (가) 암보셀리 국립공원이 위치한 이 지역은 어니스트 헤밍웨이가 저작 활동을 했던 곳이기도 하다. 넓은 평원이 펼쳐진 이 지역은 건기에도 킬리만자로 산의 눈이 녹으면서 많은 물이 공급되기 때문에, 수많은 포유류와 조류가 서식할 정도로 생태계가 잘 보존되어 있다.
- (나) 베냉 만에 인접한 이 지역은 과거 아프리카 노예무역의 주요 거점이었다. 최근 유네스코는 '노예 루트 프로젝트'라는 사업을 추진하면서 이 지역의 노예 관련 유적들에 주목하고 있고, 자연 관광 위주의 아프리카 관광을 벗어나 문화 자원을 활용한 문화 관광의 가능성을 타진하고 있다.



- | | (가) | (나) |
|---|-----|-----|
| ① | A | B |
| ② | A | C |
| ③ | B | A |
| ④ | C | A |
| ⑤ | C | B |

20. (가), (나) 인구 이동에 대한 설명으로 가장 적절한 것은? [3점]



- ① (가)는 자연재해로 인한 환경 난민의 이동이다.
- ② (가)에 의한 이주자들은 주로 광산 노동자로 정착했다.
- ③ (나)는 주로 유럽계 백인이 주도한 강제적 이동이다.
- ④ (나)의 결과 인구 유입 지역에서는 저임금의 노동력이 확보되었다.
- ⑤ (가), (나)에 의한 이주자들은 정착지의 전통문화에 동화되었다.

* 확인 사항
○ 답안지의 해당란에 필요한 내용을 정확히 기입(표기)했는지 확인하십시오.

제 4 교시

사회탐구 영역(동아시아사)

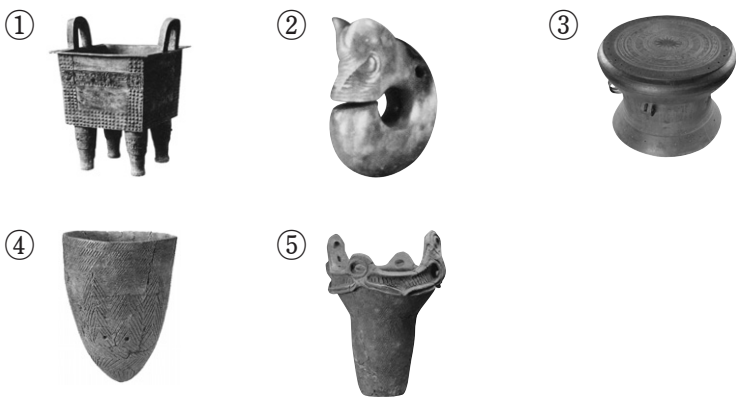
성명

수험 번호

1. (가)에 들어갈 자료로 적절한 것은? [3점]

<○○ 지역의 환경과 고대 문화>

- 범위: 황허 강 중·하류 유역
- 강수량: 연평균 500~1,000mm
- 주요 작물: 기장, 수수, 밀 등
- 대표 유물: (가)



2. (가), (나) 도시에 대한 설명으로 옳은 것을 <보기>에서 고른 것은? [3점]

(가) 개항 이후에 서양 상인이 모여들면서 무역과 금융의 중심지로 성장하였다. 홍콩 및 싱가포르 등과 연결되는 항로가 개설되었고, 1872년에는 영국 상인에 의해 신보가 창간되었다. 현재는 중국 경제의 급속한 성장을 상징하는 도시이다.

(나) 1859년에 개항하면서 빠르게 발전하였고, 1872년에는 도쿄와 연결되는 일본 최초의 철도가 개통되었다. 1890년대 이후 오사카와 고베의 대외 무역량이 증가하면서 이곳의 무역은 점차 쇠퇴하였다.

— <보기> —

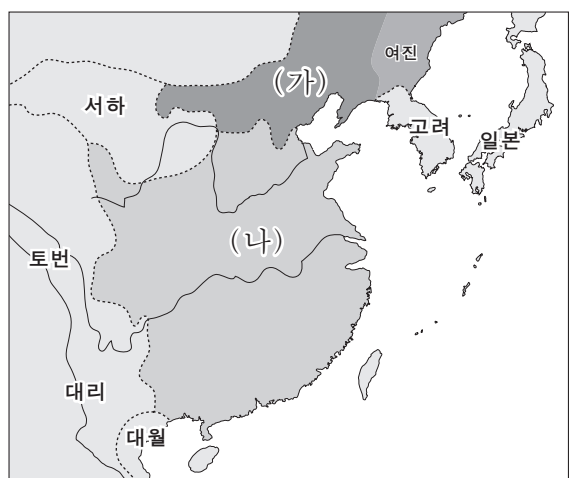
- ㄱ. (가) - 대한민국 임시 정부가 수립된 곳이다.
- ㄴ. (가) - 식민 통치 시기에 신시가지가 조성되어 작은 파리로 불렸다.
- ㄷ. (나) - 일본 최초의 일간지인 요코하마 마이니치 신문이 발간된 곳이다.
- ㄹ. (나) - 에도 시대에 막부가 있던 곳으로 메이지 정부에 의해 수도로 지정되었다.

- ① ㄱ, ㄴ ② ㄱ, ㄷ ③ ㄴ, ㄷ ④ ㄴ, ㄹ ⑤ ㄷ, ㄹ

3. (가) 인물에 대한 설명으로 옳은 것은?

- ① 유학을 장려하였다.
- ② 전국에 군현을 설치하였다.
- ③ 초원 지역의 유목 세계를 지배하였다.
- ④ 야마타이국을 지배하며 위세를 떨쳤다.
- ⑤ 어우 락 왕국을 멸망시키고 남 비엡(남월)을 세웠다.

4. (가), (나) 국가를 둘러싼 국제 관계에 대한 설명으로 옳은 것을 <보기>에서 고른 것은? [3점]

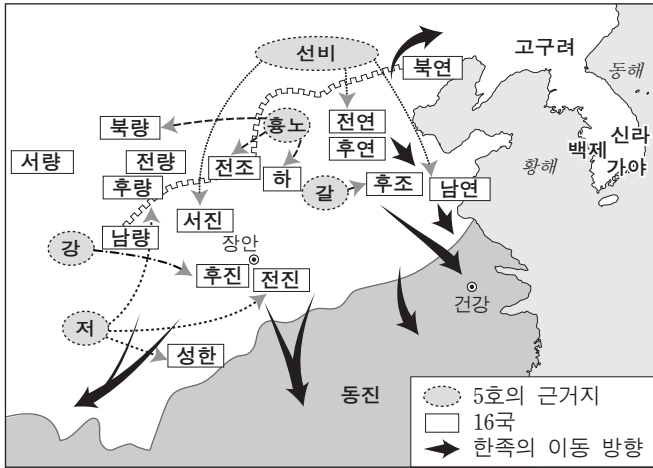


— <보기> —

- ㄱ. (가)는 일본까지 원정하였으나 폭풍우로 인해 실패하였다.
- ㄴ. 고려는 (가)의 거듭된 침공에 굴하지 않고 싸워 이겨 냈다.
- ㄷ. 대월은 쩌 홍 다오의 활약에 힘입어 (나)의 침략을 물리쳤다.
- ㄹ. (나)는 (가)와 형제 관계의 맹약을 맺고 막대한 양의 세폐를 바쳤다.

- ① ㄱ, ㄴ ② ㄱ, ㄷ ③ ㄴ, ㄷ ④ ㄴ, ㄹ ⑤ ㄷ, ㄹ

5. 지도에 나타난 시기의 상황으로 옳지 않은 것은? [3점]



- ① 강남 지방의 개발이 촉진되었다.
- ② 인구 이동이 연쇄적으로 발생하였다.
- ③ 위만이 무리를 이끌고 한반도에 들어와 집권하였다.
- ④ 북방 민족이 화북 지역에 새로운 정권을 수립하였다.
- ⑤ 한족의 이동과 함께 중원 지역의 문화가 각지로 전파되었다.

6. (가)에 들어갈 내용으로 가장 적절한 것은?

수행 평가 계획서

■ 주제: 17~19세기 동아시아의 ○○ 문화


■ 목표: 상품 화폐 경제의 확산과 함께 발달한 ○○ 문화의 특징을 이해한다.

■ 탐구 과제

1. 한국 - 춘향가, 심청가 등 판소리의 유행
2. 중국 - 『서유기』, 『홍루몽』 등 대중 소설의 유포
3. 일본 - (가)

- ① 가부키 등 공연 문화의 성행
- ② 경극 등 다양한 전통극의 유행
- ③ 수상 인형극 등 극예술의 발달
- ④ 만요 가나로 쓰인 시가 작품의 출현
- ⑤ 쓰놈 문자로 쓰인 장편 소설의 등장

7. (가)에 대한 설명으로 옳은 것은? [3점]



(가)은/는 동아시아에서 자신의 문자로 기록을 남긴 최초의 유목 민족이었다. 그들이 몽골 초원에 남긴 비석 중 하나인 쿨 테긴 비에는 중원 사람들의 달콤한 말과 부드러운 비단에 속지 말라는 경고가 새겨져 있다. 한때 중앙 유라시아 초원 지대를 제패했던 그들은 내분 등으로 인해 급격히 쇠락하여 결국 위구르에게 멸망당하였다.

쿨 테긴 비

- ① 한 무제 시기의 대대적인 정벌로 세력이 약화되었다.
- ② 중원 지역을 차지하고 고구려 등과 우호 관계를 맺었다.
- ③ 북주, 북제 등으로부터 조공을 받으며 위세를 떨치기도 하였다.
- ④ 발해를 멸망시킨 후 만리장성 이남 지역까지 영토를 확장하였다.
- ⑤ 서쪽의 호라즘을 정복하여 중앙아시아로 이어지는 교통로를 확보하였다.

8. (가), (나) 조약에 대한 설명으로 옳지 않은 것은? [3점]

(가) 제 5 조 외국의 모든 화폐는 일본 화폐와 같은 종류, 같은 질량으로 통용할 수 있다.

제 6 조 일본인에 대하여 범법 행위를 한 미국인은 미국 영사 재판소에서 조사하여 미국의 법으로 처벌한다.

(나) 제 4 조 조선국은 부산 외에 두 곳의 항구를 개항하고 일본인이 와서 통상하도록 허가한다.

제 10 조 일본인이 조선국 지정의 각 항구에 머무는 동안에 죄를 범한 것이 조선인과 관계되는 사건일 때에는 모두 일본국 관원이 심판한다.

- ① (가) - 메이지 정부가 개정의 대상으로 삼은 조약이었다.
- ② (가) - 미국이 화친 조약 체결 후 자유 무역을 요구함으로써 맺어졌다.
- ③ (나) - 조선이 자주국이며 일본과 동등한 권리를 갖는다고 명기하였다.
- ④ (나) - 일본이 운요호 사건을 계기로 개항을 강요함으로써 체결되었다.
- ⑤ (가), (나) - 영토의 할양과 배상금 지급 조항을 포함하였다.

9. 다음 자료에 나타난 시기의 동아시아 상황으로 옳은 것을 <보기>에서 고른 것은?

- 강남 지방에 조금만 가뭄이 들어도 농사를 망치는 일이 잦아지자, 진중은 푸젠 지방에서 조생종의 일종인 점성도(占城稻) 3만 가마를 가져와 높은 지대의 논에 심게 하였다. 점성도는 가뭄에 잘 견디고 어떤 땅에서도 자랄 수 있다.
- 강남의 쭈저우는 땅이 비옥하여, 벼는 1년에 2번 수확하고 누에는 1년에 8번 기른다. 쭈저우 백성은 버려진 땅과 저습지를 개간하여 벼를 파종하고 채소와 밀·삼·콩을 심는다. …(중략)… “쭈저우와 후저우에 풍년이 들면 천하가 넉넉하다.”라고 하는 것은 쭈저우 백성의 근면함 때문이다.

— <보기> —

- ㄱ. 중국 - 지주 전호제가 발달하는 한편 소농 경영이 보편화되었다.
- ㄴ. 중국 - 농산물이 상품화되면서 운하 등을 통한 원거리 상업이 발전하였다.
- ㄷ. 한국 - 중국 강남 지방으로부터 전래된 모내기법이 전국적으로 확산되었다.
- ㄹ. 일본 - 중국의 징더전 등지에서 생산된 도자기를 감합 무역의 방식으로 수입하였다.

- ① ㄱ, ㄴ ② ㄱ, ㄷ ③ ㄴ, ㄷ ④ ㄴ, ㄹ ⑤ ㄷ, ㄹ

10. 밑줄 친 '강화 조약'에 대한 설명으로 적절하지 않은 것은?

제2차 세계 대전에서 항복한 일본은 미 군정의 지배를 받았다. 미국은 일본의 민주화와 비무장 조치에 중점을 두었다. 그러나 한반도에서 6·25 전쟁이 발발하자 미·일 간에 새로운 협력 체제가 형성되었다. 1951년 9월, 일본은 미국에서 연합국과 강화 조약을 체결하였다.

- ① 한국, 중국 등 피해 당사국이 제외된 채 체결되었다.
- ② 동아시아의 반공망을 강화하려는 미국의 의도가 반영되었다.
- ③ 일본의 주권을 회복시키고 국제 사회로의 복귀를 가능하게 하였다.
- ④ 미군의 일본 주둔을 허용한 미·일 안전 보장 조약과 함께 체결되었다.
- ⑤ 남양(태평양) 군도에 대한 일본의 권익을 인정하는 대신 영·일 동맹을 해체시켰다.

11. 다음 자료에 나타난 사상에 대한 설명으로 옳은 것을 <보기>에서 고른 것은? [3점]

○ 공자께서 말씀하셨다. “백성들을 이끌되 법과 형벌로써 하면 백성들은 형벌을 면하려고만 하고 부끄러움을 모를 것이다. 백성들을 다스리되 덕과 예로써 하면 백성들은 부끄러움을 알아 장차 선에 이를 것이다.”

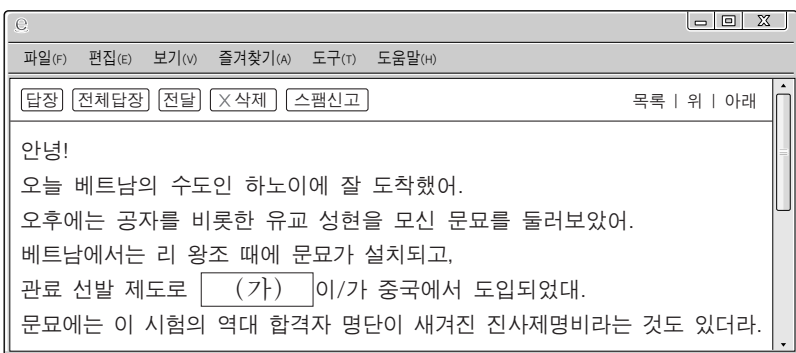
○ 동중서는 황제께 아뢰었다. “제왕은 하늘의 뜻을 받들어 정치를 행해야 합니다. 덕과 교화의 힘을 빌려 다스릴 뿐 형벌의 힘을 빌려 다스리지 않습니다.”

<보기>

ㄱ. 윤회전생을 교리로 삼았다.
 ㄴ. 율령 체계의 정립에 영향을 미쳤다.
 ㄷ. 인재 양성과 관리 선발에 기여하였다.
 ㄹ. 개인적 해탈보다 중생의 구제를 강조하였다.

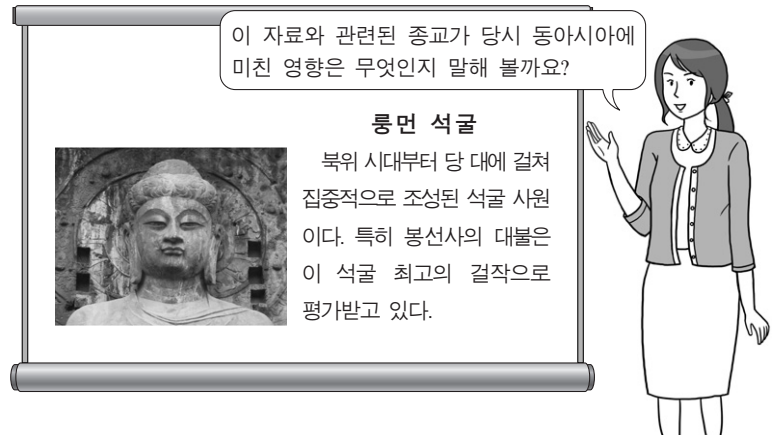
- ① ㄱ, ㄴ ② ㄱ, ㄷ ③ ㄴ, ㄷ ④ ㄴ, ㄹ ⑤ ㄷ, ㄹ

12. (가)와 관련된 설명으로 옳지 않은 것은?



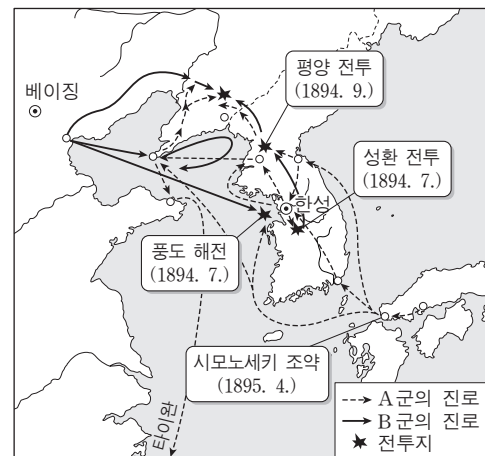
- ① 진·한 대에 중앙 집권 체제를 추구하는 과정에서 정비되었다.
- ② 송 대에는 황제권 강화를 위해 전시가 처음으로 실시되었다.
- ③ 원 대에는 제한적으로 시행되어 관리 등용에서 비중이 낮았다.
- ④ 명·청 대에는 학교 제도와 결합되면서 신사층 형성에 기여하였다.
- ⑤ 고려에서는 광종 때 도입된 후 음서제와 함께 관리 등용 제도로 정착되었다.

13. 교사의 질문에 대한 학생의 대답으로 적절하지 않은 것은? [3점]



- ① 갑: 군주의 권한이 더욱 강화되었어요.
- ② 을: 국가 간의 인적 교류가 활발해졌어요.
- ③ 병: 조각, 건축 등 조형 예술이 발전하였어요.
- ④ 정: 불경의 학습과 함께 한자의 보급이 촉진되었어요.
- ⑤ 무: 사대부가 지배 계층으로 정착하는 데 기여하였어요.

14. 다음 전쟁의 결과에 대한 설명으로 옳은 것은?



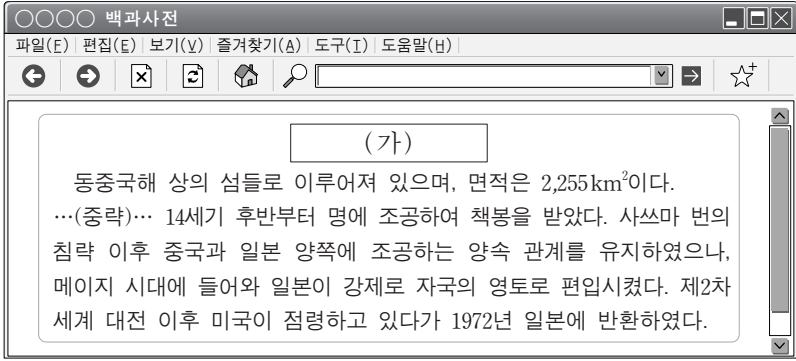
- ① 청은 배상금을 지불하고 타이완을 할양하였다.
- ② 청은 외국 군대가 베이징에 주둔하는 것을 허용하였다.
- ③ 일본과 러시아는 각각 쿠릴 열도와 사할린 섬을 차지하였다.
- ④ 일본은 뤄순, 다렌 두 항구와 남만주 철도 이권을 획득하였다.
- ⑤ 일본은 을사조약을 강요하여 대한 제국을 보호국으로 만들었다.

15. (가)에 대한 설명으로 가장 적절한 것은?

일본에서 요시무네가 새로 쇼군이 된 뒤 사신을 보내왔다. 새로이 막부를 이어 받았으니 전례대로 국서를 교환하여 우호 관계를 돈독히 하자고 청하였다. 그래서 조정에서는 홍치중 등을 (가) (으)로 삼아 일본에 보내게 되었다. 숙종 44년 여름, 홍치중 등은 부산포를 떠나 대마도로 향하였다.
 - 『해유록』 -

- ① 책봉을 하기 위하여 파견된 사절이었다.
- ② 막부로부터 슈인장을 발급받아 활동하였다.
- ③ 매년 막대한 양의 은과 비단을 공물로 받아 왔다.
- ④ 일본이 비단 등 중국산 물자를 수입하는 중요한 창구였다.
- ⑤ 임진 전쟁 이후 일본과 국교가 재개되면서 여러 차례 파견되었다.

16. (가)에 대한 탐구 활동으로 가장 적절한 것은?



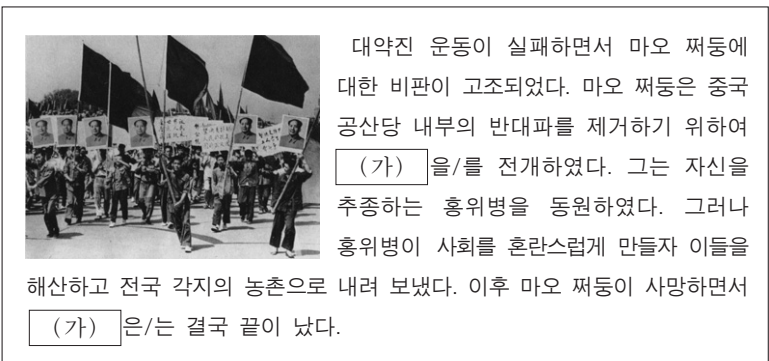
- ① 에스파냐가 전개한 갈레온 무역의 거점을 살펴본다.
- ② 정성공이 반청 운동의 근거지로 삼은 지역을 찾아본다.
- ③ 왜구 문제를 해결하기 위하여 조선이 정벌한 섬을 알아본다.
- ④ 명의 해금 정책 실시 후 중계 무역으로 변영한 지역을 조사한다.
- ⑤ 에도 막부가 네덜란드 인에게 개방하여 교역을 허용한 지역을 파악한다.

17. (가)에 나타난 사상에 대한 설명으로 옳은 것은?



- ① 형이상학적 학문 경향을 비판하고 실증을 중시하였다.
- ② 얇은 실천을 통하여 완성된다는 지행합일을 강조하였다.
- ③ 중국에서는 명·청 대를 통해 관학의 지위를 유지하였다.
- ④ 조선에서는 이황과 이이를 거치면서 이론적으로 심화되었다.
- ⑤ 일본에서는 하야시 라잔에 의해 신분 질서를 강화하는 이념으로 부각되었다.

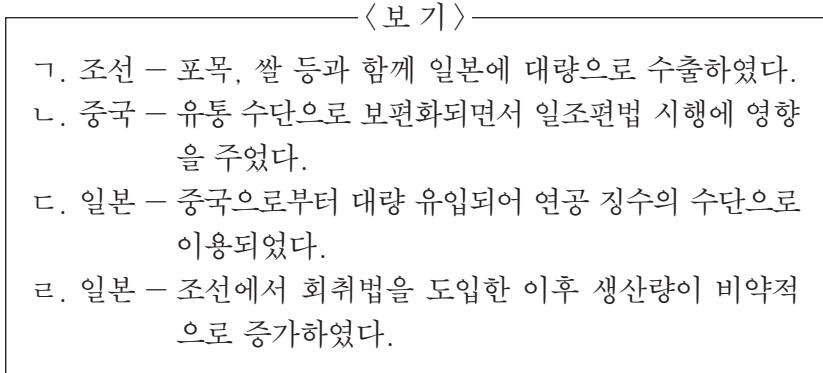
18. (가) 시기 동아시아의 정치 상황으로 옳은 것은? [3점]



- ① 한국 - 부정 선거에 반발해 4·19 혁명이 일어났다.
- ② 중국 - 덩샤오핑이 개혁·개방 정책을 추진하였다.
- ③ 베트남 - 파리 평화 협정의 결과 미군이 철수하였다.
- ④ 타이완 - 계엄령이 해제되고 총통 직선제 개헌이 이루어졌다.
- ⑤ 일본 - '55년 체제'가 붕괴하고 비자민당 연립 정권이 수립되었다.

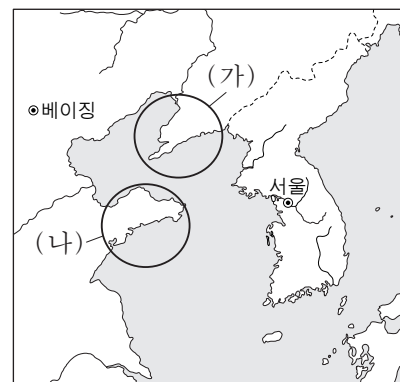
19. (가)에 대한 설명으로 옳은 것을 <보기>에서 고른 것은? [3점]

- 단천의 광산은 개발된 지 2백 년이 지났다. (가)을/를 캐는 비용이 적지 않으나 아직까지도 채굴이 계속되고 있다. 그 이유는 생산량이 제한되어 있어 채굴 비용의 배가 될 정도로 그 가격이 올랐기 때문이다.
- 이와미 광산에 이어, 게이초 12년에는 인나이 광산에서도 다량의 (가)이/가 발견되었다. 이 소문이 인근 지역 뿐만 아니라 먼 곳까지 퍼지면서 각지의 사람들이 매일같이 끊임없이 모여들어 광산 주변은 사람들로 넘쳐 났다.



- ① 가, 나 ② 가, 다 ③ 나, 다 ④ 나, 르 ⑤ 다, 르

20. 지도의 (가), (나) 지역에 대한 설명으로 옳은 것은?



- ① (가) - 난징 조약의 결과 청이 영국에 할양한 지역이다.
- ② (가) - 일본이 중·일 전쟁 발발 후 난징 대학살을 저지른 곳이다.
- ③ (나) - 판 보이 쩌우가 신해혁명 후 베트남 광복회를 조직한 근거지이다.
- ④ (나) - 일본이 독일의 이권을 승계하게 되자 5·4 운동을 통하여 반환을 요구한 지역이다.
- ⑤ (가)는 제1차 아편 전쟁이, (나)는 제2차 아편 전쟁이 일어난 곳이다.


* 확인 사항
○ 답안지의 해당란에 필요한 내용을 정확히 기입(표기)했는지 확인하십시오.

제 4 교시

사회탐구 영역(세계사)

성명 수험 번호

1. 다음 문화유산을 남긴 고대 문명에 대한 설명으로 옳은 것은?



스핑크스는 원래 사자의 몸과 인간의 머리를 가지고 있는 신화 속의 동물이다. 강력한 지배자였던 파라오는 피라미드를 지키는 수호신으로 스핑크스를 세우도록 하였다. 왼쪽 그림의 스핑크스 조각상은 쿠푸 왕의 피라미드 인근에 자리잡고 있다.

- ① 사자의 서를 제작하였다.
- ② 함무라비 법전을 편찬하였다.
- ③ 콜로세움과 수도교를 건설하였다.
- ④ 모헨조다로 등 계획 도시를 세웠다.
- ⑤ 자연 현상을 찬미하는 베다를 만들었다.

2. 다음 자료에 나타난 관료 선발 제도에 대한 옳은 설명을 <보기>에서 고른 것은?

염찬은 계모를 봉양하였는데, 계모는 그를 미워하여 그가 금은보화를 도둑질했다고 관아에 고소하였다. 그래서 염찬은 10여 년 동안 관직에 나아갈 수 없었다. 하지만 원망하는 기색이 없이 더욱 효도를 다하였다. 훗날 계모의 마음이 풀리게 되었고, 염찬은 중정관(中正官)으로부터 원래의 향품(鄉品)을 되찾아 관직에 나아갈 수 있게 되었다.

— <보기> —

- ㄱ. 오경정의가 시험 교재로 이용되었다.
- ㄴ. 문벌 귀족 사회의 형성에 기여하였다.
- ㄷ. 관료 후보자를 9등급으로 나누어 평가하였다.
- ㄹ. 군국제의 실시를 뒷받침하기 위해 도입되었다.


- ① ㄱ, ㄴ ② ㄱ, ㄷ ③ ㄴ, ㄷ ④ ㄴ, ㄹ ⑤ ㄷ, ㄹ

3. 다음 자료에 나타난 제도에 대한 설명으로 가장 적절한 것은? [3점]

부족민 가운데 건장한 사람은 모두 병사가 되었다. 군대가 출병할 때, 지휘관은 맹안, 모크이라고 불렸다. 맹안(천을 뜻하는 '밍간'의 한자어)은 천 명 부대의 지휘관을 말하고, 모크(족장을 뜻하는 '무케'의 한자어)은 백 명 부대의 지휘관이었다. 태조가 즉위한 뒤에는 300호를 모크, 10모크를 맹안이라고 불렀다.

- ① 팔기제의 붕괴 이후에 시행되었다.
- ② 여진족의 독자성 유지에 기여하였다.
- ③ 부병제에서 모병제로 변화하면서 성립되었다.
- ④ 동아시아 문화권을 형성하는 주요한 요소였다.
- ⑤ 유럽과 아시아를 잇는 역참제의 발전에 기여하였다.

4. (가) 인물에 대한 설명으로 옳은 것은? [3점]

제〇〇호	세계사 신문	〇〇년
		
특징: (가), 지배자의 새로운 이미지를 구현하다		
<p>이 조각상의 인물은 카이사르의 양자로서 삼두 정치를 종식시키고 평화와 번영의 시대를 열었다. 이에 원로원은 그의 공로를 기리기 위해서 그에게 아우구스투스라는 칭호를 수여하였다. 한편 그는 국가를 영도하는 성스러운 지도자의 이미지를 선전하기 위해서 자신을 근엄한 대사제의 모습으로 제시하였다. 경건한 종교적 지도자의 모습을 형상화한 이 조각상은 그의 이러한 의도를 잘 보여 주고 있다.</p>		

- ① 아케메네스 왕조 페르시아를 멸망시켰다.
- ② 밀라노 칙령을 통해 크리스티교를 공인하였다.
- ③ 제국을 4분하여 통치함으로써 혼란을 수습하였다.
- ④ 안토니우스와 클레오파트라의 연합 함대를 격파하였다.
- ⑤ 포에니 전쟁에서 승리함으로써 카르타고를 정복하였다.


5. (가) 제국 시기의 교류에 대한 설명으로 옳은 것은? [3점]

지식 검색

지식 ●&A

질문 (가) 제국의 칸이 로마 교황에게 보낸 서신이 아직 남아 있다고 하는데 설명해 주세요.

답변 아래 문서는 구유크 칸이 보낸 것으로 알려져 있습니다. (가)의 군대가 동유럽을 침략하자 로마 교황은 수도사 카르피니를 보내 이들에게 크리스티교 신앙을 권유하였습니다. 이에 대하여 보낸 답신이라고 합니다.



- ① 현장이 대당서역기를 저술하였다.
- ② 제지술이 이슬람 지역에 전파되었다.
- ③ 취안저우가 국제 무역항으로 번성하였다.
- ④ 마테오 리치가 곤여만국전도를 제작하였다.
- ⑤ 인도와 동남아시아를 연결하는 바닷길이 개척되었다.

6. 다음 드라마의 등장인물이 활약하던 시대에 대한 설명으로 옳은 것은? [3점]



- ① 훈고학이 발달하였다.
- ② 갑골문이 출현하였다.
- ③ 균전제가 시행되었다.
- ④ 청담 사상이 나타났다.
- ⑤ 제자백가가 등장하였다.

7. (가), (나) 사이의 시기에 있었던 사실로 옳은 것은? [3점]

(가) 제4대 칼리프 알리는 유프라테스 강 상류에 위치한 싯핀에서 무아위야의 군대와 최후의 결전을 벌이게 되었다. ... (중략) ... 그러나 알리의 추종 세력들이 이탈하고 그를 지지했던 동맹군이 결속력을 상실하자 그의 권위는 실추되고 말았다. 결국 알리는 자신의 본거지였던 쿠파에서 암살당하였다. 이후 권력을 장악한 무아위야는 자신이 칼리프임을 선언하였다.

(나) 시아파의 지원으로 새로운 왕조가 수립된 이후에 제2대 칼리프 알 만수르는 도읍지를 새로 정하고 다음과 같이 선포하였다. “알라의 이름을 찬미하는 나의 백성과 군대를 온전히 부양할 수 있는 곳은 바로 여기 바그다드이다. 이제 각지의 물품들은 유프라테스 강과 티그리스 강, 운하 등을 통해 이 도시로 집결되어 우리에게 풍요로움을 많이 선사해 줄 것이다.”

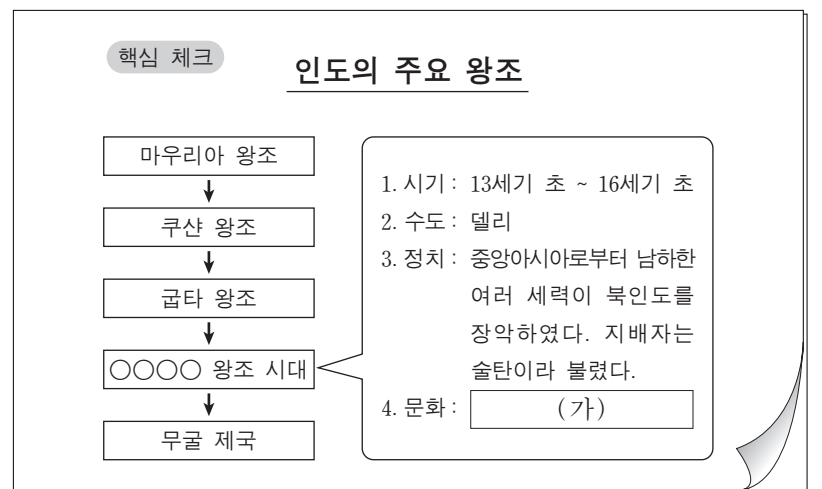
- ① 사산 왕조 페르시아가 멸망하였다.
- ② 군사적 봉건제인 티마르제가 실시되었다.
- ③ 이슬람 세력이 아라비아 반도를 통일하였다.
- ④ 술탄의 친위 부대인 예니체리가 창설되었다.
- ⑤ 이슬람 군대가 투르·푸아티에 전투에서 패배하였다.

8. 밑줄 친 ‘이 전쟁’에 대한 탐구 활동으로 가장 적절한 것은?



- ① 로올라가 예수회를 설립한 배경을 검토한다.
- ② 피핀이 교황에게 토지를 기증한 목적을 살펴본다.
- ③ 트리엔트 공의회에서 결정된 사항에 대해 알아본다.
- ④ 위기에 처한 비잔티움 제국의 대응 방안을 조사한다.
- ⑤ 콘스탄티노폴리스가 이스탄불로 개칭된 이유를 찾아본다.

9. (가)에 들어갈 내용으로 옳은 것은?



- ① 힌두교가 출현하였다.
- ② 이슬람교도가 늘어났다.
- ③ 간다라 미술이 나타났다.
- ④ 산치 대탑이 건설되었다.
- ⑤ 상좌부 불교가 성행하였다.

10. (가)~(마) 시기에 있었던 사실로 옳은 것은? [3점]

프랑스 혁명 연표*

1789	1791	1792	1794	1799	1804
(가)	(나)	(다)	(라)	(마)	
바스티유 함락	입법 의회 개원	공화정 수립	테르미도르 반동	나폴레옹 쿠데타	제정 수립

*혁명 전개 과정의 주요 사건과 그 연도를 표시함.

- ① (가) - 국민 의회가 결성되었다.
- ② (나) - 루이 16세가 처형되었다.
- ③ (다) - 혁명 전쟁이 시작되었다.
- ④ (라) - 총재 정부가 수립되었다.
- ⑤ (마) - 대륙 봉쇄령이 발표되었다.

11. 밑줄 친 '굴욕'의 원인에 대한 설명으로 옳은 것은? [3점]

나 하인리히 4세는 그레고리우스 7세에게 당한 굴욕을 씻고자 귀베르투스를 새 교황에 앉히고 로마로 진군하여 그레고리우스 7세를 권좌에서 축출하였노라.

파문을 철회해 준 은혜를 잊고 나를 쫓아내다니!



- ① 황제가 교회에 성상 숭배 금지령을 내렸다.
- ② 교황이 로마와 아비뇽에서 각각 선출되었다.
- ③ 국왕이 교황과의 대립 과정에서 삼부회를 소집하였다.
- ④ 콘스탄츠 공의회를 통해 실추된 교황권이 회복되었다.
- ⑤ 교황과 황제가 성직자 서임권 문제를 둘러싸고 대립하였다.

[12~13] 다음 자료를 읽고 물음에 답하시오.

군주 전제 정치체제가 오늘날의 세상에 맞지 않는다는 것은 자명하다. 국가를 논하는 자는 그 정치체제가 전제의 성격을 가지고 있는가의 여부에 따라 문명의 높낮이를 판단한다. 20세기에 진실로 새로운 정치체제를 이끌려면 반드시 전제 정치를 남김없이 씻어 내야 한다. 중국이 이전에 여러 차례 혁명을 경험하였으나 좋은 결과를 얻지 못했던 것은 정치체제를 바꾸지 못했기 때문이다. 명나라가 원나라를 이겼으나 3백 년도 못 되어 우리 한족은 다시 쇠퇴하였다. 이제 이민족 정부가 제거되고 한족 정부가 들어선다고 하더라도 여전히 군주 전제 정치체제가 지속된다면 만족할 수 없다.


12. 위 주장에 따른 근대화 운동에 대한 설명으로 옳은 것은? [3점]

- ① 삼민주의를 바탕으로 중화민국을 건설하였다.
- ② 중체서용을 바탕으로 군수 산업을 육성하였다.
- ③ 신식 학당을 개설하고 신군을 창설하는 신정을 실시하였다.
- ④ 입헌 군주제의 수립을 목표로 하는 정치 제도의 개혁을 주장하였다.
- ⑤ 민주주의와 과학 정신의 수용을 주장하는 신문화 운동을 전개하였다.

13. 밑줄 친 '이민족 정부'에 대한 설명으로 옳지 않은 것은?

- ① 변발과 호복 등의 풍습을 한족에게 강요하였다.
- ② 색목인을 우대하여 그들에게 재정 운영 업무를 맡겼다.
- ③ 러시아와 네르친스크 조약을 체결하여 국경선을 정하였다.
- ④ 만한 병용제를 실시하여 한족 관리도 고위직에 등용하였다.
- ⑤ 한족 학자들의 협조를 얻어 사고전서 등의 편찬 사업을 진행하였다.

14. 밑줄 친 '이 나라'에 대한 설명으로 옳은 것은? [3점]



- ① 근대화를 추구하는 동유 운동이 일어났다.
- ② '해방자' 볼리바르가 독립 운동을 주도하였다.
- ③ 아기날도가 무장 조직을 이끌고 독립 운동을 전개하였다.
- ④ 와하브(와하비) 운동이 전개되어 독립 정신이 고취되었다.
- ⑤ 브라모(브라흐마) 사마지 운동으로 민족의식이 고양되었다.

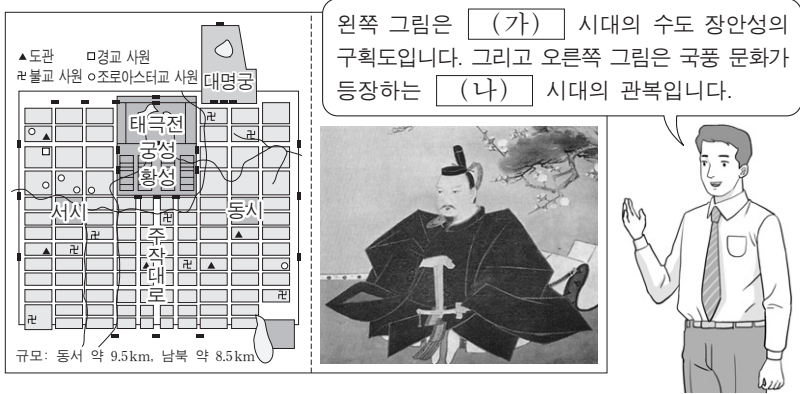
15. (가), (나) 주장에 대한 설명으로 가장 적절한 것은?

(가) 국왕의 권위는 신성하다. 신은 국왕을 자신의 사자로 삼아서 국왕을 통해 지배한다. 우리는 모든 주권이 신으로부터 온다는 것을 안다. 성 바울이 말하기를 "통치자는...(중략)... 공연히 칼을 차고 있는 것이 아닙니다. 그는 신의 심부름꾼으로서 악을 행하는 자들에게 신의 벌을 대신 주는 사람입니다."라고 하였다.

(나) 사람들은 무정부, 공포와 죽음의 상태에서 벗어나기 위해 강력한 정부에 의한 질서를 요구하게 되고, 개인 행동의 자유를 지배자의 손에 맡기기 위한 일종의 합의 내지 계약을 하지 않을 수 없다. 이 경우 지배자에게 무제한의 절대적 권력이 부여되어야 한다. 그렇지 않으면 질서를 유지할 수 없으며 사회는 또다시 '만인의 만인에 대한 투쟁'인 자연 상태로 돌아가기 때문이다.

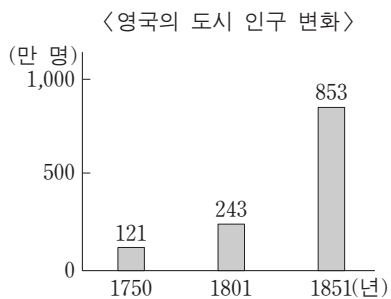
- ① (가) - 청교도 혁명의 사상적 기반이 되었다.
- ② (가) - 로크와 루소에 의해서 계승·발전되었다.
- ③ (나) - 권리 청원의 승인에 기여하였다.
- ④ (나) - 영국 제임스 1세의 지지를 받았다.
- ⑤ (가), (나) - 절대 왕정을 지지하였다.

16. (가), (나) 시대에 대한 설명으로 옳지 않은 것은?



- ① (가) - 중앙 통치 조직으로 3성 6부를 두었다.
- ② (가) - 마니교, 이슬람교 등의 외래 종교가 유행하였다.
- ③ (나) - 고유 문자인 가나가 만들어졌다.
- ④ (나) - 수도를 헤이안쿄로 옮기면서 시작되었다.
- ⑤ (가), (나) - 견당사를 통한 문물 교류가 지속되었다.

17. 그래프에 나타난 변화의 배경으로 가장 적절한 것은?



- ① 인클로저 운동이 전개되었다.
- ② 심사법과 인신 보호법이 제정되었다.
- ③ 3B 정책을 통해 식민지가 확대되었다.
- ④ 노동조합과 사회주의 정당이 등장하였다.
- ⑤ 삼포제가 도입되어 농업 생산성이 증대되었다.

18. (가), (나) 인물에 대한 설명으로 옳은 것은?

(가) 그는 물가가 폭등하고 실업자가 증가하는 사회 혼란을 틈타 파시스트당을 조직하였다. 민족주의 여론을 등에 업고 소시민층에서 인기를 끌게 되자, 당의 행동대인 '검은 셔츠단'을 이끌고 정권을 장악하였다.

(나) 그는 아리안 인종의 우월함을 강조하며 베르사유 체제를 거부하고 재무장을 주장하였다. 그의 국가사회주의 당은 경기 침체로 중산층이 동요하고 사회가 혼란한 상황에서 선거를 통해 제1당이 되고 마침내 권력을 장악하였다.

- ① (가) - 모로코 사태를 일으켜 프랑스와 대립하였다.
- ② (가) - 세계 대공황의 경제 위기 속에 권력을 장악하였다.
- ③ (나) - 인민 전선 정부 구성을 주도하였다.
- ④ (가), (나) - 일본과 협력하여 대외 팽창을 시도하였다.
- ⑤ (가), (나) - 제1차 세계 대전 패배로 인한 혼란을 세력 확대에 이용하였다.

19. 다음 자료에 나타난 시기의 경제 상황에 대한 옳은 설명을 <보기>에서 고른 것은?

신안 강을 젖줄로 삼은 휘저우 지방은 한 명이 유학을 공부하여 관료가 된다면, 상인은 세 명을 배출한다고 할 정도로 많은 상인과 관료를 배출한다. 상인이 되는 것은 많은 이익을 얻기 위함이고, 유학을 공부하는 것은 명성을 높이기 위함이다. 유학을 공부했으나 효과가 없으면 손을 떼고 장사에 힘을 써서 경제적 이익을 누린다. 이들은 각지에 회관과 공소를 세워 상호 이익에 힘쓴다. 하지만 자손이 명성을 날리기를 바란다면 오히려 장사보다는 유학 공부에 힘쓰도록 한다.

— <보기> —

- ㄱ. 세금이 은으로 징수되었다.
- ㄴ. 호족의 대토지 소유가 확대되었다.
- ㄷ. 담배, 고구마 등의 외래 작물이 경작되었다.
- ㄹ. 양쯔 강 하류의 강남 지방이 쌀의 주산지가 되었다.

- ① ㄱ, ㄴ ② ㄱ, ㄷ ③ ㄴ, ㄷ ④ ㄴ, ㄹ ⑤ ㄷ, ㄹ

20. 밑줄 친 '신정부'에 대한 옳은 설명을 <보기>에서 고른 것은? [3점]

한마디로 말하자면, 수세기 동안 이 나라의 정치를 근본적으로 대표해 온 봉건 제도가 이번 칙령에 의해 일거에, 게다가 최종적으로 폐지되었다. 그리고 정부는 지방과 중앙을 불문하고 제국을 통치하는 천황의 권력 아래로 귀속되었다. 이에 반대하는 의견은 어디서도 들리지 않는다. 또한 신뢰할 만한 정보에 따르면 신정부에 의한 이런 통합의 노력을 실질적으로 막으려는 움직임이 있을 가능성도 전혀 없다고 한다.

— 『외국 신문에 비친 일본』 —

— <보기> —

- ㄱ. 차별적 신분 제도를 폐지하였다.
- ㄴ. 국민개병의 징병 제도를 실시하였다.
- ㄷ. 미·일 수호 통상 조약을 체결하였다.
- ㄹ. 존왕양이를 내세워 막부 타도 운동을 전개하였다.

- ① ㄱ, ㄴ ② ㄱ, ㄷ ③ ㄴ, ㄷ ④ ㄴ, ㄹ ⑤ ㄷ, ㄹ

* 확인 사항

○ 답안지의 해당란에 필요한 내용을 정확히 기입(표기)했는지 확인하십시오.

제 4 교시

사회탐구 영역(법과 정치)

성명 _____ 수험 번호 _____

1. 다음은 두 가지 기준에 따라 민주주의의 유형을 분류한 것이다. ㉠~㉣에 대한 설명으로 적절하지 않은 것은?

분류 기준	유형	내용
참여 방식	직접 민주주의	공동체의 정치적 의사를 시민이 직접 결정
	(㉠)	시민이 선출한 대표자들이 국가의 정책을 결정
	(㉡)	시민이 자발적으로 정치 과정에 참여하여 정치적 의사 결정에 영향력 행사
이념	(㉢)	평등보다 자유를 우선시
	(㉣)	자유보다 평등을 우선시

- ① ㉠이 등장한 배경은 국가의 영토 확대와 인구 증가, 사회의 복잡화와 전문화 등이다.
- ② ㉠의 문제점을 개선하기 위해 우리나라에서는 국민 투표와 주민 소환 제도를 채택하고 있다.
- ③ ㉡은 ㉠에 나타난 대표성 부족, 정치적 무관심의 확대와 같은 문제를 개선하기 위해 등장했다.
- ④ ㉢은 개인의 자유를 강조하고 시장 경제와 사유 재산권을 중시한다.
- ⑤ ㉣은 자본주의 경제를 수용하고, 사회 정의를 추구함에 있어 경쟁 원리를 중시한다.

2. 그림에 나타난 법치주의를 보는 갑, 을의 관점에 대한 적절한 추론만을 <보기>에서 있는 대로 고른 것은?



<보기>

- ㄱ. 갑은 정치권력의 합법성뿐 아니라 정당성도 강조할 것이다.
- ㄴ. 갑은 정당성을 상실한 정치권력에 대한 국민들의 저항권을 옹호할 것이다.
- ㄷ. 을은 정치권력이 인간의 존엄과 평등, 정의에 구속되어야 한다고 볼 것이다.
- ㄹ. 을은 법의 절차와 형식을 중요시하지만, 갑은 법의 목적이나 내용까지도 중요시할 것이다.

- ① ㄱ, ㄷ ② ㄱ, ㄹ ③ ㄴ, ㄷ
- ④ ㄱ, ㄴ, ㄹ ⑤ ㄴ, ㄷ, ㄹ

3. (가)~(다)는 근대 정치 사상가의 주장이다. 이에 대한 설명으로 옳지 않은 것은? [3점]

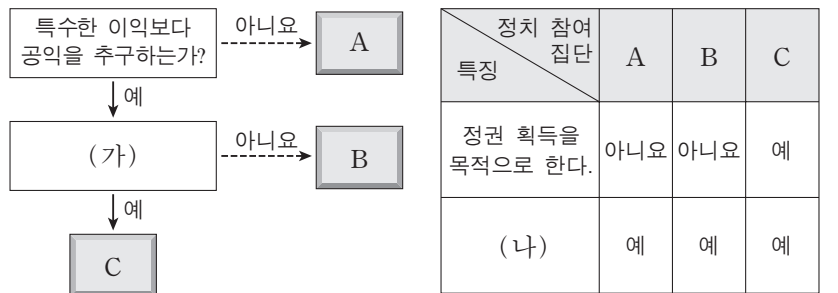
(가) 자연 상태의 인간은 모두가 평등한 상태이기 때문에 오히려 경쟁을 통해 서로를 위협에 빠뜨린다. 따라서 인간은 계약을 통해 정치 사회를 만들어 주권자에게 모든 자연권을 양도하고 그 보호하에 들어감으로써 자신의 안전을 지키고자 한다.

(나) 인간은 태어날 때부터 자유롭지만 스스로 만든 사회 제도나 문화에 의하여 억압당하는 삶을 살고 있다. 이를 벗어나기 위해서는 개인들 간의 자유로운 사회 계약을 통해 일반 의지에 의해 움직이는 국가를 만들어야 한다.

(다) 군주의 권력은 자유롭고 평등한 사람들의 자발적 동의에 의해 형성된 결과물로서 계약에 참가한 사람들의 생명, 인권, 재산을 보호하기 위해 필요하다. 따라서 군주가 자신에게 부여된 것 이상의 권리를 주장하여 애초의 계약을 위반할 경우 인민들은 군주에 반기를 들 권한이 있다.

- ① (가)에서 자연 상태는 인간들이 서로 위협하는 투쟁 상태이다.
- ② (나)에서 일반 의지는 공동체가 공공의 선을 추구하는 의지이다.
- ③ (다)에서 통치자의 권력 행사는 의회의 입법권에 의해 제한 받는다.
- ④ (가), (나), (다) 모두 국가는 목적이 아니라 수단이라는 입장을 취하고 있다.
- ⑤ (가), (다)를 주장한 사상가는 군주 주권론을, (나)를 주장한 사상가는 국민 주권론을 옹호하고 있다.

4. 다음 자료는 정치 참여 집단의 일반적인 특징을 알아보기 위한 것이다. 이에 대한 설명으로 옳은 것은? (단, A~C는 각각 정당, 이익 집단, 시민 단체 중 하나이다.)



- ① A는 의회와 정부를 매개하는 기능을 수행한다.
- ② B는 선거에 후보자를 공천하여 대표자를 배출한다.
- ③ C는 정치 과정에서 여론을 정책화하는 기능을 수행한다.
- ④ (가)에는 '간접 민주 정치의 한계를 보완하는가?'가 적절하다.
- ⑤ (나)에는 '자신들의 행위에 정치적 책임을 진다.'가 적절하다.

5. 다음은 여론에 대한 갑~병의 주장이다. 이에 대한 진술로 가장 적절한 것은?

갑: 대중은 자신의 의견이 우세한 여론에 속하면 강하게 주장하지만, 열세에 속하면 침묵하려 합니다.
 을: 대중 매체는 스스로 중요하다고 생각하는 특정 주제를 자주 보도함으로써 여론을 형성하는 경우가 많습니다.
 병: 현대 사회에서는 정보 통신 기술의 발달로 개인들의 다양한 의견이 여론 형성에 중요한 역할을 합니다.

- ① 갑은 언론의 자유가 보장되어야 함을 강조하고 있다.
- ② 을은 대중 매체의 의제 설정 기능을 언급하고 있다.
- ③ 병은 사회 구성원들의 수동적 태도를 지적하고 있다.
- ④ 병보다 갑은 여론 조사의 신뢰성이 더 높다고 본다.
- ⑤ 병과 달리 을은 여론이 상향식으로 형성된다고 본다.

6. 다음 자료에 대한 분석 및 추론으로 가장 적절한 것은? [3점]

갑국은 의회 선거에서 그래프와 같은 문제점이 지속적으로 발생하자, 이를 보완하기로 정치적 합의를 도출하여 선거 제도의 개혁을 추진하려고 있다. 현재 갑국은 지역 대표만을 선출하고 있으며, 정당은 각 선거구별 한 명의 후보만 공천할 수 있다.

<갑국 의회 선거 결과>

- ① B당, C당에 비해 A당에서 사표가 더 많이 발생했을 것이다.
- ② 현행 선거구 제도에서는 선거구 내 표의 등가성 문제가 발생할 수 있다.
- ③ 유권자들의 투표 참여율을 높이려 할 것이다.
- ④ 대표 선출 방식을 다수 대표제로 변경하려 할 것이다.
- ⑤ 정당 득표율에 따라 의석을 배분하는 제도를 도입하려 할 것이다.

7. 밑줄 친 ㉠~㉣에 대한 진술로 적절하지 않은 것은? [3점]

법률의 제정 및 개정은 입법부의 대표적인 권한이다. 하지만 우리나라의 경우 ㉠ 정부 제출에 의한 입법이 늘어나고, ㉡ 국회가 제출한 법률 중 ㉢ 의결·통과된 법률의 비율은 상대적으로 줄어들고 있다. ㉣ 이러한 현상이 나타나게 된 것은 현대 사회에 접어들어 국가 기능이 확대되고 ㉤ 입법에 있어 고도의 전문성과 기술성이 요구되면서 행정부에 비해 입법부의 기능이 상대적으로 약화되었기 때문이다.

- ① ㉠에서 우리나라 정부 형태에 의원 내각제 요소가 있음을 알 수 있다.
- ② ㉡은 국회의원 10인 이상 또는 국회 상임 위원회가 할 수 있다.
- ③ ㉢을 위해서는 국회 재적 의원 과반수의 찬성이 있어야 한다.
- ④ ㉣에 대해 국회의 입법 기능이 약화되어 대의제 원리가 제대로 실현되지 못한다는 비판이 제기될 수 있다.
- ⑤ ㉤을 확보하기 위한 예로 국회 입법 조사처의 활동 강화를 들 수 있다.

[8~9] 그림을 보고 물음에 답하시오.



8. 위 상황과 관련된 적절한 설명을 <보기>에서 고른 것은? [3점]

— <보기> —

ㄱ. 도로교통법이 갑의 기본권을 제한한 것은 질서 유지를 위한 것으로 목적의 정당성을 충족한다.
 ㄴ. 헌법재판소는 국가가 갑의 권리와 자유를 제한하였지만 그 본질적인 내용을 침해한 것은 아니라고 보았다.
 ㄷ. (나)에서 갑이 침해당했다고 생각하는 기본권은 '기본권 보장을 위한 기본권'으로 수단적 권리의 성격을 갖는다.
 ㄹ. (다)에서 갑은 인간다운 생활을 위해 국가에 일정한 배려를 요구할 수 있는 적극적 권리의 행사를 제안받았다.

- ① ㄱ, ㄴ ② ㄱ, ㄷ ③ ㄴ, ㄷ ④ ㄴ, ㄹ ⑤ ㄷ, ㄹ

9. 위 헌법 재판에 대한 분석 및 추론으로 옳지 않은 것은?

- ① 갑은 형사 재판 중 권리 구제형 헌법 소원을 청구할 수 있다.
- ② 갑이 위헌 법률 심판 제청 신청을 하지 않더라도 법원은 직권으로 제청할 수 있다.
- ③ 법원이 갑의 위헌 법률 심판 제청 신청을 받아들였다면, 헌법 재판은 위헌 법률 심판에 해당한다.
- ④ 법원이 갑의 위헌 법률 심판 제청 신청을 기각했다면, 갑은 위헌 심사형 헌법 소원 심판을 청구했을 것이다.
- ⑤ 헌법재판소는 이륜차 통행을 금지함으로써 얻는 공익이 그로 인해 제한되는 갑의 이익보다 더 크다고 판단했을 것이다.

10. ㉠, ㉡에 대한 옳은 설명을 <보기>에서 고른 것은? [3점]

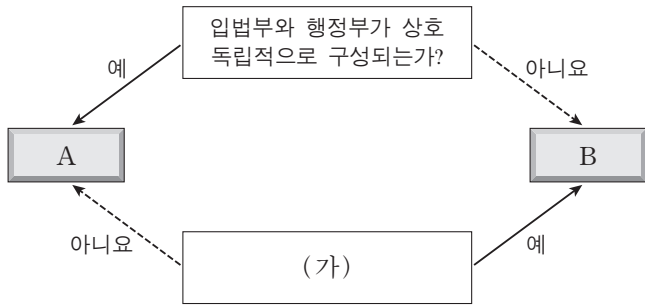
살인 사건이 났다며 112에 허위 신고를 한 갑에 대하여 경범죄처벌법 위반 혐의로 법원에 ㉠ 즉결 심판이 청구되었다. 판사는 심리 결과 갑에 대하여 (㉡)을/를 선고하였다.

— <보기> —

ㄱ. ㉠은 검사의 공소 제기 에 의한 것이다.
 ㄴ. ㉠에서 갑의 변호인 선임권은 보장된다.
 ㄷ. ㉡에 구류는 해당되지 않는다.
 ㄹ. ㉡이 벌금인 경우 피고인의 출석 없이 심판이 가능하다.

- ① ㄱ, ㄴ ② ㄱ, ㄷ ③ ㄴ, ㄷ ④ ㄴ, ㄹ ⑤ ㄷ, ㄹ

11. 그림은 전형적인 정부 형태 A와 B를 분류한 것이다. 이에 대한 옳은 설명을 <보기>에서 고른 것은?




—<보기>—

- ㄱ. A에서 행정부 수반은 국민에 대해 책임을 질 뿐 의회에 대해서는 책임을 지지 않는다.
- ㄴ. B에서 입법부는 내각 불신임권, 행정부는 의회 해산권을 통해 권력의 균형을 유지한다.
- ㄷ. A와 달리 B에서는 행정부 수반의 임기가 보장되기 때문에 정책의 일관성이 유지된다.
- ㄹ. (가)에는 '의원과 각료 간의 겸직이 금지되어 있는가?'가 들어갈 수 있다.

- ① ㄱ, ㄴ ② ㄱ, ㄷ ③ ㄴ, ㄷ ④ ㄴ, ㄹ ⑤ ㄷ, ㄹ

12. 다음 사례와 관련한 옳은 법적 판단을 <보기>에서 고른 것은? [3점]



—<보기>—

- ㄱ. 갑은 자신이 먼저 계약의 의사를 밝혔으므로 계약을 취소할 수 없다.
- ㄴ. 갑의 법정 대리인의 동의 없이도 계약은 일단 유효하나 법정 대리인이 취소하면 계약을 처음부터 없었던 것으로 할 수 있다.
- ㄷ. 을은 갑의 법정 대리인이 계약에 대한 확답을 하기 전에 계약의 효력을 상실시킬 수 있다.
- ㄹ. 을은 갑의 법정 대리인에게 일정 기간을 정해 계약을 취소할 것인지에 대한 확답을 요구할 수 있다.

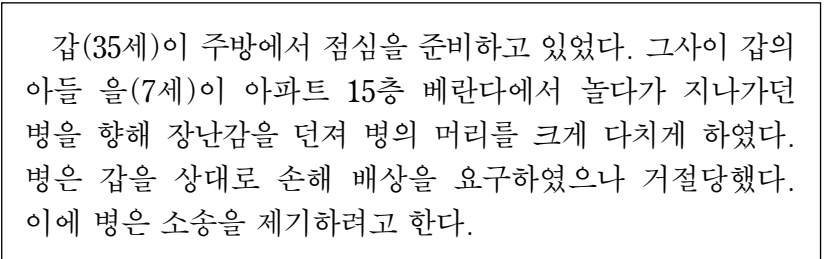
- ① ㄱ, ㄴ ② ㄱ, ㄷ ③ ㄴ, ㄷ ④ ㄴ, ㄹ ⑤ ㄷ, ㄹ

13. 그림에 나타난 형사 절차 (가)~(라) 단계에 대한 설명으로 옳은 것은? [3점]



- ① (가) 단계에서 진술 거부권을 고지하지 않더라도 갑에 대한 신문 조서의 증거 능력은 부정되지 않는다.
- ② (나) 단계에서 송치로 인해 갑은 피의자에서 피고인이 되어 형사 재판의 당사자가 된다.
- ③ 법원의 판결이 배심원 평결과 다른 경우 (다) 단계의 판결서에는 그 이유가 기재되어야 한다.
- ④ (라) 단계에서의 항소 법원은 지방 법원 본원 합의부 또는 고등 법원이다.
- ⑤ 갑이 구속된 경우 (라) 단계에서 판결이 확정되면 갑은 무죄 판결을 한 항소 법원에 배상 명령을 신청할 수 있다.

14. 다음 사례에 대한 옳은 법적 판단만을 <보기>에서 있는 대로 고른 것은?



—<보기>—

- ㄱ. 병은 갑에게 책임 능력이 없는 자에 대한 감독 책임을 물을 수 있다.
- ㄴ. 병은 소송 제기 전에 갑의 부동산에 대한 가압류를 신청할 수 있다.
- ㄷ. 병은 소송 제기 전에 민사 조정 제도를 이용하여 손해 배상을 받을 수 있다.
- ㄹ. 병이 갑에게 민사 책임을 묻기 위해서는 갑 또는 을에게 범죄가 성립되어야 한다.

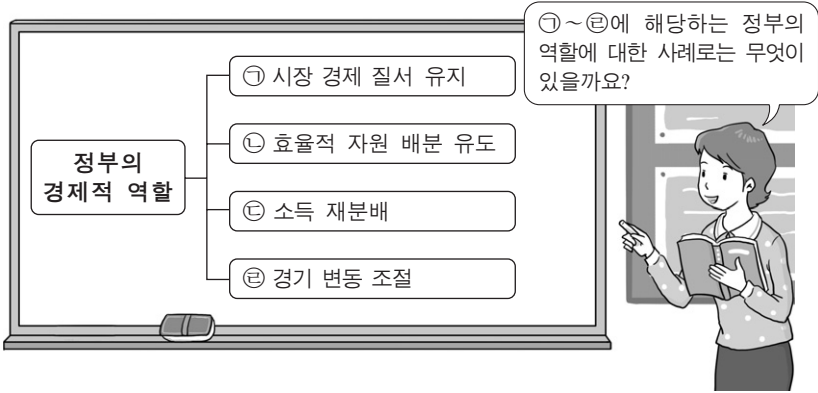
- ① ㄱ, ㄷ ② ㄱ, ㄹ ③ ㄴ, ㄹ
④ ㄱ, ㄴ, ㄷ ⑤ ㄴ, ㄷ, ㄹ

제 4 교시

사회탐구 영역(경제)

성명 수험 번호

1. 그림은 '정부의 경제적 역할' 을 주제로 교사가 수업하는 장면이다. 교사의 질문에 대해 적절한 답변을 한 학생을 <보기>에서 고른 것은?



— <보기> —
 갑: ㉠의 예로는 사유 재산권 보장이 있어요.
 을: ㉡의 예로는 탄소 배출권 거래 시장 조성이 있어요.
 병: ㉢의 예로는 국방 및 치안 서비스 제공이 있어요.
 정: ㉣의 예로는 개발도상국에 대한 원조 제공이 있어요.

- ① 갑, 을 ② 갑, 병 ③ 을, 병 ④ 을, 정 ⑤ 병, 정

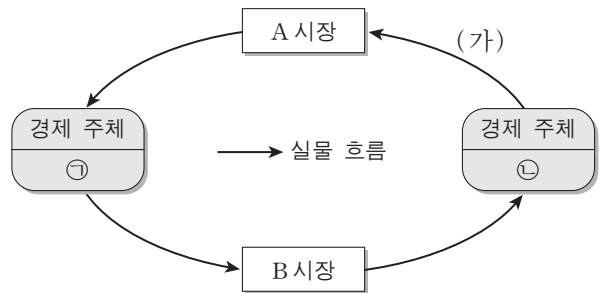
2. 다음 자료에 대한 적절한 설명을 <보기>에서 고른 것은?

㉠ 독감 백신을 접종하는 사람들이 많을수록 독감 인플루엔자의 번식이 억제되어 ㉡ 주변 사람들이 독감에 걸릴 가능성이 줄어든다. 그런데 사람들이 독감 백신의 접종 여부를 결정할 때 자신의 편익만 고려한다면, 사회적으로 ㉢ 비효율적인 결과가 나타날 가능성이 높다. 따라서 정부는 사회적으로 효율적인 결과가 나타날 수 있게 ㉣ 필요한 조치를 취해야 한다.

— <보기> —
 가. ㉠은 ㉡에 부정적 외부 효과를 준다.
 나. ㉢은 사회적 최적 수준보다 독감 백신 접종을 더 적게 받는 현상으로 나타난다.
 다. 보건소의 무료 독감 백신 접종은 ㉣에 해당한다.
 르. 위의 자료와 유사한 사례로 경쟁 시장에서 기업들이 비용 절감을 통해 이윤 극대화를 추구하는 것을 들 수 있다.

- ① 가, 나 ② 가, 다 ③ 나, 다 ④ 나, 르 ⑤ 다, 르

3. 그림은 민간 부문의 경제 순환 모형이다. ㉠, (가), A 시장에 들어갈 경제 개념으로 옳은 것은?



- | | | | |
|---|----|------------|----------|
| | ㉠ | (가) | A 시장 |
| ① | 가계 | 재화와 서비스 | 생산 요소 시장 |
| ② | 가계 | 토지, 노동, 자본 | 생산 요소 시장 |
| ③ | 기업 | 재화와 서비스 | 생산물 시장 |
| ④ | 기업 | 토지, 노동, 자본 | 생산 요소 시장 |
| ⑤ | 기업 | 토지, 노동, 자본 | 생산물 시장 |

4. 밑줄 친 ㉠으로 인해 X, Y, Z재 시장에서 나타날 변화로 옳은 것은? [3점]

X재와 Y재는 서로 보완재이고, X재와 Z재는 서로 대체재이다. 그런데 ㉠ 기술의 발달로 인해 X재의 생산 비용이 낮아졌다. (단, X, Y, Z재 모두 수요와 공급의 법칙을 따른다.)

- ① X재의 가격은 상승한다.
 ② Y재의 거래량은 감소한다.
 ③ Y재 시장의 생산자 잉여는 증가한다.
 ④ Z재의 판매 수입은 증가한다.
 ⑤ Z재 시장의 사회적 잉여는 증가한다.

5. 다음 자료에 대한 분석으로 옳지 않은 것은? [3점]

A사는 소금을 생산하는 기업이다. 소금 1kg당 가격은 1만 원이다. 소금 생산에 드는 비용은 염전 임차료와 노동자에게 지급하는 임금인데, 염전 임차료는 생산량에 관계없이 하루 3만 원이며 노동자 한 명의 일당은 10만 원이다. 아래 표는 하루 노동 투입량에 따른 소금 생산량을 나타낸다. (단, 생산된 소금은 모두 판매된다.)

노동 투입량(명)	1	2	3	4	5
생산량(kg)	9	21	35	46	55

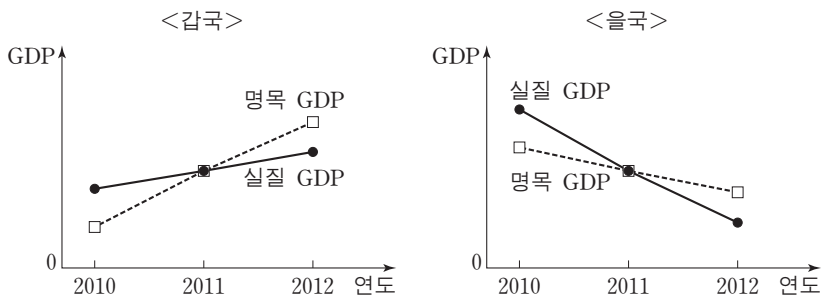
- ① 이윤은 판매 수입에서 염전 임차료와 임금의 합을 뺀 것이다.
 ② 총비용은 노동자 5명을 고용할 경우 가장 크다.
 ③ 소금을 21kg 생산할 경우 이윤은 음(-)이다.
 ④ 하루 최대 이윤은 3만 원이다.
 ⑤ 염전 임차료가 하락하면 이윤 극대화 생산량은 달라진다.

6. 그림에 대한 설명으로 옳은 것은?



- ① ㉠은 생산 활동에 해당하지 않는다.
- ② ㉡은 을이 창출한 부가 가치에 해당한다.
- ③ ㉢은 이윤 극대화를 위한 전략이다.
- ④ 갑은 생산 요소 시장의 수요자이다.
- ⑤ 을이 자신이 만든 피자를 먹는다면 피자는 재화가 아니다.

7. 그림은 갑국과 을국의 GDP 추이를 나타낸다. 이에 대한 분석으로 옳은 것은? [3점]



- ① 두 나라의 2011년 물가 상승률은 0%이다.
- ② 두 나라의 2011년 경제 성장률은 같다.
- ③ 두 나라의 2012년 경제 성장률은 양(+)의 값으로 나타난다.
- ④ 갑국에서는 디플레이션이 나타나고 있다.
- ⑤ 을국에서는 스태그플레이션이 나타나고 있다.

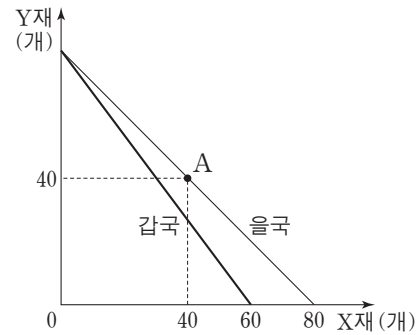
8. 밑줄 친 ㉠이 고용 지표에 미치는 영향으로 옳은 것은?

갑은 대학 졸업 후 오랜 기간 구직 활동을 하다가 자포자기하여 지난 한 달 동안 구직 활동을 단념하였다. ㉠ 그러던 중 우연히 지인의 도움으로 회사에 취직하게 되었다. (단, 15세 이상 인구는 변화가 없다.)

$$* \text{고용률}(\%) = \frac{\text{취업자 수}}{\text{15세 이상 인구}} \times 100$$

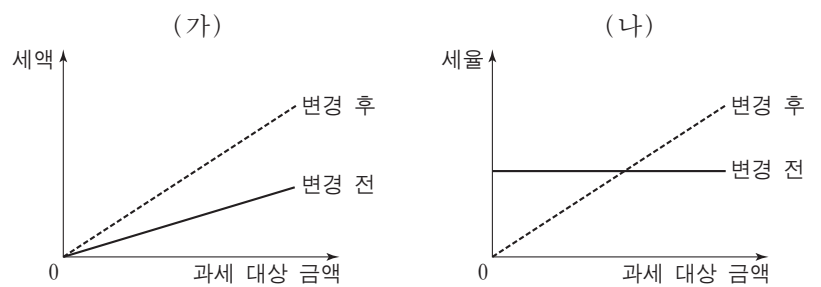
	경제 활동 참가율	실업률	고용률
①	상승	하락	상승
②	상승	불변	상승
③	상승	불변	불변
④	불변	하락	불변
⑤	불변	불변	상승

9. 그림은 X재와 Y재만을 생산하는 갑국과 을국의 생산 가능 곡선이다. 이에 대한 분석 및 추론으로 적절한 것은? (단, 양국의 생산 가능 곡선은 직선이며 생산 요소의 양은 동일하다.) [3점]



- ① 갑국은 A점에서 생산할 수 있다.
- ② 을국의 Y재 최대 생산량은 70개이다.
- ③ 갑국은 Y재 생산에 절대 우위를 갖는다.
- ④ 양국이 교역할 경우 을국은 Y재 생산에 특화한다.
- ⑤ X재와 Y재의 교환 비율이 7:8이라면 양국은 교역에 참여할 것이다.

10. 그림은 세금 부과 방식의 변화를 나타낸다. (가)와 (나)에 해당하는 사례를 <보기>에서 고른 것은? [3점]



— <보기> —

- ㄱ. 모든 상품에 동일한 세율을 적용하던 소비세율을 인상한다.
- ㄴ. 소득의 크기에 따라 세율을 차등 적용하던 소득세를 동일한 세율을 적용하는 방식으로 변경한다.
- ㄷ. 모든 차량 소유주에게 동일한 세액을 부과하던 자동차세를 차량 가격에 비례해 부과하는 방식으로 변경한다.
- ㄹ. 재산의 증가율과 세액의 증가율이 동일하던 재산세를 재산의 증가율보다 세액의 증가율이 더 큰 방식으로 변경한다.

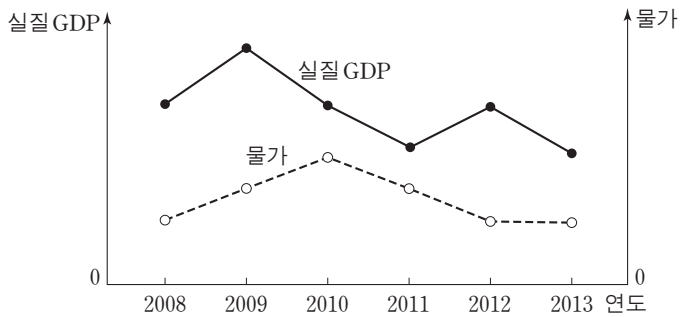
	(가)	(나)
①	ㄱ	ㄷ
②	ㄱ	ㄹ
③	ㄴ	ㄷ
④	ㄷ	ㄹ
⑤	ㄹ	ㄴ

11. 그림에 나타난 두 사람의 의견으로부터 추론할 수 있는 신문 기사의 제목으로 가장 적절한 것은?



- ① 해외로 진학하는 유학생 증가
- ② 외국인의 국내 채권 구입 증가
- ③ 국내 기업들의 해외 투자 축소
- ④ 해외 경기 침체로 대외 수출 감소
- ⑤ 해외 원자재 가격 하락으로 수입 증가

12. 그림은 갑국의 실질 GDP와 물가 추이를 나타낸다. 이에 대한 분석 및 추론으로 적절하지 않은 것은? (단, 총수요 곡선은 우하향, 총공급 곡선은 우상향하며, 2012년과 2013년의 물가는 같다.)



- ① 2009년의 총수요는 전년에 비해 증가했다.
- ② 2009년에서 2010년으로의 변화는 총수요의 감소만으로도 일어날 수 있다.
- ③ 2010년에서 2011년으로의 변화는 총공급의 변화만으로는 일어날 수 없다.
- ④ 2011년에서 2012년으로의 변화는 총공급의 증가로 일어날 수 있다.
- ⑤ 2013년의 총수요와 총공급은 전년에 비해 모두 감소했다.

13. 다음 사례에 대한 분석으로 옳지 않은 것은? [3점]

○ A국의 갑은 증권 회사에서 ㉠주식을 10,000달러어치 매입하여 1년 동안 보유하다가, 500달러의 배당금을 받고 11,000달러에 모두 매각하였다. 갑이 주식을 보유한 1년 동안 A국의 물가는 10% 상승하였다.

○ B국의 을은 증권 회사에서 1년 만기 ㉡채권을 10,000달러어치 매입하여 1년 동안 보유하다가, 만기가 되어 원금과 ㉢이자를 합해 11,000달러를 받았다. 을이 채권을 보유한 1년 동안 B국의 물가는 5% 상승하였다.

단, 양국은 같은 화폐를 사용하고, 세금은 고려하지 않는다.

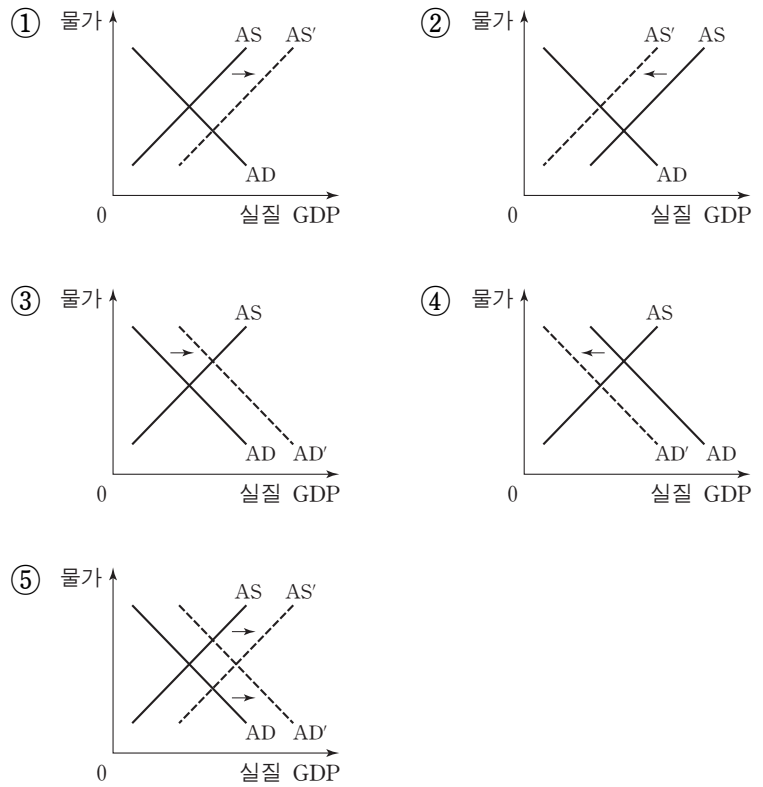
- ① ㉠은 발행한 회사에 대한 소유 지분을 나타내는 증서이다.
- ② ㉡은 발행한 회사가 빌린 돈을 갚기로 약속하는 증서이다.
- ③ ㉢은 채권을 매입하지 않았을 때의 기회비용에 포함된다.
- ④ 1년 후 갑과 을의 구매력은 모두 감소하였다.
- ⑤ 갑과 을은 모두 직접 금융 시장을 통해 거래하였다.

14. 밑줄 친 ㉠의 기대 효과를 나타낸 그림으로 가장 적절한 것은?

○○신문

갑국 정부, 정책 기조 바꾸나

갑국 정부의 지속적인 경기 확장 정책에 힘입어 최근 각종 지표가 크게 호전되고 있다. 이에 따라 갑국 정부는 당초 의도했던 정책 목표를 충분히 달성했다고 판단하고 향후 나타날 수 있는 경기 과열을 막기 위해 ㉠ 통화 공급을 축소하는 긴축 정책을 계획하고 있다.



15. 다음 자료에 대한 적절한 분석 및 추론을 <보기>에서 고른 것은? [3점]

최근 신차를 출시한 A사는 경쟁사인 B사의 신차를 6개월 이내에 구입한 소비자 중 그 차를 팔고 자사의 신차를 구입하는 사람에게 100만 원을 지급하기로 했다. 갑과 을은 모두 6개월 전에 B사의 신차를 구입했는데, 갑은 ㉠ B사의 차를 계속 몰기로 했지만 을은 ㉡ A사의 신차로 바꾸기로 했다.

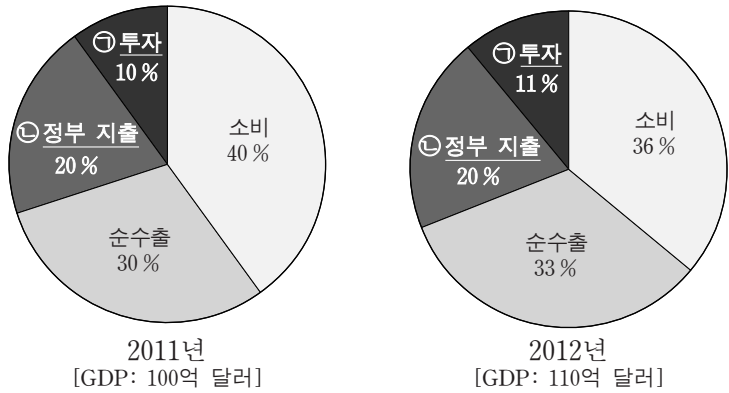
현재 A사의 신차 가격은 2,000만 원이며, 6개월 된 B사의 중고차 가격은 1,700만 원이다. (단, 자동차 관련 세금 및 거래비용은 없다.)

— <보기> —

ㄱ. A사의 신차 가격은 갑의 선택 ㉠에 영향을 주지 않았다.
 ㄴ. 6개월 전 B사의 신차 가격은 을의 선택 ㉡에 영향을 주었다.
 ㄷ. A사가 100만 원을 지급하는 대신 신차 가격을 100만 원 깎아 준다고 해도 갑의 선택 ㉠은 달라지지 않았을 것이다.
 ㄹ. 을이 A사의 신차로부터 얻는 편익과 자신이 보유한 B사의 차로부터 얻는 편익의 차이는 200만 원 이상이다.

- ① ㄱ, ㄴ ② ㄱ, ㄷ ③ ㄴ, ㄷ ④ ㄴ, ㄹ ⑤ ㄷ, ㄹ

16. 그림은 갑국의 GDP 규모와 구성비 변화를 나타낸다. 이에 대한 설명으로 옳지 않은 것은? [3점]



- ① ㉠에는 기업의 연구 개발비가 포함된다.
- ② ㉡에는 정부 소비와 정부 투자가 포함된다.
- ③ 전년 대비 2012년 민간 소비 지출액은 변화가 없다.
- ④ 전년 대비 2012년 정부 지출액 증가율은 GDP 증가율과 같다.
- ⑤ 전년 대비 2012년 수출액의 증가는 수입액의 증가보다 크다.

17. (가)~(라)에 해당하는 적절한 사례를 <보기>에서 고른 것은?

<국제 수지표>

	수취 및 지급	외화 수취	외화 지급
계정			
경상 수지		(가)	(나)
자본·금융 계정		(다)	(라)

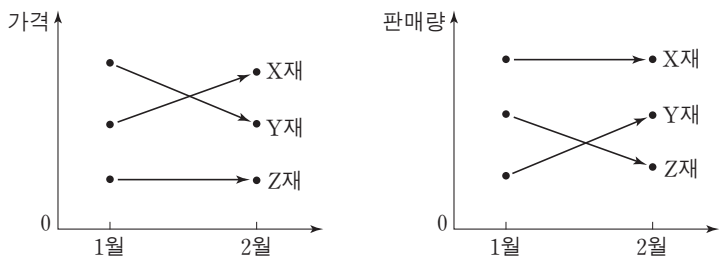
<보기>

ㄱ. (가) - 갑 기업이 휴대 전화를 해외로 수출하였다.
 ㄴ. (나) - 을이 해외 주식 시장에서 외국 A기업 주식을 구입하였다.
 ㄷ. (다) - 국내에 있는 병 자동차 공장을 외국 B기업이 인수하였다.
 ㄹ. (라) - 정 여행사가 단체 관광객의 숙박을 위해 해외 C 호텔을 이용하였다.

* 단, 갑~정은 국내 경제 주체이다.

- ① ㄱ, ㄴ ② ㄱ, ㄷ ③ ㄴ, ㄷ ④ ㄴ, ㄹ ⑤ ㄷ, ㄹ

18. 그림에 나타난 X, Y, Z재 시장의 변화에 대한 분석으로 옳은 것은? (단, Z재 가격과 X재 판매량은 불변이며, X, Y, Z재 모두 수요와 공급의 법칙을 따른다.) [3점]



- ① X재의 수요는 감소했다.
- ② Y재의 공급은 감소했다.
- ③ Z재의 수요는 증가했다.
- ④ X재와 Y재의 공급은 반대 방향으로 이동했다.
- ⑤ X재와 Z재의 수요는 같은 방향으로 이동했다.

19. 다음 자료에 대한 분석으로 옳지 않은 것은?

표는 ○○ 금융 회사가 금융 상품 A~C에 대해 평가한 보고서의 일부이다. 금융 상품에 투자하려는 갑과 을은 이 자료를 바탕으로 각자 자신의 기준에 따라 의사 결정을 하려고 한다.

<금융 상품 평가표>

금융 상품	A	B	C
평가 요소			
안전성	5	1	3
수익성	1	5	3
유동성	4	3	4

* 수치는 최저 1점, 최고 5점을 기준으로 작성되었음.

나는 금융 상품에 투자할 때 수익성만 고려해.

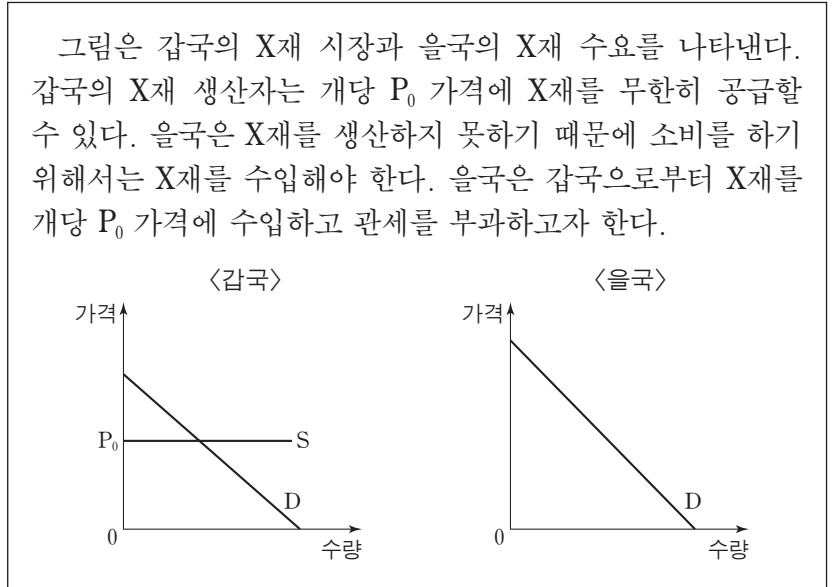
갑

나는 안전성, 수익성, 유동성을 모두 같은 비중으로 고려해.

을

- ① A 상품은 C 상품보다 안전성은 높지만 수익성은 낮다.
- ② B 상품은 요구불 예금보다 주식에 더 가깝다.
- ③ 갑은 B, C, A 상품순으로 선호한다.
- ④ 을은 A 상품과 C 상품을 동일하게 선호한다.
- ⑤ 갑과 을이 가장 선호하는 상품은 동일하다.

20. 다음 자료에서 X재 시장에 대한 분석 및 추론으로 적절한 것은? [3점]



- ① 교역 전 갑국의 생산자 잉여는 소비자 잉여보다 크다.
- ② 교역 전 을국의 소비자 잉여는 0이다.
- ③ 교역을 통해 갑국의 생산자 잉여는 증가한다.
- ④ 교역 전에 비해 교역 후 을국의 사회적 잉여는 감소할 수 있다.
- ⑤ 교역 후 관세가 높을수록 을국의 소비자 잉여는 증가한다.

* 확인 사항
 ○ 답안지의 해당란에 필요한 내용을 정확히 기입(표기)했는지 확인 하시오.

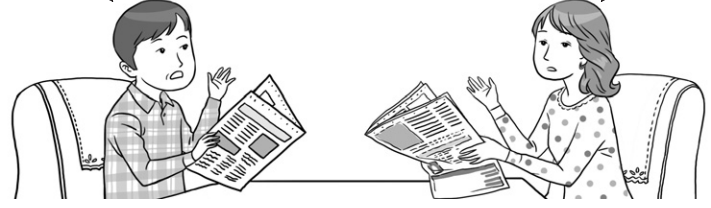
제 4 교시

사회탐구 영역(사회·문화)

성명 수험 번호

1. 밑줄 친 ㉠~㉣과 같은 현상의 일반적 특징에 대한 옳은 설명을 <보기>에서 고른 것은?

폭염과 가뭄으로 ㉠더위에 강한 일본 뇌염 모기가 증가하고 있다고 하는군. ㉡태풍으로 물웅덩이가 증가하면 일반 모기 개체 수도 늘어날 거야. 보건 당국의 ㉢방역 관리가 필요하겠네.



— < 보 기 > —

ㄱ. ㉠과 같은 현상은 ㉡과 같은 현상과 달리 특수성의 원리가 적용된다.
 ㄴ. ㉠과 같은 현상이 원인이 되어 ㉣과 같은 현상이 나타날 수 있다.
 ㄷ. ㉡과 같은 현상은 ㉢과 같은 현상과 달리 개연성과 확률의 원리가 적용된다.
 ㄹ. ㉡과 같은 현상은 존재 법칙, ㉢과 같은 현상은 당위 법칙이 적용된다.

- ① ㄱ, ㄴ ② ㄱ, ㄷ ③ ㄴ, ㄷ ④ ㄴ, ㄹ ⑤ ㄷ, ㄹ

2. 가족을 보는 서로 다른 관점 (가), (나)에 대한 진술로 가장 적절한 것은? [3점]

(가) 사람들이 다른 혈족에서 배우자를 구하는 이유는 무엇일까? 다른 혈족과의 결혼이 우호적인 집단을 넓히고 적대적인 집안과도 동맹을 맺어 가족이 생존하는 데 유리하다고 판단했기 때문이다. 그러므로 근친 간 결혼은 외부와의 결혼에 비해 비합리적인 선택이 된다.
 (나) 산업 사회에서 핵가족이 늘어난 원인은 무엇일까? 산업화에 따라 산업 현장에서 대규모의 노동력이 요구되면서 사람들이 일자리를 찾아 각자의 직장 근처로 이주하게 되었기 때문이다. 그러므로 핵가족은 산업 사회의 중요한 하부 체계이다.

- ① (가) 관점은 가족 구성원 간의 상호 의존을 통한 가족 역할의 재구성을 강조한다.
 ② (나) 관점은 다른 사회 집단과 마찬가지로 가족 또한 구성원 간 권력 관계의 장임을 강조한다.
 ③ (가) 관점은 (나) 관점에 비해 가족 관계에서 얻을 수 있는 보상이 지불해야 하는 비용보다 클 때 가족이 유지됨을 강조한다.
 ④ (나) 관점은 (가) 관점에 비해 가족 구성원 간의 상호 작용을 통해 가족의 생활 경험에 의미를 부여함을 강조한다.
 ⑤ (가) 관점은 가족이 사회 유지에 기여하는 측면, (나) 관점은 가족이 사회 변동에 영향을 주는 측면을 강조한다.

[3~4] 다음 글을 읽고 물음에 답하시오.

(가) 구성원에게 물질적 성공이라는 가치를 고무시키는 사회에서 모두가 이러한 성공에 도달할 수 있는 합법적 수단을 갖는 것은 아니다. 그래서 제도적 수단이 제한적인 하층에서 범죄를 저지를 가능성이 높다. 이를 검증하기 위해서는 계층을 개념화하고 범죄를 유형화하여 이들 간의 상관 관계를 분석하는 ㉠ 연구 방법을 사용해야 한다.
 (나) 범죄도 학습의 산물이다. 친구나 가족으로부터 범죄 태도와 행동을 배운다. 특히 약물 범죄의 경우 약물에 대한 우호적 태도와 사용 기술이 요구되므로 경험자와의 연줄이 중요하다. 이를 파악하기 위해서는 심층 면접을 통해 약물 사용에 동조하고 함께하는 친구와의 연결망을 형성하는 과정을 이해할 수 있는 ㉡ 연구 방법을 사용해야 한다.

3. (가), (나)에 나타난 일탈 이론에 대한 설명으로 가장 적절한 것은?

- ① (가) 이론은 경제 구조의 특성과 그로 인한 계급 간 갈등을 일탈의 원인으로 본다.
 ② (가) 이론은 문화적 목표에 도달할 기회의 제공을 해결 방안으로 중시한다.
 ③ (나) 이론은 무규범 상태를 일탈의 원인으로 본다.
 ④ (나) 이론은 일탈에 대한 규정을 신중하게 하는 것을 해결 방안으로 중시한다.
 ⑤ (가), (나) 이론 모두 일탈을 규정하는 객관적 기준이 존재하지 않는 것으로 본다.

4. 밑줄 친 ㉠, ㉡과 같은 연구 방법의 일반적 특징에 대한 설명으로 옳지 않은 것은? [3점]

- ① ㉠과 같은 방법은 경험적 자료를 통해 연구 대상자의 가치나 태도를 객관적으로 파악하고자 한다.
 ② ㉡과 같은 방법은 직관적 통찰을 통해 주로 인간 행위의 이면보다 행위 자체를 분석하고자 한다.
 ③ ㉠과 같은 방법은 ㉡과 같은 방법에 비해 연구 결과를 일반화할 수 있어 현상에 대한 예측력이 높다.
 ④ ㉡과 같은 방법은 ㉠과 같은 방법에 비해 연구자와 연구 대상자 간의 정서적 교감을 중시한다.
 ⑤ ㉠과 같은 방법은 방법론적 일원론, ㉡과 같은 방법은 방법론적 이원론에 기초하고 있다.

5. 밑줄 친 '이 문화'에 대한 설명으로 옳지 않은 것은?

이 문화의 대표적인 사례로 1960년대 미국을 중심으로 등장한 후 여러 나라로 퍼져 나간 청년 문화를 들 수 있다. 이 청년 문화는 기존 사회 제도에 동조하지 않고, 도덕이나 이성보다는 자연스럽게 자유로운 감성과 즐거움을 추구했다. 이 청년 문화를 추구하는 이들은 긴 머리에 맨발로 다니거나 샌들을 신고, 여러 색깔의 천으로 옷을 만들어 입었다. 또한 베트남 전쟁 참전을 위한 징집을 거부했다.

- ① 사회 변화를 견인하는 역할을 하기도 한다.
- ② 지배 집단에 의해 일탈 문화로 규정되기도 한다.
- ③ 전체 문화에 다양성과 역동성을 제공하기도 한다.
- ④ 해당 집단 구성원의 욕구 해결에 기여하기도 한다.
- ⑤ 전체 사회 구성원의 문화 공유성을 높이기도 한다.

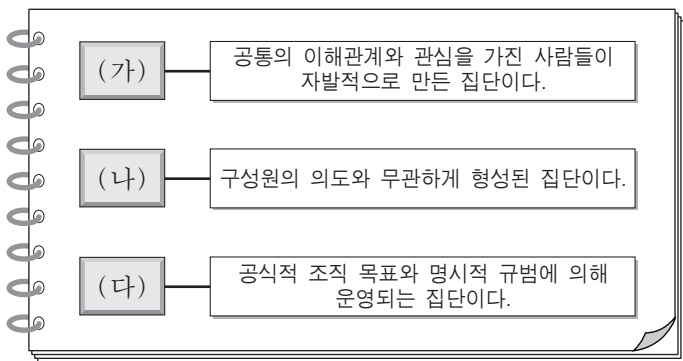
6. (가), (나)에 나타난 문화 이해의 태도에 대한 설명으로 옳지 않은 것은?

(가) 예전에 많은 한국인들은 품질과 상관없이 국산 가전 제품을 하찮게 여기고 수입 가전제품을 동경하였다. 요즘도 의류나 화장품을 선택할 때 한국 제품보다 외국 제품을 동경하는 경향이 있다.

(나) 16세기에 아메리카 대륙으로 이주한 유럽인들은 원주민들을, 서구의 사상을 바탕으로 한 교양을 갖추지 않았다는 이유로 이성을 지닌 인간이 아닌 야수라고 보았다.

- ① (가) 태도는 문화적 주체성을 상실할 가능성이 높다.
- ② (가) 태도는 타문화의 장점을 객관적으로 인식하는 데 기여한다.
- ③ (나) 태도는 문화 제국주의로 변질될 가능성이 높다.
- ④ (나) 태도는 집단 구성원의 결속력을 강화하는 데 일조한다.
- ⑤ (가), (나) 태도 모두 문화 간 우열이 있음을 전제한다.

7. (가)~(다)에 해당하는 사회 집단 유형에 대한 옳은 설명을 <보기>에서 고른 것은? [3점]



가. 시민 단체는 (가), (다) 모두에 해당한다.
 나. (다) 안에 존재하는 (가)는 모두 비공식 조직이다.
 다. (나)는 (다)에 비해 비공식적이고 전인격적인 인간관계가 주로 나타난다.
 르. (가), (나) 모두 구성원의 가입과 탈퇴가 자유롭다.

- ① 가, 나 ② 가, 다 ③ 나, 다 ④ 나, 르 ⑤ 다, 르

8. 사회 조직 유형 (가), (나)의 일반적 특징을 다음과 같이 비교할 때, A와 B에 들어갈 적절한 질문만을 <보기>에서 있는 대로 고른 것은? (단, (가)와 (나)는 각각 관료제와 탈관료제 중 하나이다.) [3점]

질문	사회 조직 유형	
	(가)	(나)
경력보다 업무 성과를 고려한 차등적 보상을 중시하는가?	아니요	예
A	예	아니요
B	아니요	예

—<보기>—

가. 효율적인 과업 수행을 지향하는가?
 나. 의사 결정 권한의 집중보다 분산을 지향하는가?
 다. 조직의 운영에서 유연성보다 안정성을 중시하는가?
 르. 규약에 따른 과업 수행보다 창의적 과업 수행을 중시하는가?

- | | | | | | |
|---|------|---------|---|------|------|
| | A | B | | A | B |
| ① | 가 | 나, 르 | ② | 가, 다 | 나, 르 |
| ③ | 나, 르 | 가, 다 | ④ | 다 | 나, 르 |
| ⑤ | 다 | 가, 나, 르 | | | |

9. 밑줄 친 ㉠~㉨에 대한 설명으로 가장 적절한 것은?

㉠ 화가가 되기를 원했던 갑은 교사가 되기를 바라는 부모의 뜻을 거역하고 싶지 않아 ㉡ 마음이 복잡했다. 그러나 ㉢ 담임교사가 부모를 설득하여 ㉣ 미술 대학 진학을 허락받았다. 그는 서양화과에 지원하려고 했지만 부모는 동양화과를 권유했다. 갑은 부모가 미술 대학 진학을 허락했기 때문에 일단은 ㉤ 동양화과를 가지 않으면 안 된다고 생각했다. 지금 그는 ㉥ 동양화의 대가로 인정받고 있다.

- ① ㉠은 갑의 준거 집단이자 갑의 부모의 준거 집단이다.
- ② ㉡은 역할 갈등이 아니지만, ㉣은 역할 갈등이다.
- ③ ㉢은 ㉠과 달리 후천적 노력에 의해 획득된 지위이다.
- ④ ㉣은 공식적 사회화 기관이면서 1차적 사회화 기관이다.
- ⑤ ㉥은 ㉠으로서 갑의 역할 수행에 대한 보상이다.

10. (가), (나)에서 강조하고 있는 사회·문화 현상의 탐구 태도에 대한 설명으로 가장 적절한 것은?

(가) 연구자는 사회·문화 현상 연구에서 얻은 결과를 확정하려고 고집하기보다는 잠정적 결론으로 보고 다른 연구자의 의견을 고려함으로써 좀 더 타당한 주장이나 결론으로 대체할 수 있음을 인정해야 한다.
 (나) 동일한 사회·문화 현상이라도 시대와 사회에 따라 그 현상이 가지는 의미가 달라질 수 있으므로 연구자는 사회·문화 현상 연구에서 역사적 전통과 사회적 맥락을 충분히 고려해야 한다.

- ① (가)는 현상을 사실 그 자체에 초점을 두어 파악하는 태도이다.
- ② (나)는 타인의 비판을 편견 없이 받아들이는 태도이다.
- ③ (가)는 (나)와 달리 현상에 대한 깊이 있는 성찰을 중시한다.
- ④ (나)는 (가)와 달리 현상이 지닌 고유한 가치에 대한 인정을 중시한다.
- ⑤ (가)는 연구 대상자의 관점, (나)는 제3자의 관점을 중시한다.

11. 다음에 나타난 사회 계층화 현상을 바라보는 관점에 부합하는 진술을 <보기>에서 고른 것은? [3점]

인체를 구성하는 모든 부분들은 인간의 생명 유지를 위해 필요하다. 그런데 심장과 머리카락의 역할이 동일하게 중요한 것은 아니다. 심장이 튼튼한 갈비뼈로 둘러싸여 있는 것은 그것이 인체의 생명 활동과 관련하여 머리카락보다 중요한 역할을 하기 때문이다. 이와 같은 논리로 직업 간에 발생하는 보수의 차이도 그 직업이 갖는 사회적 중요도의 차이로 설명할 수 있다.

—<보기>—
ㄱ. 균등 분배는 사회 구성원의 성취 동기를 저해한다.
ㄴ. 균등 분배는 기존 질서의 유지와 안정에 기여한다.
ㄷ. 균등 분배는 인재의 적재적소 배치에 어려움을 야기한다.
ㄹ. 균등 분배는 사회적 희소 가치를 공정하게 배분하는 기제이다.

- ① ㄱ, ㄴ ② ㄱ, ㄷ ③ ㄴ, ㄷ ④ ㄴ, ㄹ ⑤ ㄷ, ㄹ

12. 밑줄 친 ㉠~㉣에 대한 옳은 설명만을 <보기>에서 있는 대로 고른 것은? [3점]

연구자 갑은 ㉠초등학교 1학년 96명을 선정하여 ㉡성별, 언어 능력 등에서 차이가 나지 않도록 조정하여 4개 집단을 구성하였다. 이를 통해 아동의 ㉢문장 독해력이 ㉣교수법에 따라 차이가 나는지, 특히 상징적 교수법이 더 효과적인지를 파악하고자 하였다. ㉤4개 집단은 각각 상징적, 음성적, 표출적, 해석적 교수법에 따라 동일 기간 학습하였다. 문장 이해 능력 검사를 실시한 결과 상징적 교수법으로 배운 집단이 다른 교수법으로 배운 집단에 비해 ㉥점수가 더 높았다.

—<보기>—
ㄱ. ㉠은 모집단, ㉡은 표본이다.
ㄴ. ㉢은 독립 변수 외의 다른 변수를 통제하기 위한 작업이다.
ㄷ. ㉣은 독립 변수, ㉤은 종속 변수이다.
ㄹ. ㉥은 ㉣을 조작적으로 정의하여 얻은 1차 자료이다.

- ① ㄱ, ㄴ ② ㄱ, ㄷ ③ ㄴ, ㄹ
④ ㄱ, ㄷ, ㄹ ⑤ ㄴ, ㄷ, ㄹ

13. 다음 글을 통해 추론할 수 있는 내용으로 가장 적절한 것은?

A 종교가 국교(國敎)인 사회에서 B 종교 신자는 사회적 소수자가 될 수 있다. 반대로 A 종교 신자는 B 종교가 지배적인 사회에 가면 사회적 소수자가 될 수 있다.

- ① 사회적 소수자는 사회에 의해 규정된다.
② 사회적 소수자는 역차별에 의한 결과이다.
③ 한 사회 안에서 지배 집단이 사회적 소수자가 되기도 한다.
④ 사회적 소수자는 권력 관계보다는 집단의 크기에 의해 결정된다.
⑤ 사회적 소수자의 집단 내에서도 또 다른 사회적 소수자가 존재한다.

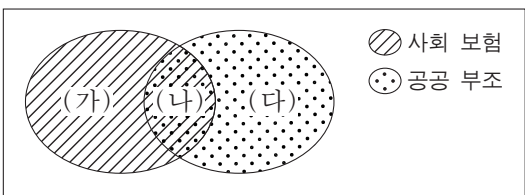
14. 밑줄 친 ㉠~㉣에 대한 옳은 설명만을 <보기>에서 있는 대로 고른 것은?

정보 사회에서는 ㉠뉴미디어가 ㉡전통적인 대중 매체를 대체할 것이라고 기대되었다. 그러나 예전에 비해 줄었지만 전통적인 대중 매체의 영향력은 여전히 크다. 전문가들은 그 이유 중 하나로 ㉢대중의 특성을 거론한다. 전통적인 대중 매체는 수용자가 가만히 있어도 정보를 제공하는데, 뉴미디어는 수용자 스스로 찾아 나서지 않으면 정보 획득이 어렵다. 그래서 대중은 여전히 전통적인 대중 매체에 매력을 느낀다.

—<보기>—
ㄱ. ㉠에는 스마트폰과 소셜 네트워크 서비스(SNS), ㉡에는 신문과 라디오가 해당된다.
ㄴ. ㉠은 ㉡에 비해 정보 전달자와 수용자 간에 상호 작용성이 뛰어나다.
ㄷ. ㉢에서는 ㉠과 달리 수용자별 정보 획득의 비동시성이 나타난다.
ㄹ. 정보 수집에서의 수동적인 성향은 ㉢에 해당한다.

- ① ㄱ, ㄴ ② ㄱ, ㄷ ③ ㄷ, ㄹ
④ ㄱ, ㄴ, ㄹ ⑤ ㄴ, ㄷ, ㄹ

15. 그림은 사회 보험과 공공 부조가 갖는 특징의 공통점과 차이점을 도식화한 것이다. (가)~(다)에 해당되는 내용으로 옳은 것은?



- ① (가) - 수혜자의 수혜 정도에 따라 보험료가 산출된다.
② (가) - 빈곤층의 최저 생활 보장을 목적으로 한다.
③ (나) - 소득 재분배 효과가 나타난다.
④ (다) - 사전 예방적 성격을 갖는다.
⑤ (다) - 상호 부조의 성격을 갖는다.

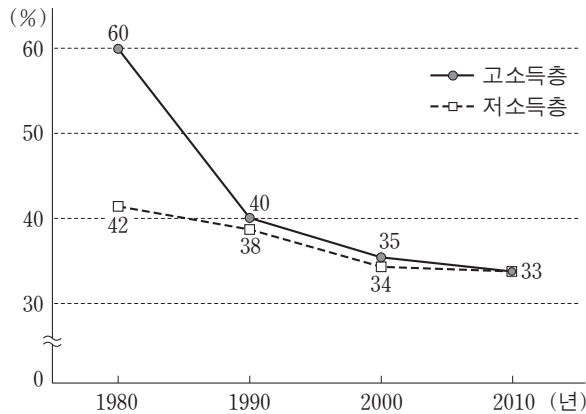
16. 다음은 근대화를 설명하는 한 주장이다. 이에 대한 옳은 진술만을 <보기>에서 있는 대로 고른 것은? [3점]

근대화라는 것은 기술 발전, 공업화, 민주주의, 개인주의의 확산을 가리킨다. 서구 사회가 이를 먼저 이루어냈으므로 근대화와 서구화가 동일시되는 것은 당연하다. 따라서 우리나라의 근대화를 위해서는 서구 사회의 경제 발전 모델뿐만 아니라 서구 사회의 제도와 사고 방식도 배워야 한다.

—<보기>—
ㄱ. 서구화를 진보적인 사회 변동으로 본다.
ㄴ. 근대화를 위한 내부의 자생력 강화를 강조한다.
ㄷ. 서구 강대국의 식민 정책을 정당화하는 근거로 활용될 수 있다.
ㄹ. 전통적 가치와 서구적 가치의 조화를 추구하는 근대화를 강조한다.

- ① ㄱ, ㄴ ② ㄱ, ㄷ ③ ㄴ, ㄹ
④ ㄱ, ㄷ, ㄹ ⑤ ㄴ, ㄷ, ㄹ

17. 그림은 갑국의 고소득층과 저소득층의 남녀 간 평균 임금 격차 추이를 나타낸 것이다. 이에 대한 분석으로 옳은 것은? (단, 고소득층과 저소득층 모두에서 남성 평균 임금은 지속적으로 상승하였다.) [3점]



* 남녀 간 평균 임금 격차(%) = (남성 평균 임금 - 여성 평균 임금) ÷ 남성 평균 임금 × 100

- ① 1980년에 고소득층에서 여성 평균 임금은 전체 평균 임금의 40%이다.
- ② 1990년에 저소득층 여성 평균 임금은 10년 전과 비교하여 4% 증가하였다.
- ③ 1990년 대비 2000년에 고소득층에서 남성 평균 임금의 상승률이 여성 평균 임금의 상승률보다 크다.
- ④ 2010년에 고소득층과 저소득층의 남녀 간 평균 임금의 차이는 같다.
- ⑤ 1980년, 2010년 모두 저소득층에서 여성 평균 임금은 남성 평균 임금의 50%를 넘는다.

18. (가)~(마)에 대한 학생들의 발표 내용으로 옳지 않은 것은? [3점]

○ 과제: 모둠별로 주어진 각각의 다른 '문화의 속성'을 설명하는 데 적합한 주제를 조사하십시오.

○ 모둠별로 제출한 조사 주제

모둠	문화의 속성	조사 주제
1	(가)	조선 시대의 음식에 영향을 준 당시의 유교 문화와 농경 문화
2	(나)	우리나라 청소년 특유의 언어에 대한 청소년과 성인 간 이해 양상의 차이
3	(다)	우리나라의 민간 신앙이 복잡해지고 풍부해진 과정
4	변동성	(라)
5	학습성	(마)

○ 교사의 평가: 모든 모둠이 해당 문화의 속성을 설명하는 데 적합한 조사 주제를 선정했음.

- ① 갑: (가)는 문화 요소들의 연쇄적인 변동을 설명하기에 용이해요.
- ② 을: (나)로 인해 사회 구성원 간의 행동을 이해하고 예측할 수 있어요.
- ③ 병: (다)는 인류 문명의 발달을 가능하게 하는 바탕이 돼요.
- ④ 정: (라)에 들어갈 내용으로 '서로 다른 나라에서 자란 일란성 쌍둥이 형제의 사고 방식 차이 비교'가 적절해요.
- ⑤ 무: (마)에 들어갈 내용으로 '결혼 이주 여성의 거주 지역별 사투리 사용 실태'가 적절해요.

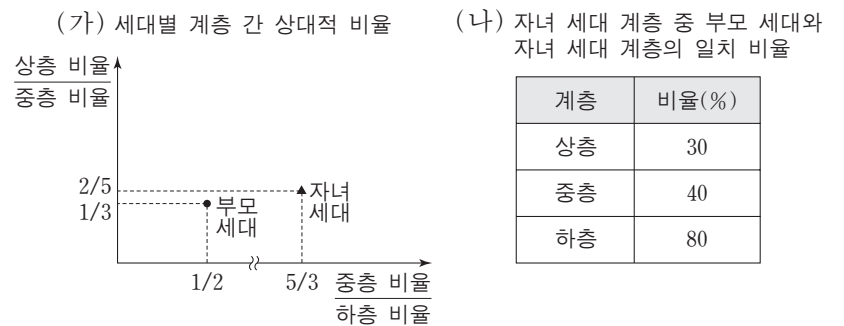
19. (가), (나)에 나타난 문화 변동에 대한 설명으로 가장 적절한 것은?

(가) 과거에 미국의 음악이 라디오나 음반을 통해 한국에 유입되어 인기를 끌게 되면 그 음악을 부른 가수의 팬클럽이 생기고 그 가수가 입은 의상이 유행하였다. 최근에는 한국의 대중 음악이 인터넷을 통해 '한류'라는 이름으로 세계 여러 곳에서 인기를 누리고 있다.

(나) 1990년대 이후 한국 사회에 결혼이나 노동을 위해 유입된 이주민이 증가하면서 그들의 다양한 문화가 확산되고 있다. 이에 따라 한국 사회에서 지배적이었던 단일 민족 사상을 대신해 다문화주의가 중요한 사회적 가치로 받아들여지고 있다.

- ① (가)에서는 직접 전파, (나)에서는 간접 전파가 나타난다.
- ② (가)와 달리 (나)에서는 자극 전파에 따른 문화 변동이 나타난다.
- ③ (나)와 달리 (가)에서는 구성원의 자발성에 기초한 문화 변동이 나타난다.
- ④ 세계화가 진행될수록 (가)보다 (나)에 나타난 문화 변동 요인의 영향력이 커진다.
- ⑤ (가), (나) 모두 외재적 요인에 의한 문화 접변에 해당한다.

20. (가), (나)는 갑국의 부모 세대와 자녀 세대 간 계층 이동을 나타낸 것이다. 이에 대한 옳은 분석만을 <보기>에서 있는 대로 고른 것은? (단, 계층은 상층, 중층, 하층으로만 구분한다.) [3점]



— <보기> —

- ㄱ. 세대 간 이동을 경험한 비율은 50%이다.
- ㄴ. 부모 세대의 계층 대비 계층 대물림 비율은 하층에서 가장 낮다.
- ㄷ. 부모 세대보다 자녀 세대의 계층 구조가 더 안정적이며 개방적이다.
- ㄹ. 세대 간 상승 이동을 한 사람보다 세대 간 하강 이동을 한 사람이 더 많다.

- ① ㄱ, ㄴ ② ㄱ, ㄷ ③ ㄷ, ㄹ
- ④ ㄱ, ㄴ, ㄹ ⑤ ㄴ, ㄷ, ㄹ

* 확인 사항
○ 답안지의 해당란에 필요한 내용을 정확히 기입(표기)했는지 확인하십시오.

2014학년도 대학수학능력시험

사회탐구 영역 정답표
(생활과 윤리) 과목

문항 번호	정 답	배 점	문항 번호	정 답	배 점	문항 번호	정 답	배 점	문항 번호	정 답	배 점
1	③	2	6	②	3	11	④	3	16	①	3
2	④	2	7	③	3	12	⑤	2	17	③	2
3	⑤	2	8	①	3	13	⑤	2	18	①	2
4	④	2	9	④	2	14	②	3	19	④	3
5	②	3	10	①	2	15	②	3	20	⑤	3

2014학년도 대학수학능력시험

사회탐구 영역 정답표 (윤리와 사상) 과목

문항 번호	정 답	배 점	문항 번호	정 답	배 점	문항 번호	정 답	배 점	문항 번호	정 답	배 점
1	①	2	6	④	2	11	②	3	16	③	2
2	①	2	7	④	3	12	①	3	17	③	3
3	②	3	8	⑤	3	13	④	2	18	④	2
4	④	2	9	②	3	14	③	2	19	②	2
5	⑤	3	10	⑤	2	15	②	3	20	③	3

2014학년도 대학수학능력시험

사회탐구 영역 정답표
(한국사) 과목

문항 번호	정 답	배 점	문항 번호	정 답	배 점	문항 번호	정 답	배 점	문항 번호	정 답	배 점
1	①	2	6	④	3	11	①	2	16	⑤	3
2	⑤	3	7	③	3	12	③	3	17	④	2
3	②	2	8	④	2	13	④	2	18	③	2
4	⑤	2	9	⑤	3	14	⑤	3	19	④	2
5	②	3	10	②	2	15	①	3	20	②	3

2014학년도 대학수학능력시험

사회탐구 영역 정답표
(한국 지리)과목

문항 번호	정 답	배 점	문항 번호	정 답	배 점	문항 번호	정 답	배 점	문항 번호	정 답	배 점
1	①	2	6	⑤	2	11	④	2	16	②	2
2	①	3	7	④	3	12	②	3	17	⑤	2
3	③	2	8	③	3	13	②	2	18	③	3
4	①	2	9	⑤	2	14	①	3	19	①	3
5	③	3	10	③	3	15	④	2	20	③	3

2014학년도 대학수학능력시험

사회탐구 영역 정답표
(세계 지리)과목

문항 번호	정 답	배 점	문항 번호	정 답	배 점	문항 번호	정 답	배 점	문항 번호	정 답	배 점
1	④	3	6	③	3	11	②	2	16	②	3
2	④	3	7	④	3	12	①	2	17	③	2
3	②	2	8	②	3	13	①	3	18	①	2
4	①	2	9	④	2	14	②	3	19	④	2
5	⑤	2	10	②	3	15	⑤	2	20	④	3

2014학년도 대학수학능력시험

사회탐구 영역 정답표
(동아시아사) 과목

문항 번호	정 답	배 점	문항 번호	정 답	배 점	문항 번호	정 답	배 점	문항 번호	정 답	배 점
1	①	3	6	①	2	11	③	3	16	④	2
2	②	3	7	③	3	12	①	2	17	②	2
3	②	2	8	⑤	3	13	⑤	3	18	③	3
4	④	3	9	①	2	14	①	2	19	④	3
5	③	3	10	⑤	2	15	⑤	2	20	④	2

2014학년도 대학수학능력시험

사회탐구 영역 정답표 (세계사)과목

문항 번호	정 답	배 점	문항 번호	정 답	배 점	문항 번호	정 답	배 점	문항 번호	정 답	배 점
1	①	2	6	⑤	3	11	⑤	3	16	⑤	2
2	③	2	7	⑤	3	12	①	3	17	①	2
3	②	3	8	④	2	13	②	2	18	④	2
4	④	3	9	②	2	14	③	3	19	②	2
5	③	3	10	④	3	15	⑤	2	20	①	3

2014학년도 대학수학능력시험

사회탐구 영역 정답표 (법과 정치)과목

문항 번호	정 답	배 점	문항 번호	정 답	배 점	문항 번호	정 답	배 점	문항 번호	정 답	배 점
1	⑤	2	6	⑤	3	11	①	2	16	①	3
2	④	2	7	③	3	12	④	3	17	⑤	2
3	⑤	3	8	①	3	13	③	3	18	②	3
4	③	2	9	①	2	14	④	2	19	③	2
5	②	2	10	④	3	15	③	2	20	⑤	3

2014학년도 대학수학능력시험

사회탐구 영역 정답표 (경제) 과목

문항 번호	정 답	배 점	문항 번호	정 답	배 점	문항 번호	정 답	배 점	문항 번호	정 답	배 점
1	①	2	6	③	2	11	④	2	16	③	3
2	③	2	7	⑤	3	12	②	2	17	②	2
3	④	2	8	①	2	13	④	3	18	④	3
4	③	3	9	⑤	3	14	④	2	19	⑤	2
5	⑤	3	10	②	3	15	⑤	3	20	②	3

2014학년도 대학수학능력시험

사회탐구 영역 정답표 (사회·문화)과목

문항 번호	정답	배점	문항 번호	정답	배점	문항 번호	정답	배점	문항 번호	정답	배점
1	④	2	6	②	2	11	②	3	16	②	3
2	③	3	7	②	3	12	③	3	17	⑤	3
3	②	2	8	④	3	13	①	2	18	④	3
4	②	3	9	⑤	2	14	④	2	19	⑤	2
5	⑤	2	10	④	2	15	③	2	20	①	3